

# 新北市立福營國民中學 107 學年度第二學期七年級第二次段考社會科試題

- 從教育政策便可看出國家的發展，因為「教育是國民養成的最主要方式，也是文化傳遞的重要手段。」在日治時期，初等教育畢業後，臺籍學童若想繼續升學，多被鼓勵就讀師範學校、醫學校。這是因為當時的中等教育以何種原則為主？(A)差別待遇(B)隔離原則(C)實用原則(D)同化原則。
- 第一次世界大戰後，在「民族自決」「民主自由」思潮的影響下，臺人展開各種政治與社會運動，試圖爭取平等待遇。1921年8月18日，台籍菁英們起草了臺灣文化協會旨趣書，兩個月後在臺北大稻埕的靜修女子學院（今臺北市私立靜修女中）召開文化協會成立大會，出席人士以醫師、地主、公學校畢業生、學成歸國的留學生為主，共一千多人參加。上述所反映的事實與下列何者較有關？(A)臺人追求民主自由，決心脫離日本統治(B)協會成立目的是為了謀求臺灣文化發展(C)協會最終目標是為了建立臺灣人的國家(D)協會成立時，正好處於皇民化運動時期。
- 承上題，當時有人主張確定民主政治，並創立臺灣史上第一個政黨。請問：此一政黨為何？(A)臺灣民眾黨(B)中國民主黨(C)民主進步黨(D)中國國民黨。
- 明蘭利用寒假期間，前往國立臺灣博物館，參觀臺灣歷史文件的展覽。展場中她看到一張臺灣省戒嚴佈告，這張佈告的內容主要是限制人民哪些方面的自由？(甲)言論(乙)出版(丙)集會(丁)結社(戊)宗教信仰。(A)乙丙丁戊(B)甲乙丙戊(C)甲乙丙丁(D)甲乙丁戊。
- 忠盛與爺爺聊天時，爺爺提到：「我曾在民國六十八年十二月十日參加國際人權日紀念大會。當時憲警和部分與會民眾爆發激烈衝突，許多人因此被捕入獄。此事還一度受到國際媒體的關切呢！」當時發起這個紀念大會的是位於何處的哪家雜誌社？(A)臺北市，蓬萊島雜誌社(B)高雄市，美麗島雜誌社(C)苗栗縣，臺灣民報發行部(D)臺南市，自由中國雜誌社。
- 鴻明看了以二二八事件為題材的電影「悲情城市」後，希望能進一步了解這個歷史事件的始末。請問下列有關「二二八事件」的敘述，何者正確？(A)事件最初發生於臺中市(B)事件並未擴大到其他縣市(C)政府在事後成立臺灣省政府(D)當時政府殺害許多日本籍菁英。
- 承上題，學習歷史可以幫助我們不去重蹈前人的錯誤，「二二八事件」的發生能帶給我們怎樣的啟示或是教訓？(A)嚴格區分各族群，彼此不相往來，才不會發生衝突(B)應迅速以武力鎮壓抗議的民眾，避免事態擴大(C)人民應該用武裝暴動的方式，才能爭取與政府談判的機會(D)各族群應相互尊重包容，才能避免誤解產生。
- 這一份1935年刊載的《台灣日日新報》有一篇針對台北市會及街庄協議會員選舉的報導，請你依據歷史知識判斷這則報導具有什麼意義？(A)受民族自決的影響，日本讓臺灣人實施自治(B)這是臺灣史上首次經由民選方式產生議員(C)這是日本實施皇民化政策所推動的任務之一(D)這是國民政府遷台後，第一次實施的地方選舉
- 臺上正進行歷史課的專題報告，探討主題是「日治時期台灣的社會變遷」，請問下列哪個標語口號不應該出現？(A)「全面禁止吸食鴉片，凡吸食及販賣者皆處死刑」(B)「剪掉辮髮是文明的象徵，也是時髦的表現」(C)「時間就是金錢，時間不等人，請相互守時」(D)「了解法律常識、遵守法律，是優良國民的必備條件」
- 大多數的各國領袖任期多只有兩屆，最多八年，但蔣中正總統卻連任了五屆，任期從民國37年到64年。請問這是因為下列哪一法條所造成的？(A)《戒嚴令》(B)《解嚴令》(C)《法律第六十三號》(D)《動員戡亂時期臨時條款》
- 臺灣某個時期的新式公學校設施雖然較傳統書房普及，但中等以上學校卻普遍不足，導致許多人前往「內地」接受較高階的教育。請問上文所述的「內地」位於何處？(A)中國大陸(B)美國(C)英國(D)日本。
- 「(1)以和平方式平息事件；(2)在台落實高度自治，爭取自由和民主；(3)撤換行政長官公署，改立臺灣省政府(4)廢除專賣局和貿易局。」請問這樣的訴求主張，最有可能是下列哪一組織所提出？(A)臺灣文化協會(B)中國民主黨(C)二二八事件處理委員會(D)民主進步黨。
- 歷史老師在講解臺灣民主發展的歷程，列舉了幾件重大發展大事紀：甲、臺澎地區解除戒嚴；乙、終止動員戡亂時期；丙、首次總統、副總統直接選舉；丁、以縣為單位，實施地方自治。依其發展的先後順序排列，何者正確？(A)甲乙丙丁(B)丁甲乙丙(C)丁丙甲乙(D)乙丁甲丙。
- 「他號召組織『台灣文化協會』，對日治時期的台灣政治社會運動不遺餘力。」「他也曾將慶祝母親大壽所收的禮金作為基金募款，申請設立當時台灣人唯一的中學校，專門招收台灣人。」請問上述兩段文字介紹的是何人的事蹟？(A)林獻堂(B)蔣渭水(C)雷震(D)陳誠。
- 這本雜誌在民國45年10月出刊，封面印著「恭祝總統七十秩華誕」，內容卻是知識份子勸告總統結束獨裁專制、落實民主憲政，由於批判了時政，創辦人並意圖組黨，因此於民國49年遭逮捕並判刑10年。此事件的相關敘述，下列何者正確？(A)這本雜誌是《美麗島》(B)被捕並判刑者是雷震(C)當時的總統是蔣經國(D)目前市面上仍可看到此雜誌發行。
- 清德十分熱心籌組政黨，以實踐個人從政的理想。依照台灣民主政治發展的過程來看，他要到何時才有可能不受黨禁限制，自由組黨參政？(A)台灣光復初期(B)國民政府遷台後(C)白色恐怖時期(D)解除戒嚴後。
- 

年代(西元)	1909	1917	1925	1930	1935	1940	1943
比率(%)	5.5	13.1	27.2	33.1	41.5	57.6	71.3

上表為1909年至1943年間台灣人學齡兒童就學率表。從表中內容來看，1943年之後，台灣人學齡兒童就學百分比大幅增加，這種現象和下列哪一因素有密切關係？(A)六年義務教育的實施(B)台灣人經濟狀況轉好(C)台灣脫離殖民統治(D)台灣文化協會運作的結果。

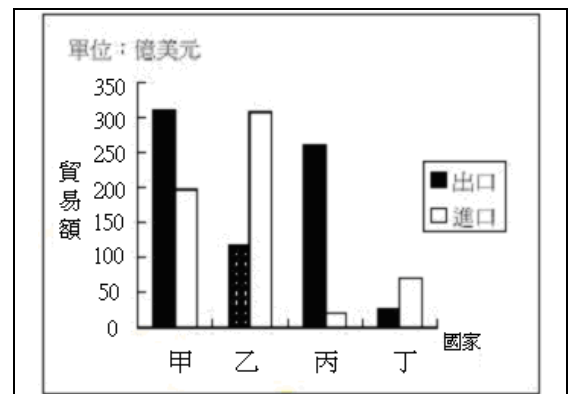
18. 小太陽利用假日和女朋友到故宮博物院，觀賞俄羅斯普希金博物館內收藏的著名風景名畫，後來他們又到故宮二樓的展廳參觀，看到中國歷代皇家御用的瓷器。請問文中畫線部分，中國歷代皇家御用的瓷器，最能看出文化內涵中哪一種層面？  
(A)器物 (B)文明 (C)制度 (D)觀念。
19. 在我國，依《姓名條例》，身分證字號遇到 54、84、74...感覺上唸起來是「死」的諧音，依規定可以申請更改。但是，泰國人正好相反，他們覺得「4」這個數字非常好，會為他們帶來好運。由上述的差異，主要在表達下列何者？(A)社會規範及文化上的差異 (B)文化的高低優劣之分 (C)政治上的不同觀點 (D)宗教信仰的差異性。
20. 母親節到了，報載有位小朋友拿著白包信封寫上「媽咪收」，而裡面紙條也是用白色的，紙條裡畫了個大愛心，然後寫著：「我愛您媽媽，祝您母親節快樂、祝您長生不老」；可是在台灣，白包信封通常是不適合用來寫節慶卡片的，所以引起一些人在網路上爭議並激烈討論著。請問：在臺灣，白包信封通常是不適合用來寫節慶卡片，主要顯示出文化的哪一項特徵？  
(A)創新性 (B)累積性 (C)普遍性 (D)制約性。
21. 一九八六年，義大利人 Carlo Petrini 推動「慢食運動」，強調「慢生活」的本質就是要讓人「悠然自得」，並在工作與生活中適當地放慢速度，以豁達和欣賞的心態來感受周圍的人事物。請問：文中所提的生活態度是屬於文化的哪一個層次？  
(A)器物層次 (B)理念層次 (C)制度層次 (D)實用層次。
22. 電視劇《我們與惡的距離》，故事著重在描繪無差別殺人事件中，加害者與被害人之間不同家屬的心理狀態及產生的行為模式。請問：在社會共同依循的行為準則中，下列敘述何者正確？(A)法律是現代社會維持秩序的必要手段 (B)道德價值所定義的「惡」是最低限度的行為準則 (C)網路鄉民的輿論公審具有強制力 (D)維持自由和諧的社會只需要法律
23. 新北市與臺北市同屬大台北共同生活圈，因此臺北市長柯文哲與新北市長侯友宜協商後，決定讓雙北民眾最快在 5 月底可以垃圾袋互通使用，新北市政府也決定將垃圾費用調降成跟臺北市一樣。請問：雙北市垃圾袋可以互通的做法，是屬於文化哪一層次？(A)公德層次 (B)器物層次 (C)制度層次 (D)理念層次
24. 一個社會的倫理道德，會隨著時代的變遷而改變。現代社會中，群己關係日益重要，因而有強調公共倫理的「第六倫」產生。請問：下列何者屬於「第六倫」的範圍？(A)愛護自家的寵物 (B)吃飯時主動挾菜給自己的女朋友 (C)在圖書館保持安靜不喧嘩 (D)答應朋友的事情要講信用。
25. 在社會生活中，有些社會規範具有強制力。下列哪項敘述符合「具有強制力」這種特性？(A)熱心參與不插電慈善音樂會活動 (B)到廟裡拜拜向神明許願一定要還願 (C)向人求婚時一定要拿出戒指 (D)5 月份要依法誠實繳納所得稅。
26. 買賣交易從過去以物易物的時代，到使用貴金屬、紙鈔作為交易媒介，進步到現在可以用信用卡、電子錢包作為支付工具，使得交易活動更為活絡方便，這種轉變說明文化的哪項特性？(A)制約性 (B)累積性 (C)普遍性 (D)差異性。
27. 文化是人類因應生存需要而發展出來的生活方式。下列何者屬於「文化」的範疇？(A)青蛙用荷葉避雨 (B)地球繞著太陽轉 (C)氫與氧合成變水 (D)魯凱族的石板屋
28. 網路的 LINE 貼圖，最近出現一句新用語「被塑膠」，用來表示「被無視、被當不存在」的意思，也代表 LINE 的訊息被不讀取也不回應；而流行的「skr」則是用來誇讚某人，並代表打從心底佩服、深覺了不起。像這種網路上習慣出現的流行用語，屬於何種文化的表徵？(A)主流文化 (B)次文化 (C)傳統文化 (D)低等文化。
29. 泰雅族的「紋面」文化被早期的漢人貶低為落後與野蠻的象徵。這可說明文化的何種現象？(A)文化傳承 (B)文化推廣 (C)文化創新 (D)文化衝突。
30. 平溪平均每天都有 5、6 千個天燈升空，再加上周邊商品，每年共創造出 1 億 8 千萬的商機，但天燈燃放會造成環境汙染問題，所以由交通大學校友組成的「文化銀行」團隊推出「全紙的環保天燈」，整顆天燈包括支架，都能在天空中燒光，不會留下垃圾。請問：有關「環保天燈」的研發是屬於文化哪一層次？(A)公德層次 (B)器物層次 (C)制度層次 (D)理念層次。
31. 呈上題，為了承襲先人所留下來的智慧，平溪天燈的施放典故由來，經由媒體不斷的傳播介紹，逐漸為世人所矚目，並且成為頗具規模的傳統節慶活動，元宵節「北天燈，南蜂炮」的盛名不逕而走，平溪天燈活動也被國外旅遊頻道 Discovery 票選為「世界第二大節慶嘉年華」。請問：上文劃線內容主要在說明什麼議題？(A)推動文化創新 (B)創造強勢文化 (C)重視文化傳承 (D)消弭文化差異。
32. 在臺灣，端午節吃粽子、中秋節全家團圓是傳統社會中重要的年節習俗。請問：像端午節、中秋節此類年節習俗具有何特性？(A)由政府機關依一定程序制定 (B)藉由超自然力量約束人類 (C)評價善惡是非的標準 (D)長期累積所自然形成的慣例。
33. 周杰倫電影作品「天台」一片，不僅呈現 70 年代復古的中國韻味，又結合的載歌載舞的現代舞風風格，讓國片更加多樣化，也注入了新的能量。如此不同元素的結合，達到了文化的何種現象？(A)文化創新 (B)文化交流 (C)文化同化 (D)文化傳承。

七年級地理科試題(第 34 題~第 50 題)

- 34 阿蘭是彰化縣田尾鄉的玫瑰花農，她想將開發的新品種玫瑰運往臺灣各地的便利商店販售，若依據交通的「機動性」考量，下列哪一項運輸工具最為適當？  
 (A)直升機 (B)輪船 (C)貨車 (D)火車。
- 35 近年來，鳳梨酥成為國人及外國遊客喜愛的伴手禮之一，產值逐年上升。下圖為鳳梨酥產銷過程的示意圖，



- 小鳳的爸爸是某超商的店長，請問小鳳爸爸的職業與上述產業示意圖中那一部分相似？  
 (A)甲 (B)乙 (C)丙 (D)丁。
- 36 承上題，小梅如果在小鳳爸爸工作的店買了一盒鳳梨酥，請問此種購物方式是屬於下列那一種型態？  
 (A)批發 (B)零售 (C)量販 (D)網購。
- 37 如圖一為某年臺灣與甲、乙、丙、丁四個國家的貿易額統計圖。已知臺灣對日本的入超額最大，則何者最可能為日本？ (A)甲 (B)乙 (C)丙 (D)丁。
- 38 讀圖一，那一個國家使臺灣增加了最多的外匯收入？  
 (A)甲 (B)乙 (C)丙 (D)丁。
- 39 「煉鋁的方式為電解生成，需大量的電力消耗，因此取得便宜的電力供應，最能有效降低生產成本。」由此研判，煉鋁工廠屬於何種工廠區位？  
 (A)原料 (B)勞力 (C)動力 (D)市場。



【圖一】

- 40 以台灣為例，下列各產業與其最理想的工業區位配對敘述，何者正確？  
 (A)大熊水泥廠：花蓮大理石原料產區 (B)日昇成衣廠：高雄加工出口區  
 (C)大光製糖廠：新竹內灣 (D)以上皆非。

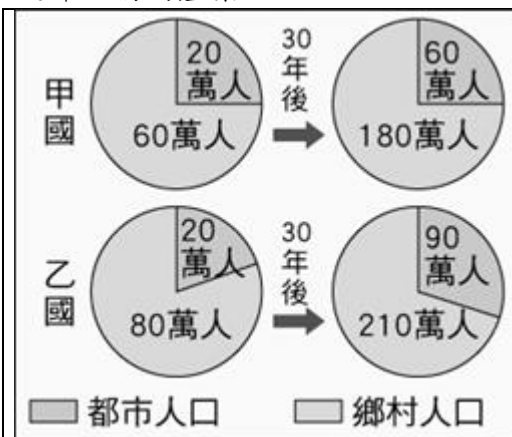
- 41 【圖二】為某工廠設置於甲、乙二地的成本分析，該工廠老闆根據此分析結果，決定將工廠設於乙地，以減少支出。若僅由表中資料判斷，下列何項區位要素是其設廠最主要的考量？  
 (A)原料 (B)市場 (C)勞工 (D)動力。

成本地點	原料運輸	勞工	動力
甲地	500	200	100
乙地	200	180	120
成本地點	產品運輸	其他	/
甲地	200	50	
乙地	300	30	

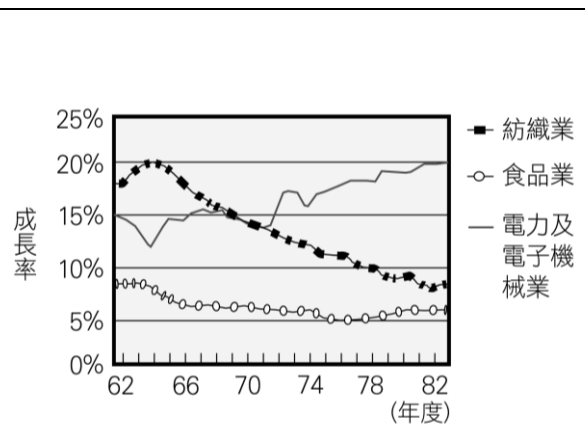
單元：萬元

【圖二】

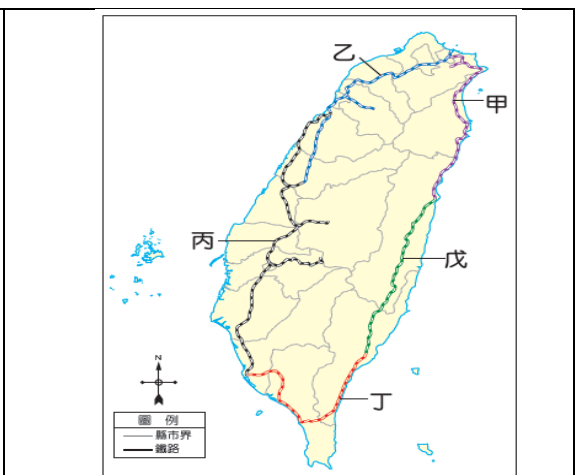
- 42 【圖三】是甲、乙兩國都市人口和鄉村人口占全國人口比例的統計圖。圖中顯示三十年後，甲、乙兩國的都市化程度有何改變？(A) 甲、乙兩國皆提高 (B)甲、乙兩國皆未提高 (C)僅甲國提高 (D)僅乙國提高。
- 43 【圖四】是某地區三種產業歷年平均受雇員工變動圖。讀圖四可知下列敘述何者正確？ (A)60年代的輕工業是以食品加工為主 (B)該地區的產業發展走向技術與資本密集工業增加 (C)蘇菲成衣廠是屬於該區70年代以後，員工需求量逐年上揚的產業。



【圖三】



【圖四】



【圖五】

- 44 圖五是臺灣環狀鐵路分布圖，請問圖中鐵路路線主要呈環狀分布，與下列哪一項因素關係最為密切？  
(A)雨量分布 (B)山脈走向 (C)資源多寡 (D)海岸曲折。
- 45 圖五中那一條鐵路通車完成後，臺灣環島鐵路網宣告完成？  
(A)甲 (B)丁 (C)戊 (D)丙。
- 46 讀圖五可知，四條鐵路支線中最靠近代號丙下方的支線是？  
(A)阿里山線 (B)集集線 (C)內灣線 (D)平溪線。
- 47 承上題，該支線當初主要是為何種運輸需求？  
(A)運送煤礦 (B)運送石灰石 (C)運送木材 (D)運送觀光客。
- 48 小芳和爸爸在街上行走時看見路邊有公路標誌是『盾牌形，藍底白字』，請問他們父女有可能是在下列那一條路上呢？  
(A)新莊區富國路 (B)新莊區中正路 (C)新莊區民安西路 (D)新莊區環河快速道路。
- 49 高雄港腹地廣大主要因為完善的交通，請問下列那一個交通建設影響較不直接？  
(A)國道1號 (B)小港國際機場 (C)西部縱貫線鐵路 (D)蔣渭水高速公路。
- 50 『一府二鹿三艋舺』所說的港口位置，下列何地可以找到其中一個港口呢？ (A)彰化縣 (B)雲林縣 (C)新北市 (D)高雄市。

新北市立福營國中 107 學年度第二學期第二次段考社會科答案

1	2	3	4	5	6	7	8	9	10
C	B	A	C	B	C	D	B	A	D
11	12	13	14	15	16	17	18	19	20
D	C	B	A	B	D	A	A	A	D
21	22	23	24	25	26	27	28	29	30
B	A	C	C	D	B	D	B	D	B
31	32	33	34	35	36	37	38	39	40
C	D	A	C	D	B	B	C	C	B
41	42	43	44	45	46	47	48	49	50
A	D	B	B	B	A	C	B	D	A