

新北市立福營國民中學 107 學年度第二學期第二次段考九年級歷史科題目卷  
請利用答案卡作答

1. 第一次世界大戰後德國的經濟蕭條，通貨膨脹嚴重，導致極權政治興起。請問戰後德國的上述現象與下列哪一個條約的簽訂有直接的關聯？  
(A)馬關條約 (B)凡爾賽條約 (C)德蘇互不侵犯條約 (D)慕尼黑協定
2. 第二次世界大戰中期發生了一個歷史事件，導致美國放棄中立，參加大戰，也使歐亞戰場合流。請問上述是哪一個歷史事件？  
(A)珍珠港事變 (B)諾曼地登陸 (C)德國入侵波蘭 (D)盧溝橋事變
3. 第二次世界大戰結束後，歐洲殖民帝國面臨崩解，出現許多新興國家。請問這些亞非新興國家在二戰後紛紛獨立的主要原因為何？  
(A)列強無法有效管理殖民地 (B)歐美建立緩衝國避免衝突 (C)建立親美政權以圍堵蘇聯 (D)國聯協助殖民地建立政權
4. 承上題。請問這些新興亞非國家獨立後受到美蘇列強的影響，有何種發展？  
(A)建立關稅同盟加強經濟合作 (B)分別加入美蘇集團，強化冷戰局勢  
(C)不加入美蘇集團，組第三世界對抗 (D)都以石油禁運方式牽制歐美國家
5. 「不要繳稅，不要上英國人辦的學校，不要買英國貨」這是第一次世界大戰後，亞洲民族復興運動中哪一位領導人的主張？  
(A)凱末爾 (B)列寧 (C)葉爾欽 (D)甘地
6. 第一次世界大戰後，鄂圖曼土耳其帝國因戰敗而瓦解。當時推動土耳其建立共和政府，與協約國重訂和約，促進土耳其現代化的領導人是下列何者？  
(A)甘地 (B)凱末爾 (C)俾斯麥 (D)加富爾
7. 「本組織成立於 1967 年，會員國有印尼、馬來西亞、菲律賓、泰國。宗旨在於加速本地區的經濟成長、社會進步及文化發展。」請問上述應該是哪一個組織的組成性質？  
(A)東南亞國家國協 (B)北大西洋公約組織 (C)歐洲聯盟 (D)華沙公約組織
8. Helen 到德國的首都旅遊，看到第二次世界大戰後建立起的一道圍牆遺蹟。請問這一道圍牆是哪一個時期的象徵？ (A)第一次世界大戰 (B)戰間期 (C)第二次世界大戰 (D)冷戰時期
9. 十九世紀某位思想家聲稱：「解放工人階級的工作，必須由工人階級自己來克服。」「全世界的工人團結起來吧！」此思想與下列哪一個事件的發生關聯最密切？  
(A)印度的不合作運動 (B)法國大革命 (C)土耳其的復興運動 (D)俄國的列寧革命
10. 第一次世界大戰結束後美國面臨 1930 年代的經濟危機時，採用下列何種方式促進國內經濟活絡？  
(A)無產階級專政 (B)消費帶動經濟 (C)資本主義 (D)自由放任主義
11. 戰間期美國總統羅斯福在經濟力惡化的過程中企圖利用公共投資以減少失業人口。請問這是下列哪一個政策？  
(A)孤立政策 (B)新政 (C)門戶開放政策 (D)姑息政策
12. 英國政府曾經宣言：「贊成在巴勒斯坦為猶太人民建立一個民族家園，並將盡最大的努力達到此目的。」請問此宣言在第二次世界大戰後引發下列哪一個區域性衝突或戰爭？  
(A)韓戰 (B)越戰 (C)以阿衝突 (D)兩伊戰爭
13. 第二次世界大戰期間羅斯福和史達林在某個會議中協議：「中東、南滿鐵路將由中國及蘇聯合組的機構共同經營。並同意蘇聯的特別權益應予保障。」請問這些協議是在下列哪一個會議中達成？  
(A)雅爾達會議 (B)開羅會議 (C)慕尼黑會議 (D)波茨坦會議
14. 第二次世界大戰歐洲戰火尚未點燃之前，英法兩國領袖曾經迫使捷克將蘇臺德區割讓給德國，以換取希特勒不再擴張的承諾。請問這是下列哪一個條約或協定的內容？  
(A)德蘇互不侵犯條約 (B)雅爾達密約 (C)慕尼黑協定 (D)開羅宣言
15. 蘇聯領導人戈巴契夫上臺後的措施對東歐共產勢力及國際局勢均有重大的影響。請問關於戈巴契夫的作為及影響，下列何者正確？  
(A)使東歐共產政權更加穩固 (B)阻礙了東西德的統一  
(C)使蘇聯的政治情況明顯地自由化 (D)使蘇聯的政治情況更趨向極權主義
16. 「為了維護世界和平及亞洲安全，敦促北韓軍隊退回北緯 38 度綫，否則便組織聯合國部隊至韓國作戰。」請問有上述權力與義務的聯合國組織是下列者？  
(A)安全理事會 (B)經濟社會理事會 (C)國際法庭 (D)大會
17. 1962 年蘇聯在加勒比海的島國上部署飛彈，引發美國的海軍封鎖，使得戰爭一觸即發。請問這個冷戰時期的緊張局勢被稱為什麼？  
(A)柏林危機 (B)韓戰 (C)越戰 (D)古巴危機

## 公民科 9 年級試題

18. 行政院農業委員會與印度政府簽署臺、印雙邊農業協議，共同推動農業、園藝、畜牧業、漁業、水產養殖及食品加工等領域之規畫、生產、加工與運銷。請問上述作為是屬於哪種形式的國際互動？
- (A)國際交流 (B)國際合作  
(C)國際援助 (D)國際競爭。

19. 第二次世界大戰結束後，出現了各種區域性組織，其中以經濟合作為起點組成共同體，進一步發行單一貨幣，並曾醞釀走向政治統合的是下列哪一組織？

(A)非洲聯盟 (B)歐洲聯盟  
(C)北美自由貿易區 (D)亞太經濟合作會議。

20. 右表節錄自某則新聞報導，請問：該則報導凸顯出下列哪一項國際重要議題？

(A)全球貧富差距拉大 (B)國際犯罪日益嚴重  
(C)核武攻擊危機升高 (D)人權問題持續存在。

21. 樂施會(Oxfam)是由民間志願人士成立的國際組織，成員來自世界各地，其成立宗旨為共同消除貧窮與社會不公。目前樂施會在超過 90 個國家的基層社區開展扶貧發展和救災工作，亦致力於提倡改善與普及醫療服務和教育。根據上文敘述判斷，樂施會為下列何種類型的國際組織？

(A)全球性的政府組織 (B)全球性的非政府組織  
(C)區域性的政府組織 (D)區域性的非政府組織。

22. 右圖是樂施會在西元 2016 年所做的研究資料。從圖表資料可看出下列哪個世界趨勢？

(A)全球經濟衰退 (B)富豪人數減少  
(C)區域發展失衡 (D)貧富差距擴大。

23. 南美洲國家聯盟是根據《庫斯科宣言》成立的主權國家聯盟，其最終目標是建立一個包括共同貨幣、議會和護照的共同體，加強成員國間在各領域的合作與發展。依上述判斷，該組織的組成性質與下列哪一個國際組織最為相似？

(A)東南亞國協 (B)國際紅十字會  
(C)世界衛生組織 (D)世界展望會。

24. 地球村的時代當中，「城市外交」是活潑又具實質影響力的交流形式。請問：以下何者屬於城市外交？

(A)我國與教廷建立外交關係 (B)臺北市舉辦世界大學運動會  
(C)小明利用出國機會，積極宣傳臺灣風土民情 (D)我國與國際刑警組織合作逮捕洗錢通緝犯。

25. 「飢餓 30 小時」的活動參與者必須捐款 100 元幫助需要被救助的貧困孩童，而透過飢餓的體驗，也能讓參與者產生同理心，培養「人飢己飢、人溺己溺」的精神。由上述敘述判斷，參與飢餓體驗活動最主要的目的為何？

(A)幫助營養過剩的現代人減重 (B)測試人體耐餓的極限  
(C)培養珍惜事物、樂於助人的精神 (D)減少地球糧食的消耗。

26. 右圖是在一場「全球化」議題研討會中陳教授的發言。陳教授發言的主旨，最可能是在強調全球化所造成的何種衝擊？

(A)國家疆域的擴張 (B)區域統合的趨勢  
(C)國際貿易的興盛 (D)強勢文化的擴展。

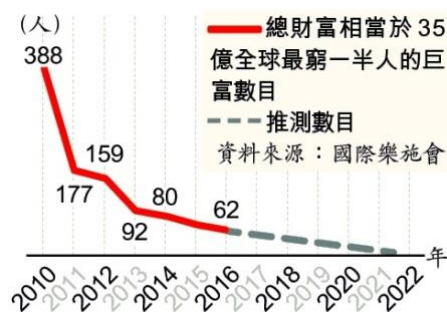
27. 「公平貿易」強調「公平價格的付款」，所謂「公平價格」不只包含了生產成本，同時也應符合社會正義與環保的原則，提供生產者公平的報酬。從上述觀點來看，國際連鎖品牌咖啡店販賣公平貿易咖啡最能達成下列哪個目標？

(A)提升勞工收入 (B)活絡市場交易  
(C)減少國際犯罪 (D)促進文化交流。

28. 老師指定撰寫主題為「全球化」的報告，於是明偉蒐集了相關的報導與資料。下列何項最不適合出現在他的報告內容中？

(A)中國禁止進口塑膠廢棄物，導致歐、美、日等國處理廢棄塑膠的成本激增。  
(B)世界 20 大工業國集團呼籲各國化解貿易歧見，以因應全球經濟衰退的風險。  
(C)台灣茶飲風靡全球，台灣品牌也積極布局，搶攻世界手搖飲料市場的商機。  
(D)除海南島外，非洲豬瘟在中國大陸幾乎全境蔓延，對其民生消費產生衝擊。

西元 2017 年緬甸軍方遭到國內少數民族洛興雅人武裝攻擊後，持續以殺戮、轟炸和大面積縱火對該族進行族群屠殺，導致數十萬洛興雅族難民逃離緬甸湧入孟加拉。緬甸領導人翁山蘇姬因消極默許軍方的「種族清洗」行動而飽受國際抨擊。



「全球化」就是一個「大融合」，例如中國古代就經歷了許多大融合，把它擴大成國與國的融合，就是「全球化」。全球化使得世界各部分更加相互依賴，但這個融合不見得是平等的，往往是國力強大的國家佔優勢。所以在談論全球化的時候，有很多學者更喜歡使用「國際化」、「西方化」、甚至「美國化」來說明「全球化」的現象。

29. 某個政治顧問公司的前員工去年向媒體爆料，該公司非法取得並分析社群網站「臉書」的用戶資料，藉此向中間傾向選民精準投放假新聞以及個人化廣告，以新聞、廣告影響選民決策，確保他們會投票給某位總統候選人。此事件凸顯了社群網站用戶個資的「大數據」運用所造成的民主危機與道德問題。閱聽人面對上述媒體生態，應採取下列哪一種做法最為明智？
- (A)了解媒體廣告收入的來源和價格 (B)根據收視率的高低選看電視節目  
(C)思考媒體所呈現的訊息是否真實 (D)透過大眾輿論主導媒體經營方向。
30. 內政部在其臉書粉絲專頁上推出「部長 QUIZ 反毒篇」影片，由部長以「Q & A」的方式親自宣導反毒，針對「打擊毒品成效、毒品新聞與何謂第三方警政」等面向的問題，解答民眾的疑惑。請問，內政部上述做法主要是展現了大眾傳播媒體的哪些功能？
- (A)休閒娛樂、監督政府 (B)休閒娛樂、提供訊息  
(C)教育文化、提供訊息 (D)教育文化、休閒娛樂。
31. 國際社會成員常有各種互動，請問下列哪一個事件與其他三者的互動模式及影響效果不同？
- (A)南北韓共同發表《板門店宣言》，致力推動朝鮮半島無核化。  
(B)美國對歐盟鋼鋁產品課徵高關稅，歐盟也對美實施報復性關稅。  
(C)美國不顧盟友反對，退出《伊朗核協議》，對伊朗恢復經濟制裁。  
(D)薩爾瓦多與我國斷交，我國全面停止對薩國的合作及援助計畫。
32. 右圖是最近的新聞報導。報導內容最可能是在討論下列哪一項議題？
- (A)全球化的資訊傳播 (B)網路犯罪的嚴重性  
(C)科技與隱私的難題 (D)通訊科技的成長性。
33. 學界研究指出，「自動駕駛車」這項科技能帶來許多正面效益，例如：減少交通阻塞、增加安全性、減少燃油消耗等，但也因具備上述特性，本來無法開車或使用大眾運輸工具的人，將可能大量使用自駕車通勤，反而帶來更多的碳排放和環境汙染。因此，人們不應僅是關注自駕車技術的革新，降低科技可能造成的環境風險也是相當重要的。上述研究提醒世人使用科技時應更注重下列何者的提升？
- (A)倫理價值 (B)生產技術  
(C)自我調適 (D)公平正義。

只是按個讚，你的隱私變成科技巨頭的商品

你也加入社群軟體「#10年挑戰」的熱潮嗎？

當你貼上自己十年前後的對照相片吸引親友按讚的同時，你可能不知，隱私也順便飛走了——你十年來的變化，社群軟體正好可以拿來訓練「AI人臉辨識」的能力；更可能吸引醫美診所、減肥業、交友網站，利用你十年來的「變化」（退後的髮際線、皺紋、福泰的雙下巴），把你列入「TA」（精準行銷對象）。

當消費者勾選「我同意」交換免費服務時，社群軟體或各種隱藏在網頁中的數位行銷程式，即可將用戶的照片與留言等個人隱私資料轉手當成商品賣給第三方，成就了下一筆新的服務與業績。

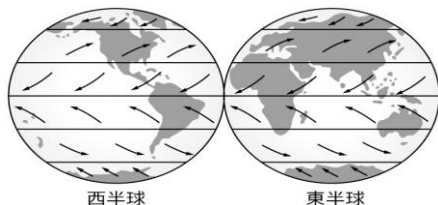
※ 公民試題結束，下頁尚有地理科試題！



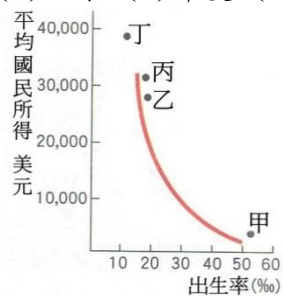
34. 蘇伊士運河可大幅縮短哪兩大海域之間的距離？ (A)印度洋與太平洋 (B)太平洋與大西洋 (C)大西洋與印度洋 (D)太平洋與北極海。
35. 維尼想應徵世界最大珊瑚礁管理員，請問應前往哪個國家面試？ (A)澳大利亞 (B)帛琉 (C)紐西蘭 (D)吐瓦魯。
36. 報載：「2018 年新北市本土登革熱病例不斷攀升，菜園成疫情傳播溫床。新莊區新增 2 例本土登革熱，累計 18 例病例。」以往登革熱疫情多在南部，為何在新北的新莊也傳出多起疫情。請問與何者最有關？ (A)臭氧層破洞 (B)暖化效應 (C)細懸浮微粒濃度 (D)南部鄉親北漂。
37. 全球化不斷擴展，有些地區以一級產業的輸出為主，請問以下哪些地區最為明顯？ (A)北美洲、歐洲 (B)歐洲、亞洲 (C)亞洲、南極洲 (D)非洲、中南美洲。
38. 非洲土地沙漠化加劇，撒哈拉沙漠以南的「撒赫耳」最為嚴重。請問：造成非洲沙漠化加速的主因為何？ (A)灌溉設施不足 (B)全面發展熱帶栽培業 (C)過度放牧及開墾 (D)部落遷徙造成土地廢耕。
39. 每年八大工業國開會期間，場外總有許多人前往抗議「全球化」。主要是基於全球化引起那一問題而反對？(A)高科技造成罹癌率上升 (B)愛滋病傳染 (C)貧富差距擴大 (D)生物多樣性消失。
40. 「歐元區財長同意發放希臘 85 億歐元的紓困貸款，讓希臘免於違約，而某『全球性的經濟組織』也同意加入紓困，但也給予條件希望希臘能完成改革，改善嚴重的債務問題。」請問：此新聞提到的全球性經濟組織最可能為下列何者？ (A)世界貿易組織 (B)世界銀行集團 (C)聯合國 (D)國際貨幣基金。
41. 非洲的經濟發展與其他各洲相較顯得緩慢，且因外來文化不易傳入，居民長期維持原始的生活型態。請問：下列何項敘述，與造成非洲發展落後的原因較無關？ (A)海岸陡直少良港 (B)位置遺世而獨立 (C)沙漠橫互難深入 (D)多急流瀑布不利航行。
42. 亞洲經濟版圖，隨著中國的生產成本提高，東南亞逐漸成為許多跨國企業投資設廠的首選。上述情形最主要是因為東南亞具有下列何種區位優勢？ (A)市場 (B)勞力 (C)動力 (D)交通。
43. 以世界經濟分工來分析開發中國家與已開發國家的關係，則下列哪兩幅圖(圖中箭頭表示輸出流向)最適合表達此概念？ (A)甲乙 (B)甲丙 (C)乙丙 (D)丙丁。



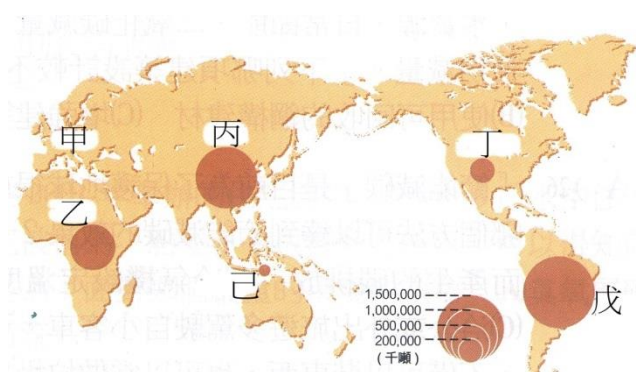
44. 「每年約會有 2,500 萬至 5,000 萬噸的沙子隨著盛行風飄移到西印度群島與南美洲的北部。」根據附圖中的全球盛行風向判斷，文中的沙子最可能來自下列哪個地區？ (A)黃土高原 (B)喀拉哈里沙漠 (C)撒哈拉沙漠 (D)塔克拉瑪干沙漠。



45. 「全球最富裕的 10% 人口，消費了全球能源的 58%，也擁有全球 87% 的汽車。」由上述可看出什麼樣的訊息？ (A)有錢人只有 10% (B)能源消耗大增 (C)汽車消費量大增 (D)全球貧富差距嚴重。
46. 臺灣電力公司在每戶的電費帳單上，皆有列出當期用電度數所產生的二氧化碳量，主要目的是提醒民眾應該減緩那一種環境問題？ (A)全球暖化 (B)水土流失 (C)地層下陷 (D)水資源缺乏。
47. 我國非歐盟會員國，因此出口至歐洲國家有關稅與貿易配額的限制，請問：我國業者可用什麼方法克服這樣的限制呢？ (A)到歐盟國家投資設廠 (B)鼓勵歐盟廠商來台設廠 (C)提高我國的進口關稅 (D)經由第三國轉口貿易。
48. 下圖中甲~丁為四個跨國企業總部設址的地點，就平均國民所得與出生率來判斷，圖中甲地最有可能位於下列那一國家？ (A)日本 (B)印度 (C)德國 (D)美國。



49. 專家估計：地球暖化的速度持續加快，海冰融化造成海面上升，預計本世紀末，海平面可能上升 10 公尺，請問屆時何國受影響區域最少？ (A)帛琉 (B)荷蘭 (C)吐瓦魯 (D)瑞士。
50. 下圖為呱吉描繪世界各洲產生之二氧化碳排放量分布圖，造成亞洲二氧化碳排放高，與下列何者最有關係？ (A)印度農業使用大量農藥 (B)中國崛起大量使用化石性燃料 (C)日本生活緊湊人們呼吸急促 (D)印尼森林大火導致樹木燒盡。



福營國中 107 學年度第 2 學期第 2 次段考 9 年級社會科解答

1.	2.	3.	4.	5.	6.	7.	8.	9.	10.
<b>B</b>	<b>A</b>	<b>A</b>	<b>C</b>	<b>D</b>	<b>B</b>	<b>A</b>	<b>D</b>	<b>D</b>	<b>B</b>
11.	12.	13.	14.	15.	16.	17.	18.	19.	20.
<b>B</b>	<b>C</b>	<b>A</b>	<b>C</b>	<b>C</b>	<b>A</b>	<b>D</b>	<b>B</b>	<b>B</b>	<b>D</b>
21.	22.	23.	24.	25.	26.	27.	28.	29.	30.
<b>B</b>	<b>D</b>	<b>A</b>	<b>B</b>	<b>C</b>	<b>D</b>	<b>A</b>	<b>D</b>	<b>C</b>	<b>C</b>
31.	32.	33.	34.	35.	36.	37.	38.	39.	40.
<b>A</b>	<b>C</b>	<b>A</b>	<b>C</b>	<b>A</b>	<b>B</b>	<b>D</b>	<b>C</b>	<b>C</b>	<b>D</b>
41.	42.	43.	44.	45.	46.	47.	48.	49.	50.
<b>B</b>	<b>B</b>	<b>C</b>	<b>C</b>	<b>D</b>	<b>A</b>	<b>A</b>	<b>B</b>	<b>D</b>	<b>B</b>