

# 新北市立福營國民中學 108 學年度第一學期七年級第三次段考社會科試題

## ※歷史科試題

1. 請參考右【圖一】的清代臺灣產業分布圖，並回答下列問題：

茶葉、蔗糖、樟腦的產地分別位於圖中哪個區域？

(A)甲、丙、乙 (B)丙、乙、甲 (C)乙、甲、丙 (D)甲、乙、丙



2. 承上題，開港通商後，關於臺灣主要外銷商品的敘述，何者正確？

(A)甲地所產商品是開港後最大宗輸出品 (B)乙地所生產的商品出口歷史最為悠久

(C)丙地商品的產地主要分布於丘陵地區 (D)這些輸出品主要經由郊商外銷到全球

3. 這個地方製茶工房林立，茶葉產期，茶行必須雇用許多女工，多則五、六十人，少則二、三十人，甚至有漳、泉婦女來此短期工作，每日工資四、五錢不等。請問：「這個地方」應是下列何地？(A)大稻埕 (B)艋舺 (C)安平 (D)打狗。

4. 康熙23年，清廷同意開放□□與廈門進行貿易，此後臺灣各地生產的米穀，會先用牛車、小船載運至□□，然後裝載於大船上運往廈門，□□成為當時唯一與中國大陸進行商業貿易的港口。請問：□□應填入哪一個地點較適當？

(A)淡水 (B)基隆 (C)八里坌 (D)鹿耳門。

5. 清代臺灣在一場民變過後，皇帝為了紀念此事，一方面將諸羅改名為嘉義，一方面在府城外豎立了九座紀念碑。請問：這位皇帝所慶祝的是順利平定哪場民變？(A)郭懷一事件 (B)朱一貴事件 (C)林爽文事件 (D)戴潮春事件。

6. 西元1865年，傳教士□□與隨行牧師、信徒數人在打狗登陸，往後數年於臺南、打狗一帶宣道行醫，並積極學習閩南語，使求醫者日增；西元1868年於臺南興建醫館，開啟臺灣西洋醫學的黎明期。請問：傳教士□□應該是何人

(A)馬偕 (B)馬雅各 (C)甘為霖 (D)巴克禮。

7. 「陳佛照於清乾隆年間從原鄉漳州遷來今南投縣竹山鎮，在該地墾荒拓殖。他育有六子，死後留下公產三甲作為祭祀公業，由六房輪流耕作。輪值耕作公田者，負責該年祭祀祖先之費用。」閱讀上述資料後，請選出下列適合的選項。

A 開臺祖	B 唐山祖	C 成員間有同鄉關係	D 成員間有血緣關係
E 由祖產中留作部分作為祭祀資金	F 以入股的方式籌措資金	G 同姓之人為求聯誼團結而產生	

(A)ADE (B)BCFG (C)ACG (D)BDFG。

8. 「跑水祭」是彰化二水鄉的一項地方祭祀活動。祭典開始時會在圳頭設香案祭祀，在良辰吉時開閘放水，身穿蓑衣，頭綁紅巾的引水人要趁水勢還沒追上，一直往前跑……。請問上述引水人最有可能跑在哪一水圳中？

(A)瑠公圳 (B)貓霧揀圳 (C)八堡圳 (D)曹公圳。

9. 民間俗諺有云：「少年若無一次躓，路邊哪有有應公？」臺灣各地的有應公小祠，隨處可見，下列何者最能說明有應公廟的由來？

(A)反應台灣合資拓墾盛行 (B)反應台灣對無主孤魂的祭祀信仰

(C)反應台灣漢原衝突嚴重 (D)反應偷渡來台的過程艱辛。

10. 民間俗諺：「有唐山公，無唐山媽。」這句諺語的出現，與下列的哪一社會現象無關？

(A)來台漢人與平埔族女性通婚 (B)政府實施海禁政策 (C)政府頒布渡臺禁令 (D)男女人口比例失衡。

11. 某位外國牧師「一手執鉗，一手執聖經」，他一面傳教，一面運用醫療專長替病人拔牙，因而有「台灣口腔外科的先驅」之稱。你如果想要進一步了解這位牧師在台傳教的事蹟，可以到何處去探訪更多他的故事？

(A)雞籠 (B)淡水 (C)安平 (D)打狗。

12. 〈熟番歌〉：「人畏生番猛如虎，人欺熟番賤如土，強者畏之弱者欺，無乃人心太不古，熟番歸化勤躬耕，山田一甲唐人爭，唐人爭去餓且死，番悔不如從前生…。」歌中描述的是清帝國時期的哪一狀況？

(A)清廷積極協助開墾，改善原住民的生活 (B)漢人與原住民通婚頻繁，原住民多數被漢化

(C)清廷鼓勵原住民與漢人合作開墾 (D)原住民的土地不斷被漢人侵占，生計日漸困難。

13. 阿信整理了清朝時期台灣貿易型態的轉變，繪成表格如下：

主要對象	中國	→	世界
貿易商	郊商		洋行
貿易港口	鹿耳門、鹿港、艋舺		雞籠、淡水、安平、打狗

請問造成台灣貿易型態產生變化的關鍵因素為何？

(A)將台灣納入版圖 (B)政府廢除渡臺禁令 (C)臺灣建省 (D)開港通商。

14. 小芯和爺爺常去住家附近的三山國王廟及義民廟拜拜，爺爺一直鼓勵小芯要有不服輸的「硬頸精神」，勇敢的面對所有挑戰。請問小芯的祖先最有可能是哪一族群的移民？(A)泉州 (B)漳州 (C)潮州 (D)平埔族。

15. 「他先與岸裡社土官訂立『割地換水』的墾約，然後邀集漢人出資開鑿水圳，不但將荒地變成良田，稻米產量也大為增加，奠定了台中開發的基礎。」請問上文描述的是何人的事蹟？(A)郭錫瑠 (B)張達京 (C)施世榜 (D)曹謹
16. 小新報名參加「台灣古蹟踏查」的冬令營隊，他們預計考察的古蹟如下：甲、淡水女學堂；乙、鹿港泉郊會館；丙、臺南億載金城；丁、台南全臺首學。請問上述古蹟，如依在歷史上出現的先後順序排列，何者正確？  
(A)甲乙丙丁 (B)丁丙甲乙 (C)丁乙丙甲 (D)乙丙甲丁
17. 剛上完歷史課的黑板上懸掛著某張掛圖（如右），請問從地圖的內容判斷，老師上課的主題最有可能為何？  
(A)牡丹社事件日軍侵台路線圖  
(B)林爽文事件官民雙方攻守路線圖  
(C)清代漢人開山撫番路線圖  
(D)清代平埔族群的遷徙圖



# 新北市立福營國民中學 108 學年度第 1 學期 7 年級第 3 次段考公民科試題

18. 【圖一】是小禾班上正在開班會的情形，請問：下列什麼狀況會使得小東提出如圖中之發言，以處理開會過程產生的狀況？

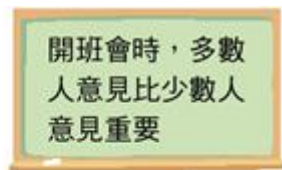
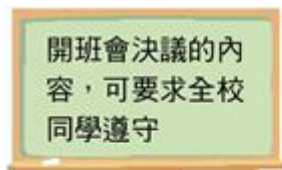
【圖一】



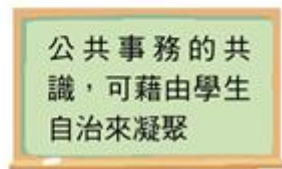
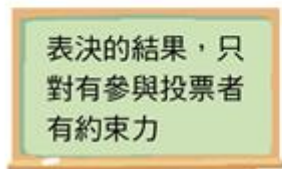
- (A) 檢討本班秩序比賽的成績不佳
- (B) 小軒提出動議遭小毛鼓譟反對
- (C) 燈光熄滅使現場產生騷動狀況
- (D) 主席採先提議後表決處理議案

19. 校園的公共事務與身處在其中的每個人有關，下列何種處理公共事務的反應最正確？

- (A) (B)



- (C) (D)



20. 布農族的卡度部落召開部落會議，積極推動部落傳統領域的劃設工作，針對與邵族傳統領域出現重疊爭議的土地，希望能提出新事證，以和平理性的方式進行協商、化解爭端。根據上述判斷，對於原住民族而言，部落會議主要具備了何項功能？

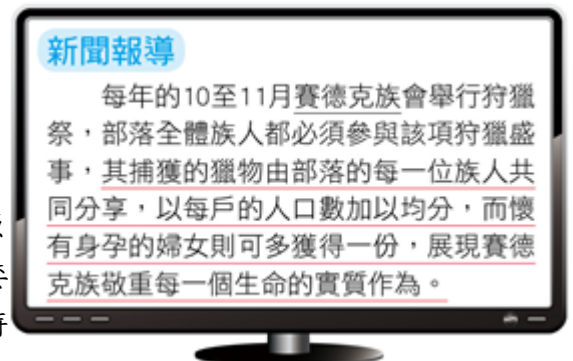
- (A) 決定部落事務 (B) 繼承土地劃分 (C) 學習祖先智慧 (D) 尋找文化根源

21. 政府為保障學生的學習權益，明確規範校園中的學生權利，下列相關之說明何者最正確？

- (A) 教育基本法規範學生校園生活中所有的權利
- (B) 落實學生校園權利的保障只跟師生之間有關
- (C) 老師可因干擾學習的情形暫時保管學生物品
- (D) 老師翻動學生書包侵害到其學習方面的權利

22. 【圖二】新聞報導內容的畫線處，代表了原住民族部落的何種精神？

【圖二】



- (A) 互助扶持的共享精神
- (B) 崇敬祖先的部落倫理
- (C) 各司其職的部落自治
- (D) 復興文化的在地認同

23. 一名排灣族原住民在跟大家分享部落的特色時，提到：「狩獵本來就是原住民族文化的一部分，他們以『生態平衡者』自居，只取所需，從不貪婪濫捕濫殺，如此一來才能真正守護土地……。」原住民族對於狩獵所秉持的態度，得以實現何種部落發展的理想？

- (A) 永續發展 (B) 互助共享 (C) 文化認同 (D) 各司其職

24. 近來社區治安問題頻傳，居民著手繪製社區安全檢測地圖，積極與學校單位及附近店家共同合作，標示並記錄社區內的治安死角，向相關單位申請加裝路燈與監視器，並組織守望相助巡守隊，以尋求社區治安的改善。從上述內容判斷，下列何者是解決社區問題的關鍵因素？

- (A) 政府補助措施 (B) 店家積極協助 (C) 居民主動參與 (D) 警察加強巡邏

25. 曉華想在學校成立桌遊社，【表一】是他列出的三項實施步驟，根據學生自治原則，其先後順序應該是下列哪一項？

【表一】

甲	舉辦桌遊比賽
乙	訂定桌遊社組織章程
丙	向學務處申請成立桌遊社

- (A) 乙→丙→甲 (B) 甲→丙→乙 (C) 丙→甲→乙 (D) 丙→乙→甲

26. 下列關於「社區」的敘述哪些完全正確？(甲)社區居民需有血緣關係 (乙)居民成立社區組織來解決問題 (丙)社區是政府強制規定所形成的 (丁)社區參與通常是居民自主發起

- (A) 甲乙 (B) 丙丁 (C) 乙丁 (D) 甲丙

27. 理化一直是大明害怕的科目，尤其升上國中後課程變得更加困難。但大明透過請教厲害的同學、學習老師做筆記的方式，以及成立讀書會，讓這學期的理化成績進步不少。請問：大明的行為發揮了學校教育的何種功能？



(A)發掘潛能以展現自我 (B)學習參與公共事務 (C)培養人際互動能力 (D)追求適性的學習方法

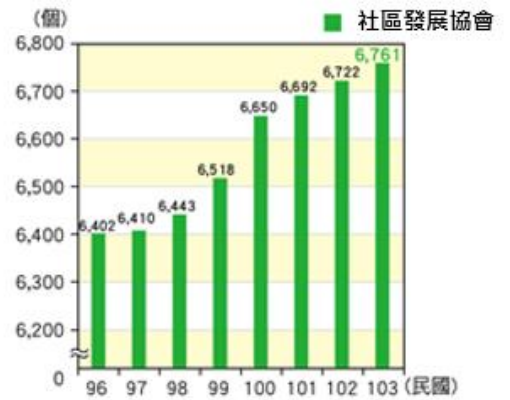
28. 以下是小蘭班上的班會紀錄，請問根據開會程序，哪兩項步驟順序有誤？

「首先，我們選出主席柯南，並由灰原擔任司儀、小蘭擔任紀錄。由(甲)柯南宣布開會，(乙)並開始討論園遊會要賣什麼東西，最後投票結果決定要賣雞排。(丙)接下來我們請幹部上台報告這週要注意的事項，(丁)最後園子提出是否要舉辦班遊的臨時動議，(戊)討論表決後，柯南便宣布散會。」

(A)甲乙 (B)乙丙 (C)丙丁 (D)丁戊

29. 【圖三】為民國 104 年衛生福利部「社區發展工作推動成果與展望」報告中，有關我國自民國 96 年到 103 年社區發展協會數量變化情形的統計資料。請問：下列何者最能與該統計資料的變化趨勢相互呼應？

【圖三】



- (A)社區的經濟產業發展日漸蓬勃
- (B)由下而上的社區組織受到重視
- (C)人口成長之自然增加率為正值
- (D)追求永續社區的理想仍待努力

30. 社區的居民因在生活中具有共同的利益、問題與需要，容易在心理上產生「休戚與共」、「我是當地人」的歸屬感和認同感，稱為社區意識。依據上述定義，下圖中哪一個人的說法，最能表現出社區意識？

- (A)大明:我們社區經常舉辦一些活動，居民都很願意參與幫忙
- (B)曉華:我們社區居民的教育程度都很高，收入也高於平均值
- (C)映竹:我這個月剛搬來這裡，對新環境及鄰居都不太熟悉
- (D)子蘭:每次颱風天過後，都可以在社區各地看到許多垃圾

31. 「位於花蓮縣玉里鎮的松浦國小，學生大多來自阿美族的福音部落及宮前部落，每年暑假，學校會邀請就讀新聞或影像相關科系的大學生，教導高年級的孩子採訪及製作影片的技巧，讓孩子去訪問部落中的長者並製成影片，希望孩子可以透過一系列課程，學會用影音介紹部落的人事物。」根據文中報導，學校希望學生可以發展部落何種精神？(A)共工共耕 (B)文化傳承 (C)各司其職 (D)守護自然

32. 【表二】是福營國中 108 學年度的行事曆，請問何者是屬於學生自治的範圍？

【表二】

(A)甲 (B)乙 (C)丙 (D)丁

甲	8/30	全校服裝儀容檢查
乙	9/5	教師增能研習
丙	1/3	八年級英語歌唱比賽
丁	1/16	第三次段考

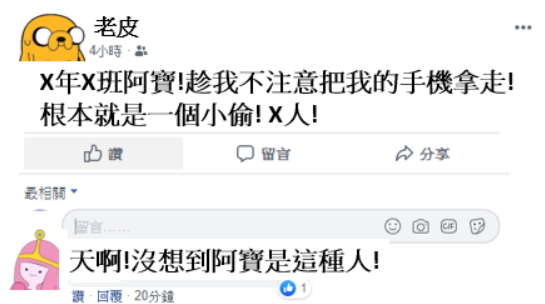
33. 阿朗壹部落是位於台東縣最南端達仁鄉的偏遠部落。近年來，部落年輕人普遍到外地就學及工作，因此居民期待能夠推動部落產業吸引青年返鄉工作，包括當地「紫色蔬果」的種植與產銷，以及開發部落的景點來推動觀光發展。請問:以上部落居民的努力，最能彰顯出何種精神?(甲)保護生態環境 (乙)發展地方產業 (丙)解決人口外流 (丁)聯繫居民情感

(A)甲丁 (B)乙丙 (C)丙丁 (D)甲乙

34. 阿寶跟老皮因個性不合時常在班上爭吵，某天阿寶為了報復老皮，把老皮新買的手機藏在講桌，老皮得知後非常生氣，並在自己的臉書發文如【圖四】。請問:下列關於此事的敘述何者正確？

【圖四】

- (A)在自己的臉書人身攻擊也沒有關係
- (B)老皮的行為已經侵犯阿寶的學習權
- (C)阿寶的行為已經侵犯老皮的財產權
- (D)因為是同班同學不需考慮權利問題





新北市立福營國民中學 108 學年度第一學期七年級第三次段考社會科解答

1	2	3	4	5	6	7	8	9	10
<b>A</b>	<b>A</b>	<b>A</b>	<b>D</b>	<b>C</b>	<b>B</b>	<b>A</b>	<b>C</b>	<b>B</b>	<b>B</b>
11	12	13	14	15	16	17	18	19	20
<b>B</b>	<b>D</b>	<b>D</b>	<b>C</b>	<b>B</b>	<b>C</b>	<b>D</b>	<b>D</b>	<b>D</b>	<b>A</b>
21	22	23	24	25	26	27	28	29	30
<b>C</b>	<b>A</b>	<b>A</b>	<b>C</b>	<b>D</b>	<b>C</b>	<b>D</b>	<b>B</b>	<b>B</b>	<b>A</b>
31	32	33	34	35	36	37	38	39	40
<b>B</b>	<b>C</b>	<b>B</b>	<b>C</b>	<b>A</b>	<b>B</b>	<b>C</b>	<b>D</b>	<b>D</b>	<b>C</b>
41	42	43	44	45	46	47	48	49	50
<b>B</b>	<b>A</b>	<b>A</b>	<b>B</b>	<b>B</b>	<b>A</b>	<b>C</b>	<b>D</b>	<b>C</b>	<b>D</b>