

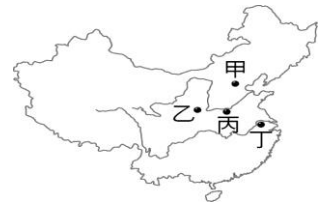
新北市立福營國民中學 108 學年度第 1 學期八年級第三次段考社會領域試題

請劃記在電腦答案卡上作答，並正確劃記班級及座號，劃記錯誤者依成績評量辦法扣分，第一部份歷史題為 1~17 題，每題 2 分

- 宋神宗時，任用王安石推行變法改革，結果變法失敗，對當時政局產生何種不利的影響？
 (A)帝位爭奪激烈，政局不穩 (B)導致外族入侵，國勢衰微
 (C)朝臣紛爭加劇，政治紊亂 (D)造成洋人專權，朝政敗壞。
- 下列哪一朝代的首都的確立是基於加強北疆國防的考量？
 (A)宋太祖定都於汴京 (B)宋高宗定都於臨安 (C)明太祖定都於應天 (D)明成祖定都於北京。
- 【圖一】為小華整理某位君主的施政措施的筆記部份內容，後世對該君主評價兩極，應為下列何者？
 (A)努爾哈赤 (B)成吉思汗 (C)皇太極 (D)朱元璋。
- 朱熹曾就北宋的滅亡發表看法如下，「本朝鑒於五代□□割據之勢，遂奪之權。兵也收了，財也收了，賞罰刑政，全都收了，州郡遂就貧弱。」上述的□□應填入下列何者？
 (A)宦官 (B)外患 (C)藩鎮 (D)流寇。
- 小國要查閱張居正的重要事蹟，查到關鍵字「一條鞭法」的發生背景有下列說法，何者符合史實？
 (A)避免外族侵擾，繳納歲幣求和 (B)政府興造長城，需要人力物力支助
 (C)逢天災頻仍，須改變課稅策略 (D)宦官干政，政府財政困難百姓貧困。
- 當地方上的軍事將領實力日益壯大，中央政府又未能妥善處理兩者之間的利害關係時，往往導致將領發動叛變，為自己獲取更大的利益。下列哪一史事的性質可被歸類為「將領叛變」？
 (A)三藩之亂 (B)東林黨爭 (C)靖難之變 (D)靖康之禍。
- 湯瑪士是位熱愛中國文化的外國人士，喜歡到中國各地旅行。若他想追尋張擇端作品《清明上河圖》中的風貌，拜訪【圖二】的哪個城市可以達到目的？(A)甲 (B)乙 (C)丙 (D)丁。
- 南宋陸放翁詩有云：「自笑滅胡心尚在，憑高慷慨欲忘身。」此處所謂的「胡」是指下列哪一與南宋鄰接的外族，且為其主要外患？
 (A)契丹人 (B)女真人 (C)党項人 (D)蒙古人。
- 在結束中國史的復習課程後，小福整理一個簡表，如【表一】，從表格內容可知，最可能要呈現下列哪一主題？
 (A)中國傳統工藝技術的發明家
 (B)歷史對抗外族政權的名將
 (C)歷代知名的文人書畫創作者
 (D)主導各朝代變法事業大臣。
- 小李在古董店參觀中國歷代貨幣的演變如【圖三】。此一演變的主要原因為何？
 (A)國內商業的興盛 (B)海外貿易的衰退
 (C)造紙技術的改良 (D)西方貨幣的傳入。
- 來自福建的世雄經過數年的寒窗苦讀後，便赴京趕考。他在考試時才發現，考試分為「左榜」與「右榜」，而且漢人只能名列「左榜」，不僅題目較難，錄取名額也較少。請問：此時的考試榜單分為「左榜」與「右榜」，應該是下列哪項政策使然？
 (A)種族歧視 (B)聯金滅遼 (C)富國強兵 (D)杯酒釋兵權。
- 小華推薦《中國發現世界》為小組歷史報告的參考用書，書中主題為「三保太監下西洋」的相關事蹟，下列是小組預先摘要的內容，下列何者是正確的？
 (A)鄭和下「西洋」的西洋，指的是橫越整個大西洋 (B)下西洋的成就奠定了日後閩粵移民到南洋的基礎
 (C)指派鄭和下西洋的明朝帝王是明太祖之孫明惠帝 (D)鄭和的船隊曾經抵達當時的南海及澳洲及紐西蘭。
- 小民對明清時期的青花瓷非常有興趣，在參觀過鶯歌陶瓷博物館後，他非常想了解中國古代製瓷的過程。請問：他可以參閱下列哪一本著作，能有圖文說明，了解當時的工法及流程？
 (A)《天工開物》 (B)《資治通鑑》 (C)《幾何原本》 (D)《皇輿全覽圖》。

【圖一】

廢丞相 強化君主集權
 鼓勵移民墾荒 嚴懲貪汙
 以廷杖、文字獄折辱士大夫



【圖二】

時間	南宋	南明
人物	岳飛	鄭成功

【表一】



【圖三】

第一頁結束，背面尚有試題，請翻頁持續作答

14. 【圖四】為明朝末年西班牙的貿易航線圖，也有學者稱美洲至中國之路線為「海上絲路」；隨著中西貿易的熱絡，對中國也造成了一些影響，下列何者正確？



【圖四】

- (A)自美洲引進玉米及番薯等新作物，解決糧食不足的問題
- (B)中國大量輸出絲綢瓷器等商品，美洲黃金大量流入中國
- (C)明朝與西班牙簽訂盟約成為兄弟，允許傳教及朝貢貿易
- (D)國際貿易的主要商人組織為商幫，在各地商港設立會館。

※請讀下列資料，並回答 15-16 題：

乾德元年（963 年）春天，新任皇帝在退朝後留下石守信…諸高級將領飲酒。酒至半酣，皇帝藉機表達了勸將領們放棄兵權，建議「人生猶如白駒過隙，不如多累積一些財產，買一些良田、華麗的房子，留下來給後代子孫，家中多置一些歌伶舞妓，日夜飲酒相歡以度終年，君臣之間，沒有猜疑，上下相安，這樣不是很好嗎？」第二天，將領們紛紛稱病請求辭職，皇帝一一詔准。

15. 上述資料中的「皇帝」應是指下列何人？(A)皇太極 (B)趙匡胤 (C)忽必烈 (D)朱元璋。

16. 上述資料中，皇帝勸說將領的主要原因為何？

- (A)為預防北方蒙古人入侵的考量 (B)因派人下西洋之措施，聲威遠播
- (C)希望終止文人干政專權的弊病 (D)欲改正唐末以來軍人干政的風氣。

17. 下列是四位人物描述所處時代當官的途徑，若要替這四位人物的生活年代先後做排列，下列順序何者正確？

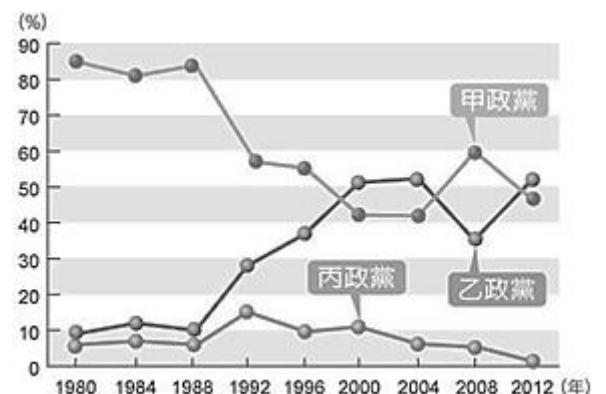
甲生：「我這個時代，參加科舉考試仍是當官的主要途徑，且因為有彌封、謄錄的辦法，所以比前代還要公平。」
乙生：「我這個時代阿！但是只要有才能，不論出身高低，人人都有機會出將入相。官職不再被世族所壟斷。」
丙生：「我這個時代要當大官的話，出身最好是蒙古國人且要熟讀四書集註，參加會試才有機會錄取。」
丁生：「我這個時代如果無法通過科舉考試，還可以用捐錢的方式，晉身士紳階級哦！」

- (A)甲乙丙丁 (B)乙甲丙丁 (C)丙甲丁乙 (D)丁甲丙乙。

第二頁歷史科試題結束，第三頁尚有試題，請持續作答

公民科試題 18-34題，每題2分

18. 精光黨為求勝選，以電話民調、黨員投票等方式辦理黨內初選，希望推出適合的人選，參與今年的立法委員選舉。上述的作法，發揮政黨的哪一項功能？
(A) 匯集民意 (B) 組織政府 (C) 教育民眾 (D) 推荐候選人。
19. 番禧國國內有 13 個政黨，而該國法律規定，只有人民黨能合法取得組織政府的權力。根據內容判斷，下列有關該國政黨的敘述何者正確？
(A) 政黨型態為一黨獨大制 (B) 政黨輪替機制運作順利
(C) 小黨的意見容易被忽略 (D) 執政黨的行政效能低落。
20. 下列關於政黨與利益團體的敘述，哪一項說明錯誤？
(A) 兩者都具有反應民意的功能
(B) 兩者都能透過遊行宣揚理念
(C) 政黨關注的政策面向較為廣泛、多元
(D) 利益團體提名候選人參選，影響政策。
21. 一個國家要實踐主權在民的理念，就必須保障人民的哪一項權利？
(A) 自由權 (B) 參政權 (C) 平等權 (D) 受益權。
22. 民國 105 年第 14 屆總統、副總統選舉，民主進步黨贏得選舉，取得執政的合法性；敗選的中國國民黨理性、平和的移交政權，順利完成第三次政黨輪替。上述內容，最能展現選舉的哪一項功能？
(A) 維繫人民與政府的關係 (B) 展現民意影響政策方向
(C) 維持政府的持續與穩定 (D) 教育民眾增進民主知能。
23. 二十世紀之前，西方國家只有男性擁有選舉權，女性完全沒有參與政治的權利。政府依據性別，限制人民選舉權利的作法，違反下列哪一項選舉原則？
(A) 普通 (B) 平等 (C) 直接 (D) 無記名。
24. 無黨籍人士杜紫藤想要登記參選第 15 屆總統、副總統選舉，依據我國總統、副總統選舉罷免法的規定，他應於期限內完成何種程序，才能正式成為總統候選人？
(A) 向選務機關辦理登記 (B) 達到法定的公民連署
(C) 徵求支持者公開表態 (D) 商請某一個政黨提名。
25. 陶仁彥想要參選花蓮縣光復鄉大安村村長，依據我國公職人員選舉罷免法的規定，他至少須年滿幾歲，才能登記為候選人？
(A) 20 歲 (B) 23 歲 (C) 26 歲 (D) 30 歲。
26. 某政黨召開公共托育服務政策說明會，代表該黨參選的立法委員候選人，與民眾進行對談，說明在規畫政策時會考量民眾想法，同時回應現場民眾的問題，並詳細說明未來的修法方向及預定期程。該黨的作法，最能展現政黨的哪一項功能？
(A) 增進民眾對政治的認知 (B) 展現為民喉舌的服務精神
(C) 推薦理想的政黨候選人 (D) 提升政黨知名度贏得選舉。
27. 設籍在雲林縣斗六市的市民吳仁耀，想向當地選出的民意代表陳情，希望他們能反映民情。上述吳仁耀所陳情的對象，最可能為下列哪一組合？
(A) 立法委員、縣長 (B) 立法委員、市議員
(C) 市民代表、市長 (D) 市民代表、縣議員。
28. 不列顛國執政黨擁有國會過半數的席次，面對重大決策時，總能讓其他政黨充分表達意見，並不會利用席次的優勢，強行進入表決；其他政黨也能服從表決的結果，體認執政黨擁有多數民意基礎的事實。上述內容，說明了政黨政治的哪一項運作原則？
(A) 國家優先、人民第一 (B) 依法組成、公平競爭
(C) 服從多數、尊重少數 (D) 和平溝通、理性協商。
29. 人民透過民意代表行使立法權，有時無法完全反應人民的意見，為了彌補缺失，落實主權在民的目標，我國政府採取下列哪一種方式，達成上述目標？
(A) 舉行公民投票 (B) 宣布解除戒嚴
(C) 成立利益團體 (D) 落實結社自由。
30. 米飛國為內閣制國家，【圖一】為該國西元 1980~2012 年各政黨在國會所占席次比例的變化。根據圖中內容判斷，下列何者最符合米飛國的情況？
(A) 該國在 1992 年之前屬於一黨專政制
(B) 該國在 1998 年發生政黨輪替的現象



【圖一】

- (C) 該國由甲乙兩黨合作組成聯合政府
 (D) 該國政黨型態的發展趨向於兩黨制。

31. 下表是 2018 年我國辦理公民投票時，四位國民的相關資料。根據資料判斷，下列哪一位最可能具有公民投票的選舉資格？

姓名	年齡(歲)	在選區設籍時間	備註
魏昇梓	17	七個月	曾有竊盜罪前科
沈京炳	23	四個月	目前在海外求學
馬玲淑	36	六個月	受法院褫奪公權
呂同致	42	九個月	受法院監護宣告

- (A) 魏昇梓 (B) 沈京炳 (C) 馬玲淑 (D) 呂同致。

32. 下表是廖詩靖研究立法院審議法案所蒐集的相關資料。根據表中內容判斷，下列何者最可能是他的觀點？

團體	內容	進行期間
車禍受難者協會	推動《強制汽車責任保險法》通過	1988-1996 年
婦女新知基金會	推動《性別工作平等法》通過	1990-2001 年
董氏基金會	推動《菸害防制法》通過	1991-1997 年
兒童福利聯盟	推動《兒童及少年福利與權益保障法》通過	2001-2003 年

- (A) 立法權與行政權相制衡 (B) 利益團體影響法案制定
 (C) 監督政府落實公共政策 (D) 政黨與法案通過的關連。

33. 琦琦三姐妹決定參選公職人員，根據【圖二】的對話，下列哪一項組合最有可能是他們的選擇？

- (A) 立法委員、市長、里長
 (B) 鎮民代表、縣長、區長
 (C) 區民代表、鎮長、里長
 (D) 立法委員、總統、鄉長。



【圖二】

34. 【表一】為我國自民國 85 年總統直接民選以來，歷屆總統、副總統選舉的選舉資料概況。根據表中資料判斷，可對近年的社會現象做出何項推論？

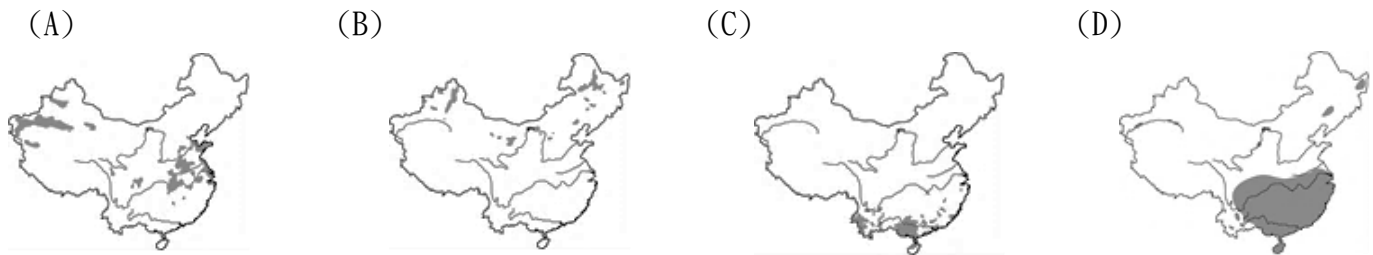
- (A) 人民參與政治的意願逐年增加
 (B) 政黨輪替機制的發展日趨成熟
 (C) 未滿二十歲人口比例逐漸減少
 (D) 落實主權在民監督政府的施政。

屆數	總人數 (萬人)	具投票權 人數(萬人)	具投票權 人數比例(%)	投票率 (%)
9	2131	1431	67.16	76.04
10	2213	1546	69.86	82.69
11	2257	1650	73.12	80.28
12	2292	1732	75.56	76.33
13	2322	1808	77.88	74.38
14	2348	1878	79.98	66.27

【表一】

地理科試題 35-50題，每題2分

35. 「絲綢之路經濟帶」是中國針對西部經濟帶制定的開發計畫，希望能拉近西部與東部的發展差距。下列何者不是中國針對西部經濟帶擬定的主要發展策略？
- (A) 利用廉價勞力對外招商 (B) 規劃及增設交通運輸路線
(C) 輸出當地豐富的天然資源 (D) 開發成中國通往歐洲的門戶。
36. 中國某大學宿舍裡，同學們正享用著有家鄉味的早餐。小新說：我們江南浙江人喜歡一早品嚐熱騰騰的粽子。妮妮說：我們雲南人喜歡吃過橋米線開始美好的一天。從上述同學的談話中，得知生活在不同地域的中國人，享受著截然不同的主食，請問他們所吃的早餐主食分布圖應為下列何者？



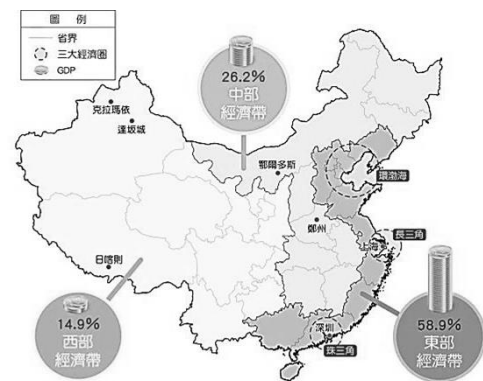
37. 圖一為中國農牧分區圖，關於各區農牧的特色，下列何者有誤？
- (A) 甲區：最冷月 <0 度，為主要的麥、玉米、甜菜產區，年可一穫到二穫
(B) 乙區：最冷月 >0 度，為主要的稻、茶、甘蔗產區，年可二穫到三穫
(C) 丙區：牧人在夏末秋初驅趕牲畜上山，冬季轉場下山避寒
(D) 丁區：氣候乾燥、日照充足，當地居民利用此特性種植薰衣草



▲圖一

38. 1980~2010年間，中國的第二級產業產值佔國內GDP的比例最高，堪稱「世界工廠」；而近來中國經濟成長快速，知名公司前往進駐，中國漸成為「世界市場」以上敘述說明了中國哪項優勢？

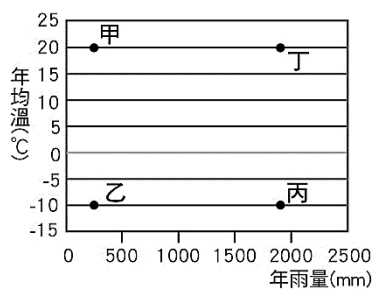
- (A) 面積 (B) 氣候 (C) 位置 (D) 人口
39. 中國的工業發展受到資源及交通兩大因素影響，以下敘述何者錯誤？
- (A) 青藏鐵路為通往西藏的重要交通幹線。
(B) 目前中國以第三級產業的產值最高。
(C) 中國煤鐵、石油主要分布在南部，故南部以重工業為主。
(D) 1980~2010年中國因製造業發達，被譽為世界工廠。



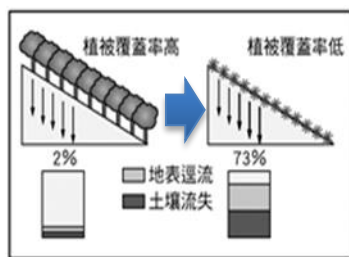
▲圖二

40. 中國依經濟發展的程度差異，中國可劃分為東、中、西三大經濟帶。圖二為中國三大經濟帶的產值比例圖。圖中形成明顯的經濟差異，可見中國在經濟快速成長下，必須解決哪項問題？

- (A) 交通建設落後 (B) 區域發展不均 (C) 人口成長快速 (D) 資金嚴重不足
41. 中國自古以農立國，濕潤溫暖的地區發展成水田區，但隨著人口急速增加，許多土地已超限利用，因此也在乾燥的土地上發展農耕，容易因過度灌溉而使土壤產生鹽鹼化。請問「水田區」及「土壤鹽鹼化」依序存在於圖三的哪個地區？



▲圖三



▲圖四



▲圖五

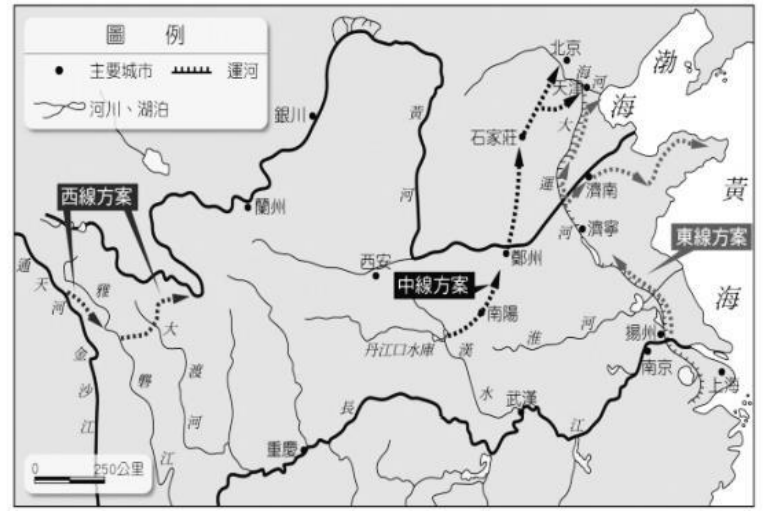
42. 圖四為中國某環境問題，請問此問題最嚴重的地區位於圖五中哪條河的流域範圍內？
- (A) 甲 (B) 乙 (C) 丙 (D) 丁。

43. 中國近年的環境問題：如過度放牧導致沙漠化，過度砍伐森林導致河川上游集水區被破壞，洞庭湖的圍湖造田造成洪患...，對土地的超限使用起因為何？

- (A) 豐富的原料 (B) 人口的快速增加 (C) 氣候變遷的影響 (D) 板塊運動漸劇烈

44. 中國當局正在施行「南水北調」的大工程，分成西、中、東三線進行，下圖六為南水北調的工程示意圖。關於此工程的敘述何者錯誤？

- (A) 此工程將長江的水調往北部缺水地區。
- (B) 東線工程利用京杭大運河輸水至天津。
- (C) 此工程的目的是擴大長江航運的腹地。
- (D) 中線工程由丹江口水庫調水至北京



▲圖六

45. 沙塵暴形成的三個條件為：風、沙源及地表受熱後產生不穩定的上升氣流，把沙子帶到高空，形成沙塵暴。請問蒙古、新疆的沙塵暴通常是什麼季節會影響臺灣空氣品質？

- (A) 春末夏初 (B) 夏末秋初 (C) 秋末冬初 (D) 冬末春初

46. 中國某高原地勢高聳，氣候嚴寒，生長季短且多凍土。請問此高原位於右圖七中何地？ (A) 甲 (B) 乙 (C) 丙 (D) 丁。



▲圖七

47. 中國自 1980 年經濟改革開放後，逐漸形成三大經濟帶，區域發展不均的問題也漸趨嚴重。請問下表中三大經濟帶的比較，何者錯誤？

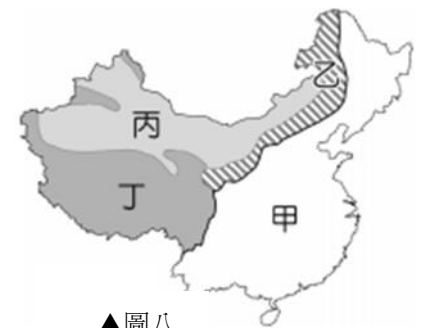
	西部經濟帶	中部經濟帶	東部經濟帶
(A) 產值	最低	次高	最高
(B) 優勢	林、礦業資源豐富	工資較東部低廉	鄰近港口，交通便利
(C) 發展問題	交通欠佳	缺乏出海口	人口多，原料不足
(D) 代表城市	上海	重慶	武漢

48. 位於中國乾燥氣候區的塔里木河，下游河道斷流 300 多公里，使羅布泊無法得到水源而乾涸。其斷流的原因與流域何種土地利用方式有關？

- (A) 灌溉農業 (B) 圍湖造田 (C) 梯田墾殖 (D) 興建水庫

49. 右圖八是中國傳統畜牧區分布圖，下列關於中國各畜牧區的敘述哪一項是正確的？

- (A) 甲地飼養雞鴨豬為主，方式為山牧季移
- (B) 影響乙丙兩地畜牧方式差異的主因為氣溫
- (C) 影響丙丁兩地畜牧方式差異的主因為地形
- (D) 丙地以飼養犛牛為主；丁地以飼養馬匹為主



▲圖八

50. 政府實施小三通政策，使得在中國投資的臺商可以直接經由金門回到臺灣本島。若依據考慮考量，臺商們從下列哪個經濟特區搭船回金門最近？

- (A) 廈門 (B) 汕頭 (C) 珠海 (D) 海南

新北市立福營國民中學 108 學年度第 1 學期八年級第三次段考社會解答

1	2	3	4	5	6	7	8	9	10
C	D	D	C	D	A	C	B	B	A
11	12	13	14	15	16	17	18	19	20
A	B	A	A	B	D	B	D	C	D
21	22	23	24	25	26	27	28	29	30
B	C	A	B	B	A	D	C	A	D
31	32	33	34	35	36	37	38	39	40
C	B	A	C	A	D	C	D	C	B
41	42	43	44	45	46	47	48	49	50
A	B	B	C	D	A	D	A	C	A