

新北市立福營國民中學 108 學年度第 2 學期 7 年級第 2 次段考社會科試題

請劃記在電腦答案卡上作答，並正確劃記班級及座號，劃記錯誤者依成績評量辦法扣分，第一部份歷史題為 1~17 題，每題 2 分

- 西元 1921 年，林獻堂第一次率領 178 名群眾聯名向帝國議會提出「臺灣議會設置請願書」，直到西元 1934 年 9 月中止請願活動為止，運動共歷時 14 年，提出請願 15 次。請問：林獻堂第一次率領請願活動時代背景為何？(A)甲午戰爭 (B)皇民化運動 (C)第一次世界大戰結束 (D)第二次世界大戰結束。
- 專賣局緝私組人員查獲林江邁販賣私菸，因而沒收私菸與現金，並毆打林婦致傷，引起眾怒。緝私組員開槍誤殺圍觀民眾，並利用混亂情勢逃逸，群眾擁向警察局，要求逮捕凶犯。上文為下列哪一事件的相關描述？(A)白色恐怖 (B)雷震事件 (C)二二八事件 (D)美麗島事件。
- 民國 35 年某報紙社論：「最近物價狂飆，整個經濟社會在震盪著，人民生活極端困苦，誰都希望政府能夠設法徹底解決。人民實在太苦了，再提起日本投降時所設想的美麗遠景，似乎只是痴人說夢。人民現在沒有絲毫的奢望，只求有最低限度的安定生活。貧者越貧，富者越富，兩者之間的差距越來越大，這種社會實在太危險了。」文中提及「物價狂飆」，主要與下列何者的關係最密切？(A)廢除專賣制度，使人民與政府收入減少 (B)臺灣資源大量輸往中國大陸以支援內戰 (C)日軍帶走大量物資，導致臺灣資源短缺 (D)人口大量的移入，造成日常物資的缺乏。
- 歷史老師在課堂上說：「花岡一郎(賽德克族族名 Dakis Nomin)與花岡二郎(族名 Dakis Nawi)的名字是日本人取的，兩人既不是兄弟，也非日本人，卻進入埔里小學校就讀，是受到日本人精心培養的原住民青年。他們的婚姻由日本人安排，家庭生活也深受日本影響，與一般日本人幾乎相同……」根據上述的內容，老師應該正在講述哪一個主題？(A)理蕃政策與原住民土地的流失 (B)教化措施與原住民傳統的變遷 (C)開山撫番與原住民非武裝抗日 (D)劃界封山與原住民族群的復興。
- 在中華民國政府頒布政策後，原住民原有的命名方式被破壞，且因其國語能力不佳或行政人員的缺失，導致同一家庭成員出現姓氏不同的問題。請問：上述中華民國政府所頒布的政策為何？(A)說國語 (B)改用漢姓 (C)設山地鄉 (D)劃定原住民保留地。

※下列四張圖為戰後臺灣曾發行的刊物，請依資料回答 6-8 題：



- 請問這四份刊物，依發行時間先後應如何排序？(A)甲→乙→丙→丁 (B)乙→甲→丁→丙 (C)丙→甲→丁→乙 (D)丁→乙→丙→甲。
- 「以紀念國際人權日為由，舉行遊行活動，呼籲解除戒嚴。施明德、黃信介、呂秀蓮、陳菊等人因叛亂罪入獄，但此案的辯護律師陳水扁、謝長廷等人卻強調『民主要制衡、制衡靠黨外』投入選舉，延續黨外香火」。請問，上述情形是哪一份刊物造成的效應？(A)甲 (B)乙 (C)丙 (D)丁。
- (甲)刊物造成的後續發展，不包括下列哪件大事？(A)開放黨禁報禁 (B)總統直接民選 (C)國民大會全面改選 (D)廢除動員戡亂時期臨時條款。
- 小福讀到一本書描述：「『水螺』是中南部農民對於糖廠上、下汽笛訊號聲的稱呼。『水螺』聲不只是一種訊號，它標示著一種截然不同的工作方式，也代表了一種新的觀念形成。」他很好奇，書中提到的現象，應與下列哪一項因素最為相關？(A)衛生習慣的建立 (B)法治觀念的培養 (C)宗教信仰的改變 (D)守時觀念的養成。
- 【圖一】是臺灣一份報紙的頭版標題，下列何項政策的施行與標題的公告關係密切？(A)開放人民組織政黨 (B)首次民意代表選舉 (C)開放臺人留學教育 (D)實施國民義務教育。




【圖一】

【第一頁結束，背面尚有試題，請翻頁持續作答】

11. 日治時期為了讓在臺的日人子弟所學的內容和日本本國的小學生銜接，所以將他們安排在下述哪種學校就讀？
 (A)公學校 (B)小學校 (C)國民學校 (D)蕃童教育所。
12. 【圖二】是老師列舉的臺灣某時期社會運動，它們共同的訴求最可能是下列何者？
 (A)號召民眾扶清抗日 (B)武裝行動要求獨立
 (C)捍衛原住民的文化 (D)爭取政治參與權利。

【圖二】



日治時期，總督府基於統治及建設的需要，在臺灣推動各式教育。請根據以下資料並回答 13-14 題。

西元(年)	占臺灣人口百分比(%)	西元(年)	臺籍就學率(%)	日籍就學率(%)
1905	0.38	1904	3.8	67.7
1915	1.63	1909	5.5	90.9
1930	12.36	1914	9.1	94.1
1935	29.10	1920	25.1	98.0
1937	37.80	1925	27.2	98.3
1938	41.90	1930	33.1	98.8
1939	45.60	1935	41.5	99.3
1941	57	1940	57.6	99.6
1942	58	1944	71.3	99.6
1944	71			

【表 1】日治時期懂日語的臺灣人概況表

【表 2】日治時期臺灣學齡兒童就學率統計表

13. 由【表 1】及【表 2】的內容判斷，西元 1898 年總督府規定公學校「國(日)語科(含國語、作文、讀書、習字)每週教學時數占總時數的十分之七」，但一九三〇年代以前懂日語的人數比例仍偏低的原因為何？
 (A)臺灣人大多選擇到中國接受漢語教育 (B)日治時期臺灣人總數遠比日籍人口少
 (C)臺灣學齡兒童就讀公學校的比例偏低 (D)總督府鼓勵懂日語的人前往日本求學。
14. 由【表 1】及【表 2】內容判斷，西元 1940 年後，臺灣人懂日語的比例之所以出現變化，主要的原因為何？
 (A)總督府強化日語教育 (B)總督府實行民族自決政策
 (C)總督府發行臺灣民報推廣日語 (D)總督府去除差別待遇的教育原則
15. 小福參觀總統府，看到【表 3】，發現 1-5 任總統任期達三十年之久，他想去查原因，你能告訴他與下列哪一項法令的頒佈有關嗎？
 (A)《戒嚴令》 (B)《六三法》
 (C)《中華民國憲法》 (D)《動員戡亂時期臨時條款》。


任期	第 1~5 任	第 6~7 任	第 8~9 任
時間	民國 37~67 年	民國 67~79 年	民國 79~89 年
總統	蔣中正	蔣經國	李登輝

【表 3】中華民國第 1 任至第 9 任總統任期表

16. 小福在進行歷史人物猜謎，抽到的題目是：戒嚴時期的開始與結束分別是那兩位人物所發布的命令，請問下列那一組人物為正確？
 (A)陳儀；陳誠 (B)蔣中正；蔣經國 (C)陳誠；李登輝 (D)陳儀；蔣中正。

17. 小福在祖父的收藏品中看到【圖三】1940 年台中公園明信片，爺爺說：「當時的流行風潮是歐美或日本樣式的服裝及鞋帽，大家可以到公園聽音樂會呢！」
 小福不了解當時臺灣人民服飾風潮的改變原因，你能告訴他下列哪一項正確？
 (A)總督府禁止臺灣人民穿著傳統服飾
 (B)購買日本製商品，總督府另有獎勵
 (C)因應皇民化運動，鼓勵臺人種棉花
 (D)總督府推行放足斷髮政策收到成效。

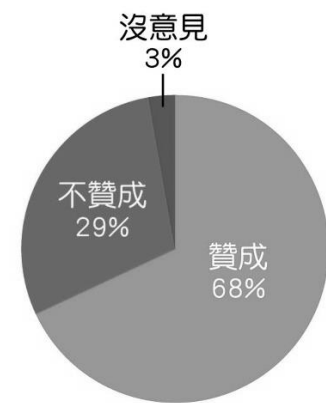
【圖三】



新北市立福營國民中學 108 學年度第 2 學期 7 年級第 2 次段考公民科試題

18. 針對環保署推動的「宮廟減香」政策，不少著名廟宇紛紛響應，實施香爐減量，讓民眾減少燒香、燒金紙。在此同時，某網路平臺也調查民眾對此事的看法，請問：【圖一】調查結果顯示何項觀念逐漸抬頭？
- (A) 宗教信仰 (B) 風俗習慣
(C) 環境倫理 (D) 法律制度

【圖一】



19. 亞軒上課學習到史前時代的臺灣可分為舊石器時代、新石器時代及金屬器時代，其所使用的工具愈趨精緻，甚至發展出陶器和打磨的金屬器。請問：歷史學家如此區分，顯示了文化的何項特性？
- (A) 普遍性 (B) 差異性
(C) 累積性 (D) 約制性

20. 【圖二】為幾位同學針對不同社會規範所提出的看法。請試著判斷小瑞、小崴、芝芝與雅雅的敘述，依序分別指何種社會規範？

【圖二】



- (A) 法律、倫理道德、宗教信仰、風俗習慣
(B) 倫理道德、法律、宗教信仰、風俗習慣
(C) 風俗習慣、宗教信仰、法律、倫理道德
(D) 風俗習慣、法律、宗教信仰、倫理道德
21. 我國為促進多元文化，除在憲法增修條文中明訂相關內容外，也需要透過政府、民間與企業相互合作完成。請問：下列各項措施中，何者是由政府所推動為促進多元文化的政策？
- (A) 上街爭取「恢復傳統姓名」以利於傳承文化
(B) 向國外來訪的友人介紹我國的傳統文化特色
(C) 設置各族群電視臺並將其語言列入國家語言
(D) 推出產品時需注意言詞以避免強化刻板印象
22. 彰化 蕭家斗山祠 百年來遵循祖先留下的規定，歷來都由男性擔任主祭，女性再優秀都無法擔任。經過一連串的抗爭，西元 2007 年，在多數長輩的支持下，誕生了第一位的女主祭。過去蕭家祖先所訂定的規範，隨著時間而改變，也賦予了新的意義。請問：根據上文敘述，從文化與性別的角度來分析，下列敘述何者正確？
- (A) 文化位階的形成與性別結構有密切相關
(B) 透過法律能改善文化中性別歧視的現象
(C) 蕭家宗祠的祭祀是屬於有形文化的一種
(D) 文中原先祭祀的規定展現文化的累積性
23. 臺北市某女子在網路上認識一名男子，贈送對方多項禮物並提供金錢資助，不料交往一段時間後，男子移情別戀，女子控告男子「感情詐欺」，但檢察官以欺騙感情不構成詐欺罪行，而做出不起訴處分。請問：若從社會規範的角度，上文內容最適合用來說明下列何者？
- (A) 倫理道德的規範與法律互相牴觸 (B) 法律與倫理道德的規範模糊不清
(C) 法律的價值遠高於其他社會規範 (D) 維護社會秩序不能僅靠單一規範
24. 英國詩人吉卜林在十九世紀發表了白種人的負擔一詩，指出「白人有義務統治其他文化背景的人，並且推動他們發展，直到他們擁有一定的能力獨立為止。」這也成為西方國家在當時侵略其他國家的藉口之一。請問：下列何項敘述與此詩作有相同內涵？
- (A) 文化沒有高低優劣或進步落後之區分
(B) 不同文化相互競爭造成弱勢文化消失
(C) 藉由引進他人文化有利於文化的創新
(D) 透過交流檢視文化內涵以求去蕪存菁

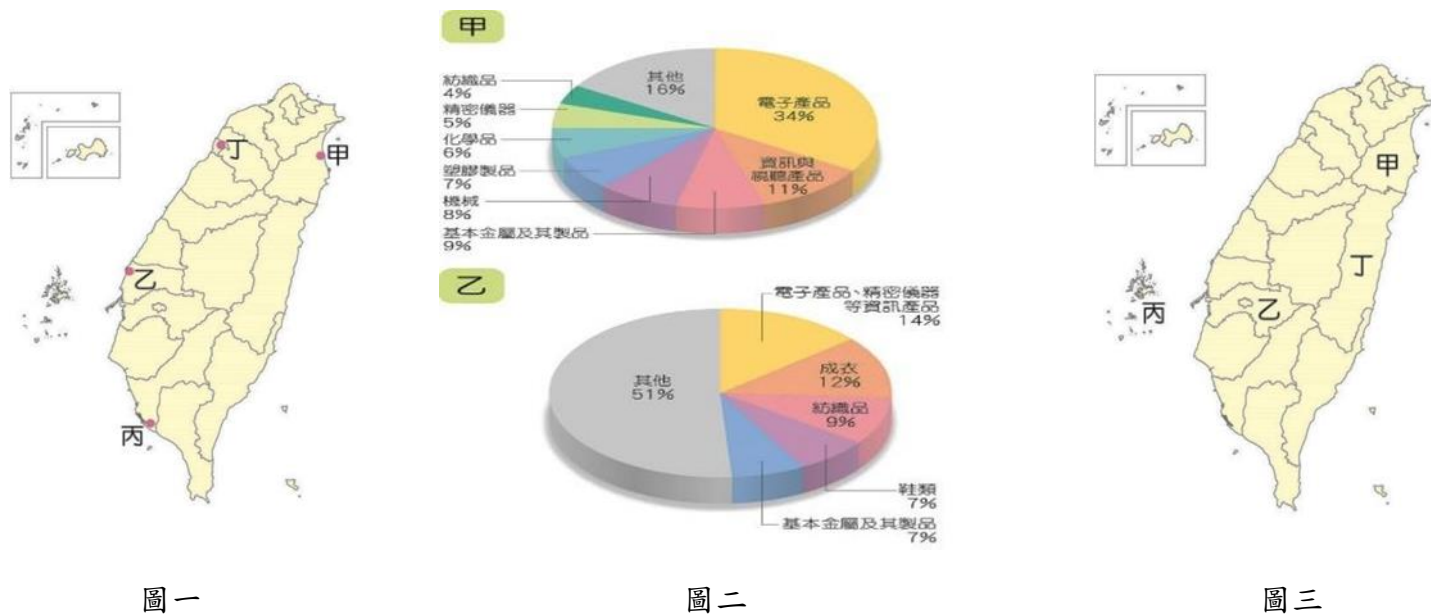
25. 俗諺「沒有規矩，不成方圓」、「法者，天子所與天下公共也」，強調全天下的人都應該守法，以維持社會穩定運行。請問：這說明了下列何者在群體生活中的重要性？
 (A)社會規範 (B)社會角色 (C)角色衝突 (D)性別角色
26. 為了鼓勵拾金不昧，民法有「拾得人得以向遺失人請求遺失物價值的 1/10 做為報酬」的規定。過去曾發生女大生撿到 4 萬元，要求丟失註冊費的學妹付一成的獎金才要歸還，但學妹家境貧困這筆錢實在給不出來，因此鬧上新聞，而要求獎金的女大生也招致許多批評。請問上述案例主要是哪兩種社會規範所導致的衝突？
 (A)風俗習慣與倫理道德 (B)風俗習慣與宗教信仰
 (C)宗教信仰與法律 (D)倫理道德與法律
27. 下列關於文化的敘述，何者正確？
 (A)文化有優劣之分，我們應該要學習高等的文化
 (B)文化位階可以使不同的文化得以延續傳承下去
 (C)次文化是指「次等」的文化，應該要避免接觸
 (D)為了把文化資產傳承下去，政府可以立法保障
28. 在臺灣隨地吐痰被認為是粗魯、沒禮貌的，但在肯亞的馬賽部落，這是一種習慣性的問候和尊重的方式。部落成員會在揮手之前吐口水在手中，表示祝福並希望帶來好運。上述這段文字，突顯文化的什麼特性？
 (A)普遍性 (B)差異性 (C)約制性 (D)累積性
29. 國民政府遷臺後曾推動「說國語運動」，嚴格禁止在公共場合使用各種母語，若違反規定則會被罰錢或是體罰。請問：關於此政策可能造成的影響，下列敘述何者錯誤？
 (A)次文化被更多人看見而發揚光大
 (B)某些族群會因為反抗而產生衝突
 (C)為了能獲得認可而否定自身文化
 (D)讓某些族群的文化無法傳承下去
30. 臺灣有許多傳統節慶，這些不同的禮俗文化各帶有不同的歷史意義，也是吸引全球遊客目光的舞台。**【圖三】**即為著名的傳統節慶之一，請根據**【圖三】**判斷下列敘述何者正確？
 (A)此規範和「人在做，天在看」屬於相同類型
 (B)此規範和中秋節要賞月、烤肉屬於相同類型
 (C)此規範和道路交通管理處罰條例同等效力
 (D)此規範是判斷是非善惡、應對進退的標準
31. 在過去民法規定男女結婚後，妻必須冠夫姓並以夫之住所為住所，但隨著性別平權的觀念興起，已經把不合時宜的規定改掉。請問這顯示了社會規範的什麼特性？
 (A)透過正式規範改變不適合的非正式規範
 (B)非正式規範能成為正式規範制定的基礎
 (C)各種社會規範的內容彼此容易互相影響
 (D)社會規範的內容會因時因地而有所差異
32. 下列關於社會規範的敘述，何者正確？
 (A)社會規範是由國家制定出來的 (B)社會規範有助於我們融入社會
 (C)所有的社會規範都具有強制力 (D)社會規範只能約束外在的行為
33. 某位網紅先前因為影片企劃，想要徵求原住民朋友一起拍片，因此在社群媒體上 po 文，以下為社群媒體上的原文：
 「我想要找『原住民約會』，有沒有原住民想要參加？(我要很有原住民味道的，就是不要已經漢化的)，然後要知道只有原住民才會去的地方，或是帶我去吃原住民才會吃的料理，臺東卑南族佳，或是山上的司馬庫斯之類的，越有文化的越好！會喝小米酒還有穿傳統服飾更好，有人想參加嗎？」
 不料此文一 po 上網立刻引來網友的大量批評，請問這篇文章最可能引發爭議的原因是什麼？
 (A)強調主流文化，讓次文化不斷的受到打擊
 (B)因為文化位階而造成不同文化之間的衝突
 (C)這樣的言論可能加深對原住民的刻板印象
 (D)原住民漢化程度跟政府推動的政策有關聯

【圖三】



新北市立福營國民中學 108 學年度第 2 學期 7 年級第 2 次段考地理科試題

34. 近年來我國政府評估"農村引進農業外勞"的可行性,研擬該政策最主要是為因應下列哪一項台灣農業特色?
(A)農村勞力老化 (B)農產品商業化 (C)農業耕地小 (D)農作種類多樣。
35. 志玲參觀牧場,發現當地農民利用進口的高級草料跟穀物飼料來飼養乳牛,並生產乳製品銷售各地.請問:他看到的產業型態屬於哪一種?(A)熱帶栽培業 (B)酪農業 (C)放牧業 (D)養殖業。
36. 鮪魚是做生魚片料理的高級魚種,台灣的漁船常到"南太平洋及大西洋"捕撈該魚種.此一作業方式屬於哪一種漁業類型?(A)養殖漁業 (B)沿岸漁業 (C)近海漁業 (D)遠洋漁業。
37. 西元2002年,台灣因加入哪一個國際組織使得台灣農產品市場需向世界開放,也因此讓農業部門面臨許多競爭跟挑戰?(A)世界衛生組織 (B)世界貨幣組織 (C)世界貿易組織 (D)世界紅十字會。
38. 近年屏東縣部分沿海地區有將原本在陸地的魚塭養殖改成在海上箱網養殖的趨勢,其轉型的最主要的原因與下列哪一環境問題的關係最密切?(A)泥沙淤積 (B)地層下陷 (C)狂風吹襲 (D)空氣汙染。
39. 民國七十年代起,台灣政府積極推動產業升級.下列哪座工業區的設立是台灣產業升級的重要起點與指標?
(A)高雄加工出口區 (B)花蓮和平水泥工業區 (C)新竹科學園區 (D)台塑六輕工業區。
40. 下列哪一種工業常因"原料"容易變質,而多將工廠設置在原料產地?
(A)電子加工業 (B)食品罐頭工廠 (C)紡織成衣加工業 (D)煉鋁工業。
41. 1960年代政府於高雄市首先設立加工出口區,1970年代又選定在此發展重工業.請問:高雄被選為這兩項產業的地點皆與高雄擁有下列哪一項優越條件有關?(A)交通便利 (B)資金充足 (C)市場廣大 (D)動力充沛。



圖一

圖二

圖三

42-44 題請根據圖一回答:

42. 圖一中哪一地區為台灣鋼鐵,石化,造船等重工業集中生產之地?(A)甲 (B)乙 (C)丙 (D)丁。
43. 圖一中哪一地區為台塑六輕分布之地?(A)甲 (B)乙 (C)丙 (D)丁。
44. 圖一中哪一地區為台灣最早所設立的科學園區?(A)甲 (B)乙 (C)丙 (D)丁。

45-46 題請根據圖二回答:

45. 圖二中"乙"圓餅圖屬於下列哪一種類型的工業較多?(A)輕工業 (B)重工業 (C)高科技工業 (D)生物醫療產業。
46. 圖二中"甲"圓餅圖屬於台灣哪一年代的產業?(A)20年代 (B)40年代 (C)60年代 (D)80年代。

47-48 題請根據圖三回答:

47. 圖三中哪一地區能從事海水箱網養殖漁業,還可以吃到好吃的仙人掌冰?(A)甲 (B)乙 (C)丙 (D)丁。
48. 圖三中哪一地區為花蓮和平水泥工業區所分布之區?(A)甲 (B)乙 (C)丙 (D)丁。
49. 目前台灣的國際貿易對象以下列哪一國家出超最多?(A)中國 (B)英國 (C)日本 (D)南韓。
50. 台灣中部地區的雲林,彰化轉型為花卉,蔬果生產區為台灣農業特色中哪一項?
(A)農業集約化 (B)農業高齡化 (C)農業商品化 (D)農業在地化。

新北市立福營國民中學 108 學年度第 2 學期第 2 次段考公民科 7 年級答案卷

1	2	3	4	5	6	7	8	9	10
C	C	B	B	B	D	B	A	D	A
11	12	13	14	15	16	17	18	19	20
B	D	C	A	D	C	D	C	C	A
21	22	23	24	25	26	27	28	29	30
C	A	D	B	A	D	D	B	A	B
31	32	33	34	35	36	37	38	39	40
D	B	C	A	B	D	C	B	C	B
41	42	43	44	45	46	47	48	49	50
A	C	B	D	A	D	C	D	A	C