

## 新北市立福營國民學 108 學年度第二學期第二次段考九年級社會科

1. 「某日美國芝加哥的街頭上，四處可見揹著求職廣告的失業者，啃著配給的麵包，他們的工廠關閉，銀行倒閉。」上述景象出在何時？(A)美國獨立之初(B)一次大戰前夕(C)戰間期(D)二次大戰之後
2. 「馬歇爾計畫」美國提供資金給歐洲國家，這些國家迫切需要他國援助的時代背景為何？(A)史界性的經濟大恐慌(B)戰後的經濟重建所需(C)因應同盟國戰爭所需(D)對抗軸心國戰爭所需
3. 希特勒是十分具有爭議性的人物。他帶領國家走出經濟蕭條，重建民族自信心，但對外發動戰爭，又迫害少數民族，因此成為許多人眼中大惡魔。下列何者會是他的主張？(A)施行「新政」(B)成立法西斯黨(C)撕毀《凡爾賽條約》(D)恢復古羅馬的光榮
4. 小綦的歷史作業針對第二次世界大戰後美、蘇兩強關係的論述，下列何者有誤？(A)美蘇兩國的軍力已達到勢力的均衡(B)兩國雖然避免觸發核子戰爭，然而在政治、軍備、科技等方面仍相互競爭(C)因兩強處於非戰、非和的對立局面，故稱為冷戰(D)911 恐怖事件也是冷戰之下的產物
5. 1965 年 4 月，詹森總統誓言：「我們不會退出越南，不管是公開退出，或是在毫無意義的協議下退出。」但最終美軍仍舊撤退。美軍在越南軍事行動的失敗與下列哪一因素無關？(A)中共軍隊出兵協助越共，抵抗美軍進攻(B)美國國內爆發大規模的反戰遊行(C)越共以游擊戰襲擊美軍，導致美軍傷亡慘重(D)越南人民的民族情緒高漲，誓死抵抗美軍的進攻
6. 1992 年，歐洲某國的政黨發動政變，成功奪得政權，原因是這個黨主張反共、恢復古羅馬光榮、保護財產等口號深獲民心，上述的政黨是指下列何者？(A)民主黨(B)法西斯黨(C)共和黨(D)國社黨
7. 美國在兩次世界大戰中都扮演著極為關鍵的角色。美國在這兩場戰爭中參戰的情形如何？(A)參戰後，同陣營國均能轉敗為勝(B)皆於大戰初即加入戰場(C)皆以投擲原子彈來結束戰爭(D)均在敵國攻擊本土之後參戰
8. 瑞秋·卡森的【寂靜的春天】揭發了 DDT 殺蟲劑和其他化學藥物對人類與大自然的戕害，□□意識雖然逐漸被重視，但仍許多大型國際企業不斷向外攫取資源。澳洲、亞馬遜河流域的居民可能被迫放棄生存的土地，自住的權利和原有的生活方式。上文敘述中的空格較適合填入哪一個選項？(A)科技(B)文化(C)環保(D)心靈
9. 小說《一九八四》中著名的一句標語是：「老大哥在看著你。」意思是指極權政治的統治權力極大，人民的思想一舉一動都受到政府的管制監控。象徵獨裁者的「老大哥」適合來形容那些人？(甲)希特勒(乙)史達林(丙)墨索里尼(丁)拿破崙(A)甲乙丁(B)乙丙丁(C)甲乙丙(D)甲丙丁
10. 第二次事件大戰期間，同盟國主要領導人召開了一次會議，會議同意蘇聯接收東歐地區，並為換取蘇聯對日本作戰的承諾，簽訂多項犧牲中國權益的條款。這應是哪場會議的內容？(A)開羅會議(B)雅爾達會議(C)巴黎和會(D)維也納會議
11. 戈巴契夫的改革除了造成冷戰的結束之外，對於國際共產勢力有何影響？(A)兩岸統一(B)南北韓統一(C)東歐赤化(D)東歐民主化
12. 「第三世界」的出現為國際注入了一股新的勢力，同時也扮演著關鍵性的角色。「第三世界」是在哪一種背景下產生的？(A)美蘇冷戰(B)反恐戰爭(C)帝國主義(D)民族主義
13. 冷戰結束後，「西方文明」與「伊斯蘭教文明」著名的衝突事件有哪些？(A)韓戰(B)九一一事件(C)古巴飛彈危機(D)柏林危機
14. 如果以美國在 1920 年代的對外態度，來推測當時的總統大選，下列四種主張的候選人，哪一位會當選成為總統？(A)「讓我們積極肩負捍衛國際正義的責任光榮」(B)「美國應該積極地加入維護和平得隊伍」(C)「不要管別人家的事」(D)「工廠應該減少製造產品，避免發生經濟危機」
15. 坎城影展金棕櫚獎得獎影片《戰地琴人》，劇情描述一位波蘭鋼琴家為了擺脫當時納粹集中營的控制，在華沙接到待了六年之久，運用音樂的力量來安慰人心。這部電影的時代背景為何？(A)第一次世界大戰(B)第二次事件大戰(C)冷戰期間(D)冷戰結束後
16. 聯合國於 2006 年 8 月 11 日通過決議，試圖使交戰的黎巴嫩真者黨所屬軍隊和以色列國防軍雙方停火。當時聯合國派遣部隊進駐黎巴嫩南部，負責監督敵對行動的停止，以及提供人道主援助等。這應該是聯合國哪個機構的決議？(A)安全理事會(B)大會(C)經濟社會理事會(D)秘書處
17. 中東地區至今仍是關係緊張之處，造成此種現象最大原因為何？(A)民族問題(B)貧富差距(C)水源之爭(D)石油問題

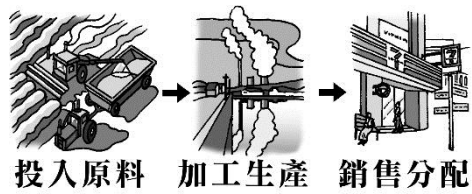
18. 據報載，北韓領導人金正恩在神隱 3 周後，日前首度現身於公開場合，闢謠他被傳腦死的傳言，在金正恩現身後，南韓前線哨立刻遭北韓軍人開槍射擊，南韓於是開火回應。根據國際報導指出，南韓在中部的前線監視哨所，被北韓發射的 10 多枚槍彈擊中，南韓隨後向北韓發出警告廣播，並兩次開槍反擊。由上述新聞報導可知，南北韓在當時正處於何種互動方式？(A)國際交流 (B)國際衝突 (C)國際合作 (D)國際援助。
19. 嚐起來甜蜜的巧克力，背後可能隱藏著「血汗童工」的殘酷真相。事實上，巧克力產品如果印有「國際公平貿易認證標章」，就須符合「國際公平貿易標籤組織」的社會公平性標準，像是友善的工作環境、嚴禁童工、提高女性工作機會和收入等。請問：關於「國際公平貿易認證標章」，下列敘述何者錯誤？(A)這是由「國際公平貿易標籤組織」發起 (B)可以改善低度開發國家所面臨醫療及糧食短缺等困境 (C)這是屬於全球性的產品認證標章 (D)貼有『國際公平貿易認證標章』的產品主要是避免消費者被剝削。



20. 刑事警察局中部打擊犯罪中心日前剛偵破一跨國賭博集團案件，該集團以合法經營博奕遊戲為掩護，招攬賭客可兌現，並開發多款跨國賭博遊戲，由人在東南亞地區的真人女荷官，結合網路直播及遊戲，提供線上直播對賭及地下匯兌，短短 3 個多月線上投注金額就高達 3800 多億元，令人咋舌。請問：上述問題顯示國際社會面臨了下列何種問題？(A)人權低落 (B)環境汙染 (C)國際犯罪 (D)貧富差距。
21. 福營國中發揮創客精神動手做愛心，號召全校七、八年級全體師生製作 2,000 個防疫面罩，除捐贈給輔大醫院 1,000 個，也將另外 1,000 個轉交教育局，未來將透過相關管道贈予國外有實際需求的第一線醫護人員。框線中這樣推己及人的服務學習精神，符合下列何種概念？(A)國際衝突 (B)文化創造 (C)世界公民 (D)國際合作。
22. 七大工業國家包括美國、加拿大、德國、英國、法國、義大利和日本，總共佔世界人口的 11%，但是 GDP 卻占世界的 65%。上述現象與哪項敘述最為相關？(A)跨國性犯罪活動更為頻繁 (B)文化衝突將因此更加劇烈 (C)國家經濟發展與人口呈反比 (D)全球化導致貧富國差距顯著。
23. 福營國中師生以「飢起幸福·營向美好」的精神，透過 12 小時不進食固體食物的方式，讓師生體驗並關注飢餓議題，並將當天省下午餐費再加上另外募集的四萬五千多元，全數捐贈給某國際組織，希望藉此幫助貧窮飢餓的兒童，並帶給他們溫暖，使他們更有勇氣面對生命中的苦難。請問：上述活動所捐贈的某國際組織是指？(A)紅十字國際委員會 (B)世界展望會 (C)世界貿易組織 (D)聯合國。
24. 諾貝爾和平獎得主尤納斯有感於孟加拉的窮人長期受到貧困的壓迫，於是學成歸國後，在孟加拉推行鄉村銀行，幫助無數孟加拉人民脫離貧困，因此獲獎。得獎當天，他宣布將得到的獎金全數捐給孟加拉作為公益用途。尤納斯的這種行為展現了何種世界公民素養？(A)熱愛自身土地 (B)關心全球議題 (C)尊重多元文化 (D)落實終身學習。
25. 近日，美國國會外交委員會主席致函全球將近 60 個國家，要求他們支持臺灣加入 WHO，希望意識到「傳染病無國界」，不應排除任何國家，呼籲 WHO 看見臺灣在公共衛生、疾病預防和健康權領域對國際社會的長期貢獻，一同對抗病毒。請問：我國難以用中華民國參與國際社會，主要是基於哪項因素？(A)國際社會對我國缺乏了解 (B)我國地理位置過於偏遠 (C)我國長期未參與國際事務 (D)我國主權不被國際社會承認。
26. 東京奧運因新型冠狀肺炎的疫情爆發而延賽一年，延期到西元 2021 年才舉行，國際間許多運動賽事因此受到很大的影響。臺灣的游泳選手表示：當下知道這個訊息時，心情有點受到打擊，但後來想想，可以趁著延後的時間裡，再提升自己不足的實力其實也很棒。請問：文中的東京奧運是屬於哪一種國際互動模式？(A)國際交流 (B)國際衝突 (C)國際援助 (D)國際合作。
27. 多年前臺鐵曾在臺北車站一樓大廳圍起紅龍，阻隔假日在大廳聚會的外籍移工，引發社會極大激盪。幾年後台鐵主動將臺北車站地下一樓空間，改成「穆斯林祈禱室」，雖然空間不大，但禮拜毯、麥加指標等物品都備妥，踏出友善移工的一大步。請問：臺鐵大廳主動設置「穆斯林祈禱室」，這種做法反映出下列哪種文化現象？(A)提升我國國民文化品味 (B)提升主流文化的同化效果 (C)加強對多元文化的尊重 (D)加強雙方文化融合的效果。
28. 位在臺北地下街的 Y 區商店街有許多泰國、菲律賓、印尼、越南等東南亞商店，其中的印尼超市裡可以買到很多特別的餅乾、果乾、飲料、和美妝用品，都是用印尼的熱帶植物做成的。請問：上述現象的形成與下列何種因素關係最密切？(A)全球化 (B)資訊化 (C)在地化 (D)殖民化。
29. 教育部透過辦理微電影競賽活動，鼓勵學生以活潑生動的正面態度拍攝微電影，並透過同儕的力量一起向毒品說 NO，既能使學生瞭解毒品的可怕，更能達到宣導反毒的正面效果。請問：若比賽的作品後來成為學校的反毒宣導短片，除了有提供訊息的功能外，還可以發揮媒體的什麼功能？(A)教育文化 (B)監督政府 (C)娛樂休閒 (D)第四權。

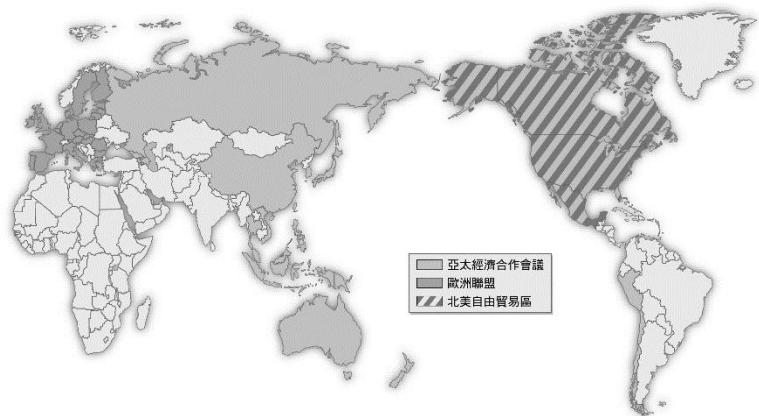
30. 在大數據時代，開放資料有助於業者開發創新產品衍生的加值型資訊，並促進民眾生活便利。像是健保署將民眾的個人健保資料提供予國家衛生研究院建置「全民健康保險研究資料庫」，可以提升醫療衛生發展，但可能隱藏了個人資料外洩的疑慮。請問：上述內容指出的隱憂疑慮是？ (A)資訊內容真偽難辨 (B)網路犯罪層出不窮 (C)資訊公開侵犯隱私 (D)醫學研究有重大突破。
31. 據報載，印度是擁有 13 億人口的世界第二大國，但在印度國內，大多貧困家庭的孩子是沒有機會讀書的，到了就學年紀的孩子可能會被家裡的大人帶到外地去工作，通常在孩子到外地工作滿 4 個月後，就會帶回一大袋辣椒回家，並利用這一大袋辣椒養活家庭一年。請問：上述報載的童工問題反映出印度正面臨的何種國際課題？ (A)疾病傳播 (B)環境生態 (C)國際犯罪 (D)人權議題。
32. 一句古老的格言：「當美國打噴嚏時，世界會感冒。」這句話被用來描述美國經濟在全球的重要性。但近年來隨著中國經濟影響力與日俱增，越來越多人把同樣的隱喻用於中國。請問：造成此一現象最主要的原因為何？ (A)美國和中國經常對其他國家進行經濟制裁 (B)全球經濟彼此之間是相互關連的 (C)美、中以外的國家，經濟正嚴重衰退中 (D)這是美、中二國惡性競爭所帶來的惡果。
33. 網際網路的發展使得犯罪型態更趨複雜，為了防止這些不法的行為，我國政府已在哪項法律中制定電腦犯罪的相關法令，希望以公權力來維護社會秩序。 (A)民法 (B)刑法 (C)政府資訊公開法 (D)社會秩序維護法。

◎下圖為商品生產的三個過程，請回答下列各題



34. 蘋果手機在北美洲設計後，在亞洲生產零組件，最後送到世界各地販賣。這種生產方式稱為什麼？ (A)策略結盟 (B)聚集經濟 (C)進口替代 (D)國際分工
35. 該手機在亞洲部分開發中國家進行零組件生產，最主要的考量為何？ (A)政治結盟 (B)生產成本 (C)開拓市場 (D)外交援助
36. 生產過程在不同國家進行的情況，最主要和哪項技術快速進步有關？ (A)生物科技 (B)奈米技術 (C)交通革新 (D)採礦技術
- ◎麥當勞的鱈魚堡，號稱使用新鮮的冰島鱈魚，在臺灣也吃得到。請問：
37. 運送鱈魚的商船要從冰島航向美國時，都要小心迴避冰山以免沉沒。這裡的冰山多半來自何處？ (A)大西洋 (B)太平洋 (C)北極海 (D)印度洋
38. 麥當勞為了打進各國市場，產品經常推陳出新且入境隨俗，例如日本愛吃海鮮因此有鮮蝦堡，印度人不吃牛肉所以甚少販售牛肉堡，穆斯林國家則不販售豬肉堡，這種概念符合與何者較符合？ (A)文化融合 (B)文明競爭 (C)經濟衝突 (D)外交調解
- ◎運輸與通訊技術的革新讓地球實際空間距離大幅縮短，形成「地球村」的感受。請問：
39. 跨國企業是指國外進行直接投資，設立子公司或附屬機構以從事生產、銷售的企業，為現代企業主要的經營形式之一。關於跨國企業的敘述，下列何者正確？ (A)國際分工明確 (B)排除開發中國家設廠 (C)研發部門外移海外 (D)生產部門在母國
40. 去年底源於湖北武漢的新型冠狀病毒，在今年初造成世界各國慘重傷亡。根據外媒四月中旬統計：全球死亡人口已達 19 萬，確診人數超過 260 萬。請問這現象與何者論點最有相關？ (A)各國對石油依存程度過高 (B)區域性組織彼此競爭 (C)貿易和觀光全球化下的必然結果 (D)跨國公司壟斷市場結果
- ◎「週末早上，天兵邊吃 KFC 炸雞邊看 NBA，恰好電視上出現了 NIKE 球鞋廣告，天兵說要買這雙，被天兵媽吐槽說這都中國或越南製的，成本不高只是掛上名牌而已，還賣那麼貴。吃完早餐後，天兵無奈的跟同學去打球，天兵媽馬上轉台開啟韓劇模式看的如癡如醉...」請問：
41. 故事出現的 KFC 炸雞、NBA、NIKE 廣告以及韓劇等，可知現代人生活充滿何種現象？ (A)企業化 (B)全球化 (C)泡沫化 (D)區域化
42. 天兵媽說這些球鞋都是中國/越南製，這種說法正確嗎？為什麼？ (A)正確，NIKE 製造商選擇勞力便宜的地方 (B)不正確，NIKE 是美國運動第一品牌，當然都是美國製

◎下圖世界三個區域經濟組織分布圖。請問：



43. 我國加入哪個經濟組織，對我國的國際能見度有很大的助益？ (A)歐洲聯盟 (B)北美自由貿易協定 (C)亞太經濟合作會議

44. 下列哪個經濟組織其成員涵蓋範圍最廣？ (A)歐洲聯盟 (B)北美自由貿易協定 (C)亞太經濟合作會議

45. 這些區域經濟組織的成立目的為何？ (A)降低貿易關稅 (B)壟斷全球產品 (C)限制成員貿易 (D)加強軍事合作

◎「關於全球暖化，目前有不同的爭議，有學者認為暖化是正常現象；有學者則認為是工業革命後人類排放溫室氣體導致。不論如何，全球暖化是個不爭事實，造成海平面上升及極端天氣出現等也是事實。」請根據上述回答下列各題。

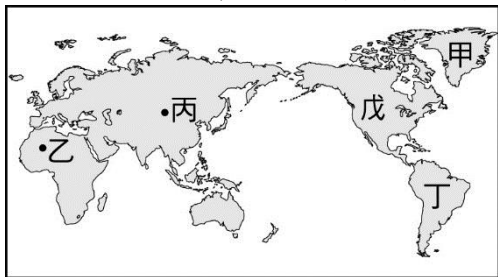
46. 全球暖化造成海面上升，哪個國家的國土淹沒面積比例會最大？ (A)土耳其 (B)紐西蘭 (C)巴西 (D)吐瓦魯

47. 暖化造成極端天氣頻率增加，原因為暖化導致蒸發量上升，導致大氣中與地表上的水氣含量變化快速，使得氣候變化劇烈。根據上文敘述，下列何者不屬於暖化所造成的極端事件？ (A)季風轉換 (B)乾季變長 (C)強降雨增多 (D)霸王級寒流

48. 為了減少溫室氣體「二氧化碳」排放量。各國曾訂定哪個公約以限制碳排放量？ (A)《申根公約》 (B)《蒙特婁議定書》 (C)《京都議定書》 (D)《生物多樣性公約》

#### 背面尚有試題

◎附圖為世界簡圖。老師要學生報告全球十大環境問題，圖中標記處是某生已完成的地區。請問：



49. 丁地所面對的環境問題為何？ (A)生物多樣性消失 (B)冰川融化 (C)全球暖化 (D)土地荒漠化

50. 哪些地區容易出現荒漠化現象？ (A)甲乙 (B)乙丙 (C)戊丁 (D)丙丁

108-2-2-9 社會科答案卷

1	2	3	4	5	6	7	8	9	10
C	B	C	D	A	B	A	C	C	B
11	12	13	14	15	16	17	18	19	20
D	A	B	C	B	A	A	B	D	C
21	22	23	24	25	26	27	28	29	30
C	D	B	A	D	A	C	A	A	C
31	32	33	34	35	36	37	38	39	40
D	B	B	D	B	C	C	A	A	C
41	42	43	44	45	46	47	48	49	50
B	A	C	C	A	D	A	C	A	B