

新北市立福營國民中學 108 學年度第二學期八年級第二次段考社會科試題

- 光緒年間，中國出現許多革命團體，其中部分革命團體理念相近，因此共同合作，組成同盟會。該組織的宗旨為「驅逐韃虜，恢復中華，創立民國，平均地權」。請問：同盟會理想中主張建立的政體與國體為何？
(A)君主專制 (B)君主立憲 (C)民主共和 (D)獨裁共和
 - 歷史課時，大家熱烈討論「民初軍閥混戰的局勢」，學生們都踴躍發言，但因為了解不夠深入，難免有錯誤的地方。其中何人所言正確？
(A)小葛：「孫中山因為張勳復辟，開始他的護法運動。」
(B)格志：「曹錕發布參加第一次世界大戰的決定，造成中國的『南北分裂』。」
(C)瑞恩：「民國六年，因為總統袁世凱和國務總理段祺瑞發生衝突，北京陷入混亂。」
(D)安安：「滇系軍閥唐繼堯曾在南方組織『護國軍』，是反對袁世凱最有力的勢力之一。」
 - 小安在圖書館內看到一份資料：「我本來執意不同洋人扯破臉的，中間一段時間，因洋人欺負太甚了，也不免有些動氣。雖沒攔阻他們，始終沒有叫他們十分儘意胡鬧……我若由他們儘意的鬧，難道一個使館有攻不下來的道理？」文中的「我」最有可能是下列哪位歷史人物？
(A)林則徐 (B)袁世凱 (C)光緒皇帝 (D)慈禧太后
 - 承上題，有關這場亂事在歷史上造成的影響，下列敘述何者正確？
(A)賠款甚鉅，中國財政日益困難 (B)光緒皇帝重掌政權，主導變法改革
(C)停止軍火進口，導致國內軍火業急速發展 (D)因為戰場遍布全中國，造成重建工作的困難
 - 陳獨秀曾於新青年中提到：「……要擁護那德先生，便不得不反對孔教、禮法、貞節、舊倫理、舊政治；要擁護那賽先生，便不得不反對舊藝術、舊宗教。要擁護德先生又要擁護賽先生，便不得不反對國粹和舊文學。」這篇文章主要是傳達怎樣的思想和概念？
(A)儒家是妨礙中國現代化的絆腳石 (B)西方思潮絕對遜於中國傳統思想
(C)西方民主和科學思潮，與中國的傳統文化最容易融匯
(D)傳統文化不一定不好，不能完全拋棄；西方思潮雖不錯，但也不是通盤可取
 - 「戰爭」可說是刺激清廷變法與改革的重要動力，【圖一】有關清末變法的開展，與戰爭的因果關係，何者有誤？
(A)甲午戰爭 (B)八國聯軍 (C)日俄戰爭 (D)中日戰爭。
- | 戰 爭 | 變 法 |
|-----|------|
| (A) | 戊戌變法 |
| (B) | 庚子新政 |
| (C) | 立憲運動 |
| (D) | 五四運動 |
- 承上題，這一連串因應外力入侵，所引發的各項運動來看，下列何者最能解釋這段轉變過程？
(A)民間「夷夏之防」的思想成為人們關注的課題
(B)西方國家嘗試在中國推行各種新思想新制度
(C)知識分子在變局中努力為國家發展尋找新出路
(D)傳統文化信仰的影響力在中國日漸壯大
 - 1911年10月10日，革命黨在武昌起事，獲得成功，與此同時，南部許多省份在當地新軍支持下，陸續響應革命，宣布獨立。這種不聽從北京中央政府的號令，在清末歷史上已發生過類似事件。請問這是指下列哪一事件？
(A)太平天國 (B)門戶開放 (C)瓜分風潮 (D)東南互保。
 - 「他是一個老練的政治家，深知中國積貧積弱，也洞悉日本帝國的擴張政策。若與保守派相比，他的思想相當維新，但對事物的看法則是守舊派人物那一套，以致他一方面推動各項改革與建設，但卻無法跳出帝制迷思，最終身敗名裂。」請問上述評論所指為何人？(A)孫中山 (B)袁世凱 (C)張勳 (D)曹錕。
 - 近代中國的首都—北京可說是一個多災多難的都市，她曾經兩次遭到外國的入侵，導致皇帝出逃，百姓受難。請問這兩次的入侵是因為哪兩次戰爭所造成？甲、鴉片戰爭；乙、英法聯軍；丙、甲午戰爭；丁、八國聯軍。
(A)乙丁 (B)甲乙 (C)乙丙 (D)丙丁。
 - 清末改革勢力有「立憲派」與「革命派」，但仍無法徹底動搖清廷的根基。一旦兩派勢力結合，便敲響了清廷命運的喪鐘。而促成兩派勢力結合，與下列哪件事關係密切？
(A)保路風潮 (B)皇族內閣 (C)宋教仁被暗殺 (D)廣州三二九之役。
 - 今日我們所書寫的文字是經過代代不斷改良而來，文體也從原本深奧難懂的古文改為平易近人的白話文，對知識的傳播功不可沒！請問推動白話文學運動，誰的貢獻最大？
(A)孫文 (B)蔡元培 (C)胡適 (D)魯迅
 - 「此次改革運動其實和先前皇帝的變法內容差異不大，如果當初太后能支持改革，或許我們就不用面臨八國聯手侵略，造成國防門戶洞開，財政惡化的局面了。現在才要來推動此一改革，已經太晚了啊！」文中提及「此次改革」所指為何？
(A)戊戌變法 (B)庚子後新政 (C)立憲運動 (D)新文化運動。
 - 這是一場民初的鬧劇：「他趁總統徵召他帶兵進京調解糾紛時，趁機逼迫總統解散國會，並擁立清遜帝復位，企圖恢復清朝統治。一時之間，北京城內龍旗飄揚，街上滿是穿著清朝袍褂的人……。」上文所述為下列何事？
(A) 洪憲帝制 (B)二次革命 (C)復辟事件 (D)五九國恥。

【圖一】



【圖二】



【圖三】

15. 「大陸尋奇」正在介紹某個城市，她位於黃浦江邊，是清末中國最早接觸西方文明的地區之一，也是歐美各國在中國的金融中心，有「東方華爾街」之稱。今日仍可見到許多風格各異的西式建築，因而被譽為「萬國建築博覽群」。請問這個城市位於【圖二】的何處？
 (A)甲 (B)乙 (C)丙 (D)丁。
16. 【圖三】是一幅發生在民國初年的景象，由圖中可以看到許多大學生高舉著白布條抗議，並提出「外爭主權、內除國賊」等的訴求。請問：圖中的情景最早是由【圖二】何處發起？
 (A)甲 (B)乙 (C)丙 (D)丁。
17. 承上題，請問這群學生的言行表現應該被歸入哪一個主題？
 (A)反對獨裁的抗爭 (B)軍閥割據的動亂 (C)南北分裂的形成 (D)民初社會的覺醒。
18. 只要符合法律、公共秩序與善良風俗，國家並不會任意介入私人間的契約。這是我國《民法》規定在行使權利時，必須遵守的哪項原則？
 (A)契約自由原則 (B)誠實信用原則
 (C)禁止權利濫用原則 (D)消滅時效限制。
19. 5歲的林小弟想將壓歲錢存到銀行，必須由父母或監護人代為行使，才具法律效力。上述主要是因林小弟在《民法》上屬於下列何種人？
 (A)無責任能力人 (B)無行為能力人
 (C)限制責任能力人 (D)完全行為能力人。
20. 對於國中八年級學生而言，下列哪項行為需要父母的事前同意或事後承認才具有法律效力？
 (A)在學校附近租房子 (B)早上到早餐店買早餐
 (C)接受姑姑送的2000元壓歲錢 (D)拿父母給的錢繳交註冊費。
21. 在餐廳任職的阿康，上班時常遲到，因此被老闆解僱了。由上文可知阿康為自己的行為負下列何種責任？
 (A)損害賠償責任 (B)侵權行為責任
 (C)契約責任 (D)刑事責任。
22. 當個人觸犯《刑法》的規定時，就應該負起刑事責任。下列哪種行為應負起刑事責任？
 (A)將鄰居的腳踏車占為己有 (B)與有犯罪紀錄的人交往
 (C)火災時打破鄰居窗戶逃生 (D)不小心將同學的隨身聽弄壞。
23. 現年19歲的阿如與小她3歲的男朋友阿祥，常常在百貨公司利用人多的時候竊取商品，因為手法純熟，已經多次犯案。如果他們兩人被捕，可能會受到什麼制裁？
 (A)阿如與阿祥均會受到同樣的刑罰處分 (B)阿如要負完全的刑責，阿祥沒有刑事責任
 (C)阿如可以減輕刑責，阿祥不用受到刑罰處分 (D)阿如要負完全的刑事責任，阿祥可以減輕刑責。
24. 醫生認為有醫療上的必要，切除傷者的器官以保全生命的行為，並不構成傷害罪。上述醫生的作法是基於何項理由而不必受到《刑法》制裁？
 (A)業務上的正當行為 (B)依法令的行為
 (C)緊急避難 (D)正當防衛。
25. 我國刑罰的種類分為「主刑」與「從刑」兩種。請問下列選項中的刑罰，何者與其他選項性質不同？
 (A)無期徒刑 (B)褫奪公權
 (C)罰金 (D)拘役。
26. 下列何人的作為違背了《憲法》所規定的人民基本義務？
 (A)總統選舉時老王不去投票 (B)小珊違法販售贓物牟利
 (C)阿青國中畢業後未讀高中 (D)小珠逾期尚未繳納房屋稅。

27. 小志因積欠房租與房東小薰爆發口角，憤而打傷小薰，因此須承擔「損害賠償」的責任，這是因為小志的舉動構成下列何種行為？
(A) 犯罪行為 (B) 侵權行為
(C) 權利濫用 (D) 不履行契約。
28. 18 歲的睿睿買了一輛機車，並完成交車手續，父母知情後雖不同意，但買賣契約仍然有效；20 歲的婷婷買了昂貴的保養品，但因某些原因，此交易行為無效。根據上述內容判斷，文中二人的情形最不可能是下列何者？
(A) 婷婷遭受了監護宣告 (B) 睿睿的婚姻狀況為已婚
(C) 婷婷屬於限制行為能力人 (D) 睿睿屬於限制行為能力人。
29. 張男與招租夾娃娃業務的李男有糾紛，盛怒下就在李男經營的夾娃娃店粉絲團頁面留言「變很爛，大家不要去夾」、「聽說很黑哦」，導致該粉絲團的網路評價下降至 1 分。經李男提告，法院判決張男罰金 6 萬元。請問：文中提及張男受到的處罰，與下列何者所負的法律責任類型相同？
(A) 賴皮未依契約規定交付貨品，遭買家解約 (B) 虎爸對兒女長期施暴，法院判其停止親權
(C) 阿空行竊娃娃機台裡的商品，遭判拘役 70 日 (D) 醉鬼酒駕傷人，法院判其賠償傷者 6 萬元。
30. 13 歲的龍弟因心情不好便故意沿路刮損他人的車輛洩憤。請問：龍弟最可能須負起下列何種法律責任？
(A) 觸犯《刑法》，要受《刑法》制裁 (B) 要受《刑法》制裁，但可減輕刑罰
(C) 由父母代替其接受《刑法》制裁 (D) 因未滿 14 歲，依規定不用《刑法》處罰。
31. 可心過世後，留下 200 萬元遺產及 300 萬元債務，若由配偶泰瑞一人繼承，請問，泰瑞須償還的債務金額最多為何？ (A) 100 萬元 (B) 200 萬元
(C) 300 萬元 (D) 500 萬元。
32. 某五星級餐廳被查獲使用已過期 3 個月的冷凍蝦當食材，做成日式料理給不知情的顧客食用，因而引起媒體撻伐。請問：該餐廳的做法已經違反了下列何項法律原則？
(A) 禁止權利濫用原則 (B) 契約自由原則
(C) 誠實信用原則 (D) 消滅時效限制。
33. 志揚購買了一套昂貴的進口戰艦模型，但在父母反對下，此項交易行為不生效力。無法買到模型的志揚心生歹念，竟潛入店家竊取該款模型，不久即被逮捕，並因自己的行為負起完全的刑事責任。若僅考慮年齡條件，下列何者最可能是志揚的年齡？
(A) 年滿 13 歲，未滿 14 歲 (B) 年滿 15 歲，未滿 16 歲
(C) 年滿 19 歲，未滿 20 歲 (D) 年滿 21 歲，未滿 22 歲。


※ 公民試題結束，下頁尚有地理科試題！

地理科試題 34-50題，每題2分


34. 青藏地區多從事畜牧業，牧民夏季在山上放牧，冬季則下山避寒，此種畜牧方式最可能為下列哪種畜牧類型？
(A) 欄牧 (B) 水平游牧 (C) 定居放牧 (D) 山牧季移
35. 中國西部內陸各民族的傳統服飾多為易穿脫的長袍、長靴，這種衣著上的共同點與當地哪一項氣候特色最相關？
(A) 日照強 (B) 日溫差大 (C) 空氣稀薄 (D) 乾燥少雨
36. 藏南縱谷因降水豐沛，成為該地人口集中的農業區，請問當地主要的農作物為何？
(A) 青稞 (B) 棉花 (C) 水稻 (D) 葡萄
37. 西部地區大多氣候乾燥，但藏南縱谷降水量較多，主要是受夏季什麼方向的季風帶來哪一海域的水氣所影響？
(A) 西南季風，北極海水氣 (B) 西北季風，印度洋水氣
(C) 西南季風，印度洋水氣 (D) 西北季風，太平洋水氣
38. 熱帶氣候地區太陽終年直射，四季皆夏，晝夜長短差異小；溫帶氣候地區四季明顯；寒帶氣候區則有終年低溫的現象。請問：造成上述景觀差異的原因最有可能是什麼？
(A) 緯度 (B) 地形 (C) 洋流 (D) 距海遠近

39. 下列四個中國不同的傳統居住型式中，何種居住型式拆遷、搬運及搭蓋方便，最常見於逐水草而居的草原地區？

(A)




(B)



(C)

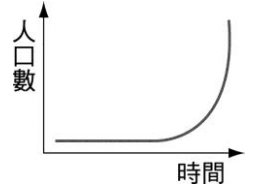


(D)



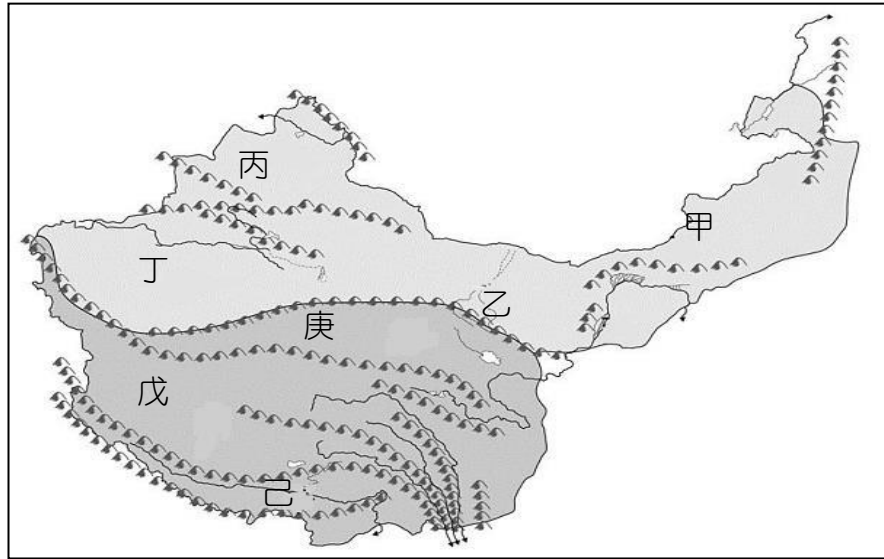
40. 右圖為近代全球人口成長的曲線圖，請問，造成此曲線變化的因素，與下列何者較無關係？

- (A)糧食增產 (B)氣候變遷 (C)醫療進步 (D)衛生改善



題組

◎下圖為中國西部地區地形分布圖，請根據圖中的資料，回答41-43題：



41. 盛產煤、石油、石膏及池鹽等天然資源，有「聚寶盆」之稱，應是指下列何者？

- (A)甲 (B)丙 (C)辛 (D)庚

42. 關於戊區氣候的特徵，下列哪一句俗諺最適合用來說明？

- (A)朝穿皮襖午穿紗，懷抱火爐吃西瓜
 (B)年雨量變率大，多水災、旱災
 (C)一年無四季，一日見四季
 (D)一山有四季，十里不同天

43. 杰倫在地理雜誌上看到中國某一地形區成因的介紹，每年七八月舉辦「那達慕」大會。請問他看到的地形區最有可能是何地？

- (A)甲 (B)乙 (C)戊 (D)己

◎下圖為各地世界宗教分布地圖，請根據圖中的資料，回答44-45題：



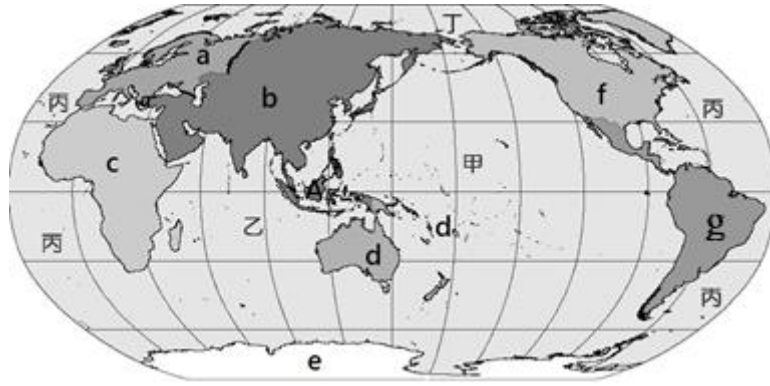
44. 「伊斯蘭教規定禁食豬肉和酒，教徒每天須面對聖城麥加朝拜5次。」以上敘述最可能指下列何地主要信仰？

- (A)丙 (B)丁 (C)戊 (D)己

45. 「印度教視牛為聖獸，所以不吃牛肉。」以上敘述最可能指下列何地主要信仰？

- (A)甲 (B)乙 (C)丁 (D)戊

◎下圖為世界地圖，a~g為世界七大洲、甲~丙為三大洋。請根據圖中的資料，回答46-48題：



46. 世界七大洲中，面積最大、人口最多的洲位於何處？

- (A)a區 (B)b區 (C)c區 (D)d區

47. 陸半球中心法國屬於下列哪一區？

- (A)a區 (B)b區 (C)c區 (D)f區

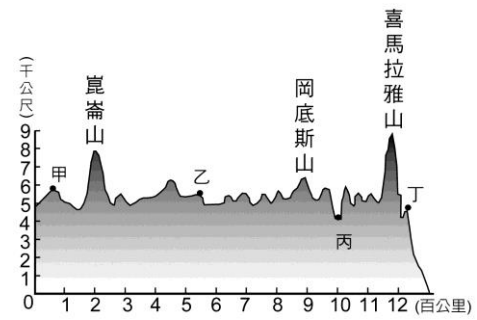
48. 世界最長的山脈是安地斯山脈，該山位於下列哪一區？

- (A)b區 (B)c區 (C)f區 (D)g區




◎右圖為中國青藏地區地形剖面圖。請根據圖中的資料，回答49-50題：

49. 虔誠的信徒要前往拉薩的布達拉宮朝聖，藉以尋求精神上的平和。請問：於圖中的何處？(A)甲 (B)乙 (C)丙 (D)丁

50. 小新翻閱中國西部區域特色書籍，下列哪一種動物出現在乙區？



這個城市位

- (A)  (B)  (C) 

新北市立福營國民中學 108 學年度第二學期八年級第二次段考社會科解答

1	2	3	4	5	6	7	8	9	10
C	D	D	A	A	D	C	D	B	A
11	12	13	14	15	16	17	18	19	20
B	C	B	C	B	A	D	A	B	A
21	22	23	24	25	26	27	28	29	30
C	A	D	A	B	D	B	D	C	D
31	32	33	34	35	36	37	38	39	40
B	C	C	D	B	A	C	A	D	B
41	42	43	44	45	46	47	48	49	50
D	C	A	D	D	B	A	D	C	B