

新北市立福營國民中學 108 學年度第二學期第三次段考八年級歷史科題目卷

請利用答案卡作答

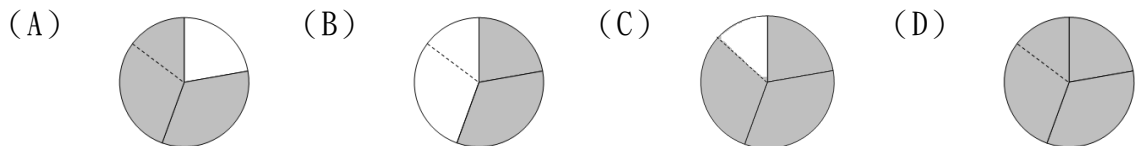
- 孫文憑藉外國的援助，成立黃埔軍校，培養革命武力。當時這所學校的創建地位於下列何處？
(A)武漢 (B)廣州 (C)北京 (D)上海
- Allen 讀到一篇文章，敘述紅衛兵執行「破四舊，立四新」的主張，肆意破壞中國文物，並且提出「革命無罪，造反有理」的口號。請問這篇文章是在敘述哪一個歷史事件？
(A)文化大革命 (B)抗美援朝 (C)農工生產大躍進 (D)國共內戰
- 中華人民共和國建國後，出現過幾任領導人，分別對國家有不同的理想與作為。下列何者曾經擔任過中華人民共和國的領導人？ (A)陳獨秀 (B)孫文 (C)汪精衛 (D)毛澤東
- 中華人民共和國於改革開放期間為了振興經濟，提倡四個現代化，並且設置四個經濟特區。請問上述經濟改革的政策是誰提出來的？ (A)江澤民 (B)鄧小平 (C)胡錦濤 (D)習近平
- 西元 1989 年 6 月 4 日北京各大學學生聚集在天安門廣場，中國政府出動軍隊鎮壓。請問這次事件中，知識份子的訴求是什麼？ (A)爭取民主自由 (B)反對改革開放 (C)打倒軍閥亂政 (D)反抗列強侵略
- 在八年對日抗戰期間，列強曾多次召開會議。其間列強同意取消在中國的特權，並於民國 32 年與中國訂立平等新約。請問近代中國第一個不平等條約是下列何者？ (A)北京條約 (B)馬關條約 (C)南京條約 (D)辛丑和約
- 美國、英國、蘇聯三國曾經在第二次世界大戰期間開會商討戰後問題。美國為了爭取蘇聯對日作戰而犧牲中國的權益。請問上述是哪一個會議？ (A)開羅會議 (B)巴黎和會 (C)雅爾達會議 (D)慕尼黑會議
- 小英提出幾個線索「山東」、「日本」、「北伐」，她要小明猜一件近代中國的史事。請你幫小明從下列選出最可能的答案，應該是哪一個？ (A)七七事變 (B)一二八事變 (C)九一八事變 (D)濟南慘案
- 促成中國共產黨與中國國民黨的第二次合作，□□□扮演著關鍵角色。□□□應該填入下列何人？
(A)張學良 (B)毛澤東 (C)蔣中正 (D)汪精衛
- 承上題，這個發生於民國 25 年，因東北軍閥與蔣中正對於抗日行動的看法不一樣而引發的歷史事件是下列何者？
(A)九一八事變 (B)西安事變 (C)寧漢分裂 (D)濟南慘案
- 民國 12 年孫文與蘇聯合作，同意中國共產黨以個人名義加入國民黨，協助國民黨組建軍隊。上述史實是下列何者？
(A)清黨 (B)國共內戰 (C)動員戡亂 (D)聯俄容共
- 民國 30 年 12 月日本偷襲美國在太平洋的海軍基地，迫使美軍參戰，中國開始與英國、美國並肩作戰。請問日本偷襲下列何處？ (A)關島 (B)中途島 (C)珍珠港 (D)菲律賓
- 「人有多大膽，地有多大產」、「稻米趕黃豆，黃豆像地瓜」，這是 1958 年中共領導人希望短期內中國生產力能夠超英趕美所提出的口號。請問這些口號應該是以下列何者為背景而產生的？
(A)農工生產大躍進 (B)抗美援朝 (C)文化大革命 (D)十年建設
- 民國 26 年日軍在河北省宛平縣附近藉口士兵失蹤，與國軍發生衝突。此事件揭開了中國八年對日抗戰的序幕。請問此事件是下列何者？ (A)瀋陽事變 (B)西安事變 (C)盧溝橋事變 (D)上海事變
- 第二次世界大戰期間中、美、英三國曾開會商議處理亞洲的事務。會後發表宣言，表示日本應將臺灣、澎湖與中國東北歸還中華民國。請問上述會議在何處召開？ (A)雅爾達 (B)開羅 (C)華盛頓 (D)紐約
- 中華人民共和國建國初期曾經派遣軍隊援助朝鮮作戰，中共的此一舉動顯示了它當時的外交政策。關於此外交政策，下列敘述何者正確？ (A)對抗美國，倒向蘇聯 (B)與德國同一陣線 (C)與韓國發生衝突 (D)向日本一面倒
- 西元 1922 年（民國 11 年）晏陽初在全國發起識字運動，號召「除文盲、做新民」，並且開了 200 所平民學校。請問晏陽初推廣平民教育，提高識字率的運動是在哪一個時期？
(A)八年抗戰時期 (B)十年建設時期 (C)北伐時期 (D)中華人民共和國建國初期

新北市立福營國民中學 108 學年度第 2 學期 8 年級第 3 次段考公民科試題

18. 權利救濟是指人民在法律上的權利被侵害時，以法律所規定的方法確保自己的權利。下列何者最符合上文的敘述？
(A) 加裝保全，防止歹徒侵入 (B) 爭取加薪，投入工會罷工
(C) 加入團體，參與集會遊行 (D) 提起訴訟，要求損害賠償。
19. 當事人針對已經在法院訴訟的案件，透過和解的方式，中止訴訟的全部或一部分。根據內容判斷，下列哪一種情況適用上述的規定？
(A) 不滿土地被徵收提起的訴訟
(B) 涉及過失致死罪遭移送法辦
(C) 家屬間發生遺產分配的糾紛
(D) 因欠稅遭到國稅局限制出境。
20. 炭治郎收到稅捐機關核定應補繳稅額 100 萬元的通知，若他對核定補稅的處分不服，應該以下列何種方式處理最為適當？
(A) 向高等行政法院提起訴訟 (B) 向稅捐機關提出請願
(C) 向訴願管轄機關提起訴願 (D) 向地方法院提起訴訟。
21. 依據民事訴訟法規定，當事人不服第二審判決，如訴訟金額達到法定標準，得提起第三審上訴。上述的法定金額標準為多少？
(A) 超過新臺幣 150 萬元 (B) 超過新臺幣 90 萬元
(C) 超過新臺幣 40 萬元 (D) 超過新臺幣 15 萬元。
22. 網際網路的發達，為人們帶來便利的生活，但凡走過必留下痕跡，下列網路世界的行為與觸犯的法律配對，何者正確？
(A) 透過網站下載未經授權的軟體、電影、音樂--專利法
(B) 於臉書批評老師上課很混超多廢話--社會秩序維護法
(C) 在社群網站張貼男朋友的裸體照--刑法「公然侮辱罪」
(D) 竊取他人線上遊戲虛擬寶物--刑法「妨害電腦使用罪」。
23. 依據少年事件處理法的規定，任何人均不得以公開方式揭露少年事件的記事及照片等；因此，新聞媒體在報導少年刑事案件時，不能公布涉案少年的全名及長相，違反規定者，由主管機關依法予以處分。上述立法，主要是基於哪一項理由？
(A) 保護少年身心發展 (B) 避免負面學習效應
(C) 顧全少年家長名譽 (D) 維持司法審判公平。
24. 酗酒成性的老李經常毆打 9 歲的女兒小萍，為了保護女兒的權益，小萍的母親希望聲請宣告停止老陳對女兒的親權。依據法律規定，她應該向下列哪一個機關提出聲請？
(A) 社會局 (B) 地方法院
(C) 衛福部 (D) 警察機關。
25. 善逸從小與媽媽相依為命，國中畢業後，為了分擔家計，選擇白天工作，晚上就讀高職進修部。善逸的雇主應該遵守下列哪些事項，才不會遭主管機關裁罰？(甲)不得從事危險性的工作(乙)每日工作不得超過 8 小時(丙)不得在白天工作(丁)不可從事違法的工作。
(A) 甲乙丙 (B) 甲乙丁
(C) 甲丙丁 (D) 乙丙丁。
26. 信用卡是現代人經常使用的消費支付工具，但部分持卡人未能量入為出，過度消費故而積欠銀行刷卡費用。根據內容判斷，持卡人應負起的法律責任與下列何者類型相同？
(A) 侵入電腦取得商業機密 (B) 未盡兵役義務遭到起訴
(C) 未依契約規定完成施工 (D) 拒絕酒測遭到吊銷駕照。
27. 禰豆子無意間涉入一起珠寶竊案而遭檢察官約談，雖然案件仍在調查階段，但因媒體的報導，使禰豆子飽受朋友及路人的異樣眼光，他不平的認為社會上的法治素養有待加強。上述所指的法治素養最可能是下列何者？
(A) 無罪推定原則 (B) 罪刑法定原則
(C) 不告不理原則 (D) 誠實信用原則。
28. 近年來醫院急診室醫護人員遭攻擊的暴力事件頻傳，不但嚴重干擾醫療行為的進行，還危及醫護人員的人身安全，因此立法院三讀通過醫療法修正案，將此種暴力行為的追究改為非告訴乃論，以遏止這類事件發生。根據上述內容判斷，下列何者正確？
(A) 法案修正前，施暴者只會負擔民事上的法律責任
(B) 法案修正後，被害醫護人員可撤回告訴終止訴訟
(C) 法案修正前，檢察官不會主動偵查該類暴力事件
(D) 法案修正後，當事人可以聲請調解解決雙方爭議。

29. 以下是伊之助涉及刑事案件時，記載於日記的部分內容。根據我國現行法律判斷，下列何者符合日記時間先後次序的排列？
- (甲) 歷經多次開庭，地方法院的法官即將作出判決
 (乙) 我因為涉嫌殺人被提起訴訟，未來該如何面對
 (丙) 只剩這個機會，能否推翻先前的判決還給我公道
 (丁) 雖然已決定上訴，但對於審理的結果並沒有把握
- (A) 丙→乙→甲→丁 (B) 乙→丁→甲→丙
 (C) 甲→乙→丙→丁 (D) 乙→甲→丁→丙。
30. 同學以生活中的新聞為素材，利用課堂所學的法律概念為新聞內容訂定標題。根據內容判斷，下列哪一位同學訂的標題有誤？
- (A) 阿祺：十二歲嫌犯，將移送少年法院審理
 (B) 福詳：冰品檢驗不合格，衛生局科處罰金
 (C) 志芳：子女拋棄繼承，父親欠稅一筆勾銷
 (D) 曉貞：兇嫌死刑判決，宣告褫奪公權終身。
31. 香奈惠經營的燒肉店，遭鄰居檢舉排放油煙造成空氣汙染，環保局稽查後依法告發裁罰，並限期改善油煙防制設備，屆期仍未完成改善，將面臨停業處分。根據上述內容判斷，下列何者正確？
- (A) 香奈惠可以透過請願進行權利救濟
 (B) 排放油煙行為法院可處十萬元罰鍰
 (C) 鄰居可提出契約不履行的損害賠償
 (D) 香奈惠的違法行為應負起行政責任。
32. 在酒店工作的17歲耀哉，於交友網站結識15歲的香奈乎，並與其進行多次性交易，香奈乎的13歲男友基麥發現後，與她爆發激烈肢體衝突，導致香奈乎傷重昏迷，警方依法將基麥移送少年法院。關於上述內容的說明，下列何者正確？
- (A) 耀哉觸犯《兒童及少年性剝削防制條例》
 (B) 基麥將會被少年法院裁定交付保護處分
 (C) 酒店負責人違反《勞動基準法》的規定
 (D) 耀哉的父親會被主管機關處五萬元罰金。

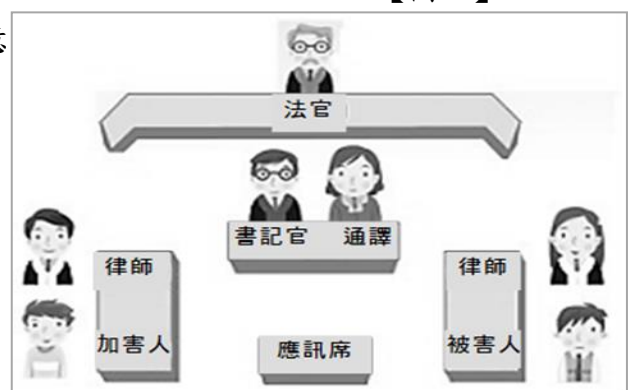
33. 圖(一)為我國權利救濟管道的其中三種途徑，但三者的法律效力並不完全相同，若將圖中「與法院最終判決有相同效力的權利救濟方式」之區塊全部上色，則上色後的圖形應為下列何者？



【圖一】

34. 圖(二)是玄彌到某法院旁聽案件審理時，於法庭內所看到的座位示意圖。根據圖中內容判斷，該法庭當時最可能是審理下列何種案件？

- (A) 爭奪停車位被毆打成重傷，向法院提起訴訟
 (B) 積欠債務遭友人恐嚇，警察將友人移送法辦
 (C) 候選人遭特定媒體抹黑，到檢察署按鈴申告
 (D) 因政府徵收土地爭議，居民向法院提起訴訟。



【圖二】

新北市立福營國中 108 學年度第二學期第三次段考八年級社會科地理試題 p1

35. 右圖為「南亞地形圖」。

請問：受到副熱帶高壓籠罩及西南季風微弱的影響，圖中何地乾燥少雨？

- (A)甲 (B)乙 (C)丙 (D)丁。



36. 住在邦加羅爾的少女蘿莎,看了熱門的印度電影『我和我的冠軍女兒』後,也想效法片中女主角成為一名摔角好手,請問下列那一個月份的氣候涼爽怡人,最適合做集訓?

- (A) 1月 (B) 3月 (C) 7月 (D) 9月。

右圖為東南亞國家政區圖請回答下列 37、38 兩題：

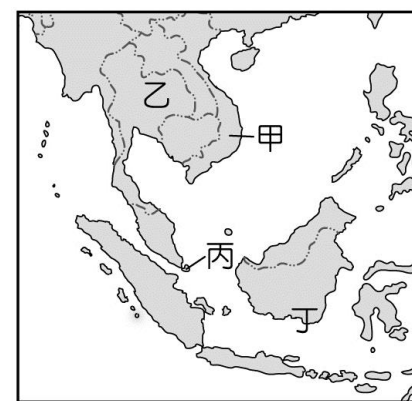
37. 2009 年前副總統連戰代表臺灣出席於 A 國召開的 APEC 會議,魚尾獅為 A 國的象徵。請問：召開該會議的 A 國位於圖中何地？

- (A)甲 (B)乙 (C)丙 (D)丁。

38. 巴里島為東南亞知名的度假勝地。

請問：該島位於圖中哪一個國家境內？

- (A)甲 (B)乙 (C)丙 (D)丁。



右圖中 A~D 為日本四大島嶼，

請回答下列第 39 題~第 42 題：

39. 右圖中那一個大島沒有日本的主要工業區分布？

- (A)A (B)B (C)C (D)D。

40. 右圖中,甲、乙代表洋流,請問那一個洋流的流向表達了是寒流?(A)甲 (B)乙。

41. 右圖中,々、々代表季風風向,讀圖可知,日本冬季季風之所以會帶來大量降水,是因經過了那一個海面?

- (A)太平洋 (B)北極海 (C)日本海。

42. 若要拜訪日本著名的微笑天使——永井隆醫師(二次大戰原子彈輻射受傷幸存者)的家鄉「長崎」,應前往右圖中的那一個大島?

- (A)A (B)B (C)C (D)D。



右圖為東北亞、東南亞與南亞氣候類型分布圖，

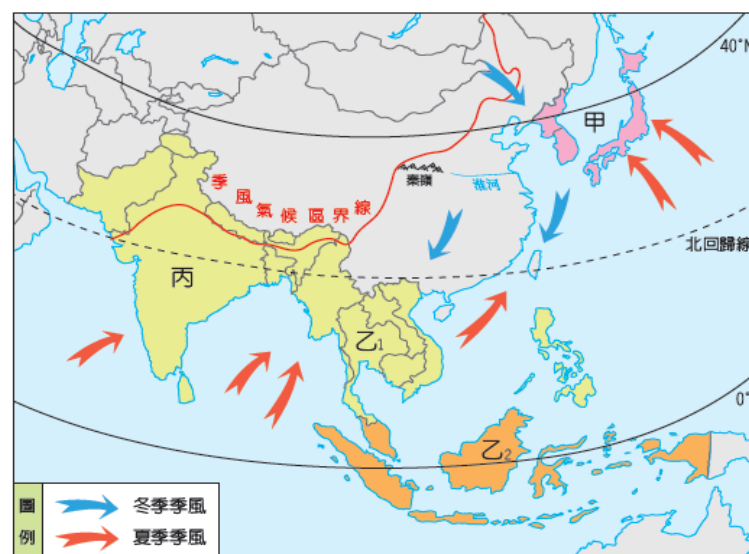
請回答下列第 43 題、44 題：

43. 讀圖可知,丙地區的夏季是吹什麼方向的風?

- (A)東北風 (B)東南風 (C)西北風 (D)西南風。

44. 讀圖可知,下列何地區的降水空間分布,較不受地形及風向的影響,且終年對流作用旺盛,不屬於季風氣候區?

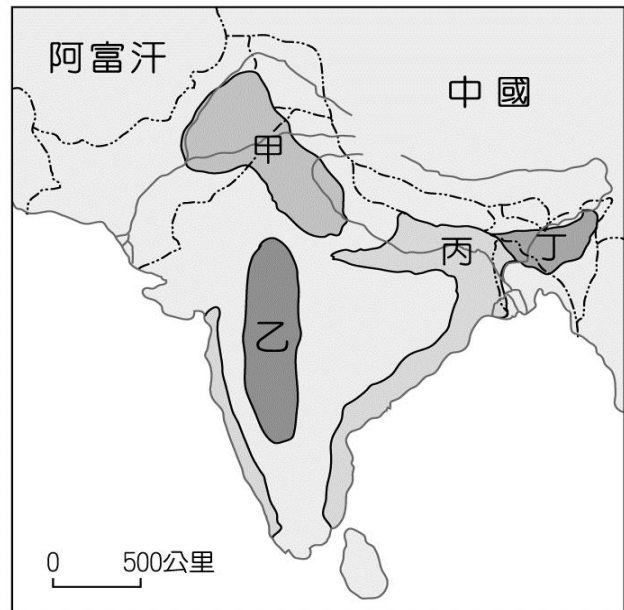
- (A)乙1 (B)乙2 (C)丙 (D)甲。



東北亞、東南亞與南亞氣候類型分布圖

新北市立福營國中 108 學年度第二學期第三次段考社會科地理試題 p2

45. 右圖為南亞農產分布圖，依其降水特徵，下列何者的作物種類及分布地區的配對是正確的？
 (A) 甲：稻米 (B) 乙：甘蔗 (C) 丙：小麥
 (D) 丁：紅茶。

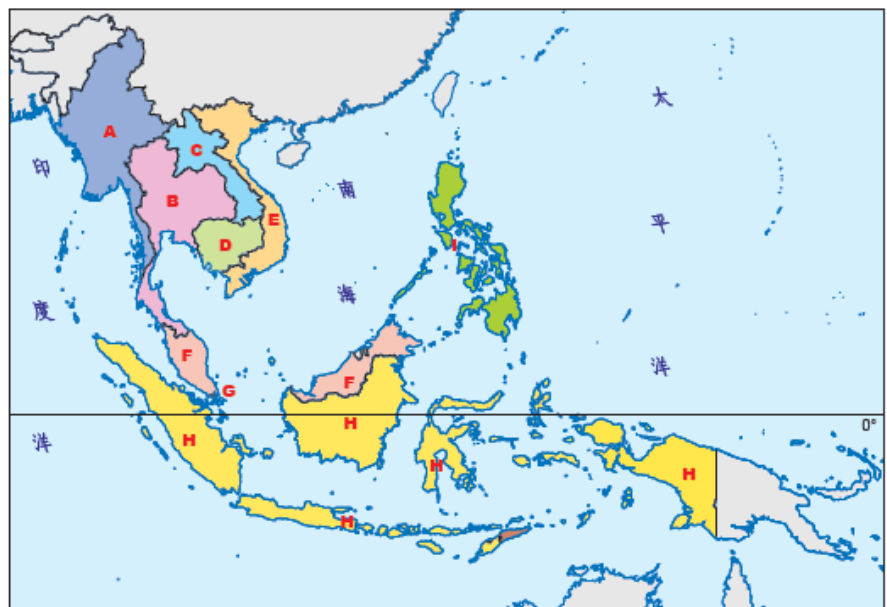


南亞農產分布圖

46. 近年許多世界知名品牌是來自日本及南韓，請問下列那一個產品或表演不是來自南韓的？
 (A) 線上遊戲：「天堂」 (B) 電視戲劇：「愛的迫降」
 (C) 「Panasonic」刮鬍刀 (D) 「LG」冰箱。

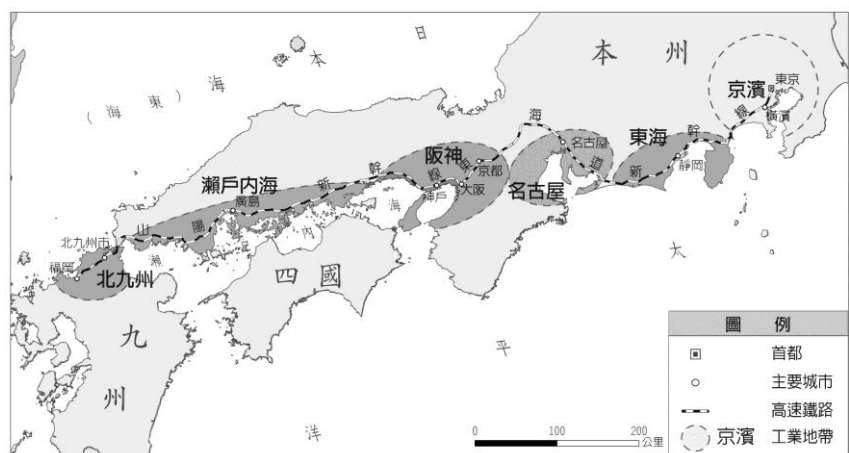
右圖為東南亞行政區圖，圖中 A~~~H 為東南亞各國家之代號，請回答下列第 47、48 題：
 47. 圖讀可知，下列那一個國家不是屬於南洋群島的國家？

- (A) D (B) F (C) G (D) H。
 48. 聖哥想規劃 2019 年的元旦假期，希望品嚐道地的「冬蔭功湯」，據了解此為泰國的家常菜代表之一，請問聖哥應選擇下列那一個國家呢？
 (A) A (B) B (C) E (D) D。

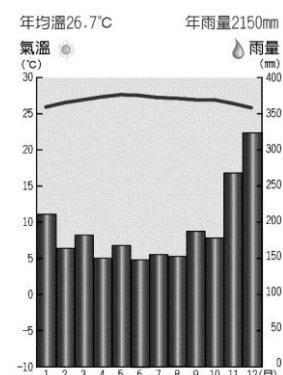


東南亞行政區圖

49. 右圖為日本的工業地帶，該國工業地帶的分布主要考量的因素是「交通」，其中聯結日本三大平原工業區的交通方式，下列何者機會最少？
 (A) 海運 (B) 陸運 (C) 空運。



50. 右圖為亞洲某地「氣候圖」，依其溫度、雨量特徵判斷，這個都市最有可能是下列何者？
 (A) 朝鮮半島—釜山
 (B) 中南半島—曼谷
 (C) 東印度群島—新加坡
 (D) 印度半島—孟買



新北市立福營國中 108 學年度第二學期第三次段考社會科答案

1	2	3	4	5	6	7	8	9	10
B	A	D	B	A	C	C	D	A	B
11	12	13	14	15	16	17	18	19	20
D	C	A	C	B	A	B	D	C	C
21	22	23	24	25	26	27	28	29	30
A	D	A	B	B	C	A	C	D	B
31	32	33	34	35	36	37	38	39	40
D	B	C	A	D	A	C	D	A	B
41	42	43	44	45	46	47	48	49	50
C	D	D	B	D	C	A	B	C	C