

閱讀下列兩則短文，並回答 1-4 題

某位國王在位時致力於推廣拉丁文與基督教，並在西元 800 年被加冕為「羅馬人的皇帝」。他積極擴張領土，幾乎統一了西歐。然而，帝國卻在他死後逐漸分崩離析，最後帝國一分为三。

1. 這位被加冕的國王應是下列何者？ (A) 查里曼 (B) 君士坦丁 (C) 查士丁尼 (D) 鄂圖一世
2. 當時替這位國王加冕的人，最有可能具有下列哪個身分？ (A) 羅馬教宗 (B) 拜占庭皇帝 (C) 元老院主席 (D) 君士坦丁堡大主教

中古時期，歐洲出現疾病：「從病發到死亡只有幾小時，即使醫生亦束手無策。面對如此重大的災難，有些人選擇毫無顧忌地享受世界的歡樂、有些人則是選擇在恐懼中不停禱告。嘗試逃離災難者，在逃亡的過程中亦散播疾病。」

3. 上文所敘述的重大疾病，最有可能是下列何者？ (A) 新流感 (B) 黑死病 (C) 愛滋病 (D) 肺結核
4. 該疾病經由何種途徑傳入歐洲，並造成流行？ (A) 亞歷山大東征 (B) 商貿往來 (C) 美洲移民 (D) 十字軍東征
5. 義大利佩脫拉克有許多文學作品廣受當時人的喜愛，有人稱他為「第一位人文學者」，他被稱為人文學者可能原因為何？ (A) 首先以拉丁語文創作 (B) 作品中強調個人感情 (C) 批判基督教教會腐敗 (D) 創新科學研究方法
6. 某人感於當時政局的混亂，民眾飽受戰火之苦。於是寫下他對政治的看法，送給一位統治者，希望能夠受到重用，發揮自己的抱負。他認為：「國君必須強化君主的威權，建立效忠於國家的軍隊，才能建立政治秩序，免除人民的痛苦。」這個人最有可能是下列何者？ (A) 但丁 (B) 薄伽丘 (C) 莎士比亞 (D) 馬基維利
7. 英法百年戰爭在戰時與戰後，兩國在政治思想與結構上均有明顯的改變。以下何者是它們的變化？
甲、戰爭期間發展出強烈民族意識 乙、兩國均強化國王權力 丙、封建貴族的階級均得到提升 丁、兩國均哀悼貞德之死並封其為聖女 (A) 甲乙 (B) 乙丙 (C) 丙丁 (D) 甲丁
8. 為因應新型冠病毒流行，出入境者均須自我隔離 14 天，許多國家甚至採用封城的方式避免傳染擴大。歷史上也常有傳染病大流行的時刻，你認為下列哪些歷史狀況也可以採取這些防疫措施，以降低死亡率？
甲、十字軍東征欲收復聖地之際 乙、阿拉伯人周遊世界經商之時 丙、黑死病在西歐大流行的時刻 丁、西班牙人進入美洲接觸印地安人的時候 (A) 甲乙 (B) 丙丁 (C) 甲丙 (D) 甲丁
9. 七年級的歷史課本中出現了荷蘭人佔有台灣南部，西班牙人據有台灣北方，葡萄牙人經過台灣時高呼「福爾摩沙」。這樣的畫面與歐洲歷史進入哪個歷程有關？ (A) 日耳曼人大遷徙西滅西羅馬 (B) 十字軍東征促進東西商貿往來 (C) 蒙古西征建立跨歐亞大帝國 (D) 新航路的建立與海外拓殖
10. 17 世紀歐洲宗教改革時期，除了教會腐敗引來抨擊之外，哪一個事件再度印證西歐自古以來的「政教衝突」？ (A) 路德脫離羅馬公教 (B) 喀爾文要求教徒勤勉 (C) 羅耀拉創立耶穌會 (D) 亨利八世因婚姻與羅馬教會決裂
11. 「天主之僕徐光啟深感中國數學的停滯落後，故倡導數學的普及和應用。最著名的事跡之一是他與利瑪竇合作漢譯歐幾里得《幾何原本》前 6 卷」。利瑪竇是耶穌會傳教士，在中國去世後萬曆皇帝特別允許他葬於北京，喪禮由徐光啟主持。這段中外學術能夠互相碰撞增長學識，肇因於西方歷史哪一個變化？ (A) 阿拉伯人向外擴張與征服 (B) 十字軍東征促成的東西交流 (C) 文藝復興時期知識的傳播 (D) 羅馬公教因應批評所做的改革
12. 7 世紀時唐朝與阿拉伯在中亞怛羅斯大戰，擄獲造紙工人，從此「紙」走進阿拉伯歷史，催化了下列哪一現象？ (A) 發展出商業技術 (B) 征戰歐亞非三洲 (C) 海上航行遍布各地 (D) 有助於研究翻譯保存知識
13. 「你們不要明知故犯地以偽亂真，隱諱真理」、「你們原是仇敵，而真主聯合了你們的心。」。7 世紀在阿拉伯傳遞真主智慧，並改變阿拉伯命運的人是下列何者？ (A) 查里曼 (B) 君士坦丁 (C) 穆罕默德 (D) 查士丁尼
14. 當西羅馬帝國被日耳曼人消滅，東羅馬帝國卻有著截然不同的發展，下列何者是東羅馬帝國的歷史面貌？ 甲、查士丁尼欲收復失土 乙、君士坦丁堡工商繁榮 丙、保存古希臘羅馬作品 丁、傳播印度數字活躍於東西貿易 (A) 甲乙丙 (B) 乙丙丁 (C) 甲丙丁 (D) 甲乙丁
15. 對於頗受台灣人歡迎的炸地瓜、炸薯條，可以在下列哪一個歷史角落中找到它們的身世，與默默為人類付出，甚至在饑荒時成為搶救生命食物的貢獻？ (A) 阿拉伯人在商旅中將它們傳向全世界 (B) 十字軍東征時重要的交易糧食之一 (C) 西班牙進攻中南美洲時將其傳往歐亞 (D) 蒙古西征歐洲時沿途所發現的食物
16. 下列哪些歷史，可以看見聖經被當作重要經典保存並且其權威一再被印證與強調？ 甲、查理曼鼓勵教士手抄聖經 乙、阿拉伯人也強調聖經的神聖 丙、馬丁路德確信聖經是上帝啟示的所有來源 (A) 甲乙 (B) 乙丙 (C) 甲丙 (D) 甲乙丙
17. 就讀國中的堂堂想追求隔壁班同學正正，翻遍書本後決定採用英國劇作家所寫的十四行詩 To My Love：「我怎麼能夠把你來比作夏天？你不獨比它可愛也比它溫婉...」。這位劇作家甚至對英國經濟都產生影響力，他是下列何者？ (A) 薄伽丘 (B) 亨利八世 (C) 莎士比亞 (D) 賽凡提斯

公民科試題第 18 題至 33 題(每題 2 分)

18. 人力銀行是近年來廠商徵才與個人求職的重要管道，請問人力銀行在經濟活動循環中扮演何種角色？(A)商品市場 (B)生產要素市場 (C)生產者 (D)消費者
19. 最近流行「低脂雞肉減肥法」，使得雞肉在市場上賣到缺貨。在其他條件不變的情況下，請問近期內雞肉的價格最可能發生哪種變化？(A)上漲 (B)下跌 (C)維持不變 (D)先跌後漲
20. 台灣正式加入 WTO 之後，對台灣經濟可能有甚麼影響？(甲)面臨國際商品的強烈競爭(乙)進口擴增，導致產品價格上漲(丙)更能保護國內傳統產業(丁)市場擴大，有益於拓展對外貿易 (A)甲乙 (B)丙丁 (C)乙丙 (D)甲丁
21. 當社會發生通貨膨脹時，人民通常採取哪些方式來因應？(甲)用現金變黃金(乙)將現金儲存起來(丙)以實物交易取代貨幣交易(丁)用現金交換物品 (A)甲乙丙 (B)甲丙丁 (C)甲乙丁 (D)乙丙丁
22. 下列表格是福營玩具工廠裡兩位員工每小時可生產品質相當的布偶產量。在不考慮其他條件的情況下，哪位員工生產「鯊魚布偶」具有比較利益？(A)千玉 (B)迎熙 【本題只有兩個選項】

產品	鯊魚布偶	小丑布偶
千玉	4 隻	10 隻
迎熙	9 隻	18 隻

23. 承上題，請問千玉生產「小丑布偶」的機會成本為何？(A)0.4 隻鯊魚布偶 (B)0.5 隻鯊魚布偶 (C)1.8 隻鯊魚布偶 (D)2.5 隻鯊魚布偶
24. 世界各國在生產產品時，必須選擇生產何種類型產品，才能發揮國與國之間分工合作的好處？(A)社會成本較高者 (B)社會成本較低者 (C)機會成本較高者 (D)機會成本較低者
25. 2018 年忠幸國對樂添國的出口總額為 250 億美元，進口總額為 400 億美元。上述現象顯示 2018 年忠幸國對樂添國的貿易呈現下列何種現象？(A)貿易平衡 (B)貿易出超 (C)貿易逆差 (D)貿易順差
26. 下列表格是近兩年統伊國對美元的匯率表。2019 年的匯率變動會對統伊國造成何種影響？(甲)有利於進口貿易(乙)有利於出口貿易(丙)進口商品成本增加(丁)出口商品收入減少(戊)有利於前往美國旅遊者 (A)甲丙戊 (B)甲丙丁 (C)甲丁戊 (D)乙丙戊

	統伊國幣:美元
2018 年	34:1
2019 年	31:1

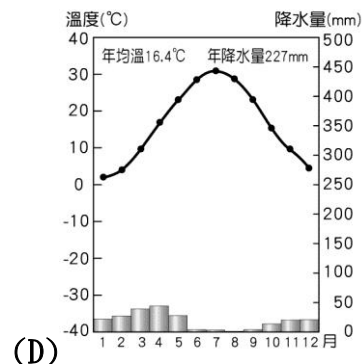
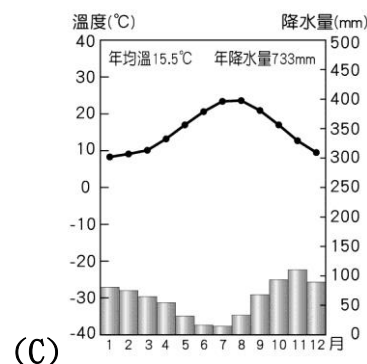
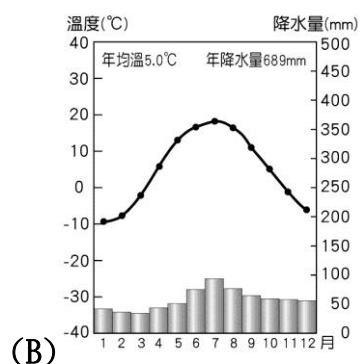
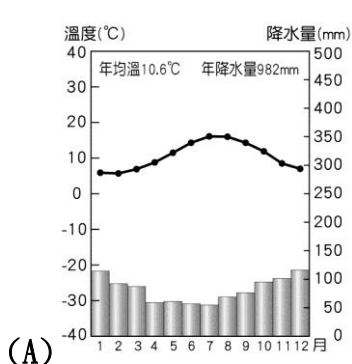
27. 信用卡是一種塑膠貨幣。下列關於信用卡的敘述，哪一項才對？(A)是貨幣的一種 (B)由中央銀行印製發行 (C)可延後支付消費款項的時間 (D)只能在無形市場中交易
28. 凱婷是忙碌的職業婦女，她習慣透過網路購物平台訂購家庭清潔用品。以下哪一種市場型態與網路購物平台相同？(A)電視購物頻道 (B)百貨公司 (C)二十四小時營業的便利商店 (D)家家福、大利發等大型賣場
29. 「穀貴傷民」、「穀賤傷農」意即供給與需求不平衡都會造成人民受害。下列何者最能有效率的使市場上的供給和需求趨於平衡？(A)政府 (B)消費者 (C)生產者 (D)市場價格
30. 冠誠和雯瑞一同逛名牌運動服飾店，並翻看每件商品的標價牌。紫色球鞋標價一萬元、黑色運動衫標價三萬元、棒球帽標價一萬五千元。由上述可知「元」代表貨幣的何種功能？(A)衡量價值 (B)債務清償 (C)交易媒介 (D)價值儲存
31. 我國大多數經濟活動的生產與分配都由「看不見的手」所主導，但下列哪一項交易的價格不是由「看不見的手」所主導？(A)耶誕節的卡片售價 (B)勞工的最低基本工資 (C)颱風過後蔬果的價格 (D)百貨公司清倉大特賣的衣服售價
32. 運用哪一種經濟學上的概念，可實現「天生我材必有用」或「人盡其才」的理想？(A)供給法則 (B)需求法則 (C)受益原則 (D)比較利益法則
33. 皓勳的堂哥在中央銀行工作，週末家庭日聚餐時，堂哥聊起平日工作的狀況，下列何者可能是堂哥工作的相關內容？(甲)提供民眾存款(乙)發行新臺幣(丙)保管國家黃金(丁)控制商品價格 (A)甲乙 (B)丙丁 (C)乙丙 (D)甲丁

地理試題【第34~50題 每題2分】

34. 請問下列何者是東歐最主要的山脈？
 (A)阿爾卑斯山 (B)斯堪地那維亞山脈 (C)本寧山 (D)喀爾巴阡山。
35. 請問下列何者是西歐與南歐的分界山脈？
 (A)阿爾卑斯山 (B)斯堪地那維亞山脈 (C)本寧山 (D)喀爾巴阡山。
36. 請問下列何者是位於峽灣王國境內？
 (A)阿爾卑斯山 (B)斯堪地那維亞山脈 (C)本寧山 (D)喀爾巴阡山。
37. 萊因河為歐洲航運價值最大的河川，請問該河川是在下列那一港口入海？
 (A)阿姆斯特丹 (B)鹿特丹 (C)亨墨菲斯 (D)符拉迪沃斯托克。
38. 以下為河川與特色的配對，請選出正確的配對。

	(A)	(B)	(C)	(D)
河川	泰晤士河	萊因河	多瑙河	窩瓦河
特色	巴黎左岸咖啡	歐洲第一長河	出口方向不佳	注入黑海

39. 請問下列那一個港口最有機會看到永晝永夜的景觀？
 (A)阿姆斯特丹 (B)鹿特丹 (C)亨墨菲斯 (D)符拉迪沃斯托克。
40. 船員武太郎先生在太平洋上捕漁，遇到颱風，請問他最有可能前往下列那一個港口避難？
 (A)阿姆斯特丹 (B)鹿特丹 (C)亨墨菲斯 (D)符拉迪沃斯托克。
41. 下列哪張氣候圖可代表西歐大部分地區的主要氣候類型？



42. 法國南部的蔚藍海岸氣候宜人，在晴朗無雨的夏季常常可以見到大批遊客在海灘上做日光浴。請問：此地的氣候類型為下列何者？ (A)高地氣候 (B)溫帶海洋性氣候 (C)溫帶大陸性氣候 (D)溫帶地中海型氣候。
43. 宜靜到歐洲旅行，到某個國家發現當地土地低溼，發展酪農業與花卉園藝業，並有特殊的傳統穿著，因此拍下了這張照片(如附圖)。請問：宜靜最可能到哪個國家去旅行？ (A)荷蘭 (B)法國 (C)冰島 (D)芬蘭。

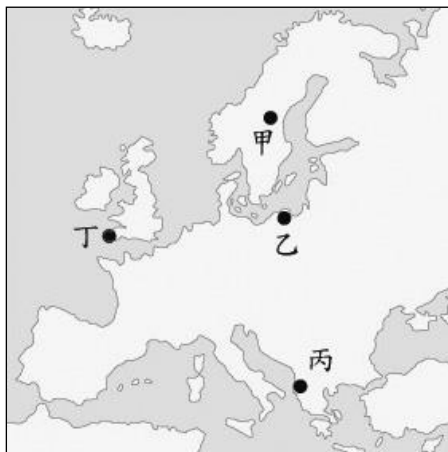


44. 小王下班後開著愛車 Benz 準備和老婆去 IKEA 添購家具，途中巧遇車禍，看著 ROLEX 手錶發現快要遲到了，只好趕緊用 iPhone 手機和老婆說聲抱歉。請問：上述小王沒有使用到哪國的產品？ (A)瑞士 (B)德國 (C)瑞典 (D)芬蘭。

西歐與北歐的國家各具特色。下頁附圖為西歐、北歐位置圖，請回答第45~47題：



45. 歐盟總部所在地設於何國？ (A)庚 (B)戊 (C)辛 (D)壬。
46. 歐盟銀行所在地設於何國？ (A)庚 (B)戊 (C)辛 (D)壬。
47. 金城勳想規劃一個歐洲之旅，做了以下的筆記，請問何者有誤？
 (A)到甲國參觀溫室農業 (B)到有世界公園之稱的癸國看美景 (C)到己國品嚐美味香檳 (D)到丁國體會牧場風光。
48. 多瑙河流經東歐許多國家，請問下列那一個國家沒有包括在內？
 (A)捷克 (B)匈牙利 (C)羅馬尼亞 (D)烏克蘭。
49. 小菲旅遊日記(一):某年6月1日
 美麗人生從旅行開始。長途飛行終於結束，飛機降落布拉格，小菲熱情歡呼:「千塔之城，我來了。」
 小菲旅遊日記(二):某年6月3日
 小菲漫步在萊茵河左岸的布達市街上，決定由水運去黑海體會一下不同的交通方式。
 小菲旅遊日記(三):某年6月10日
 小菲站在有名的紅場，抬頭仰望那有名的天主教聖堂，洋蔥式的屋頂美麗極了，果然出門走走看看是對的。等下去搭一下那個世界最長的鐵路好了，這樣可以順便欣賞沿途的歐亞界山(高加索山)，以及多種地形起伏的美景，茂密的針葉林……
- 請問上述日記中，迷糊的小菲記錄錯誤的地方一共有幾處？
 (A)1處 (B)2處 (C)3處 (D)都沒有錯。
50. 「距今約6,500萬至250萬年前，因為板塊碰撞擠壓，這裡隆起許多新褶曲山脈，部分沿海山地有厚層的石灰岩，受到溶蝕作用出現崎嶇的地形，嚴重影響當地的農業與交通發展。」上述自然景觀，最可能出現在下圖中的甲、乙、丙、丁哪一地區？ (A)甲 (B)乙 (C)丙 (D)丁。



Ps 上圖中:白色區域為陸地，深色區域為海洋

新北市立福營國民中學 109 學年度第一學期第二次段考

九年級社會科答案

1	2	3	4	5	6	7	8	9	10
A	A	B	B	B	D	A	B	D	D
11	12	13	14	15	16	17	18	19	20
D	D	C	A	C	C	C	B	A	D
21	22	23	24	25	26	27	28	29	30
B	B	A	D	C	C	C	A	D	A
31	32	33	34	35	36	37	38	39	40
B	D	C	D	A	B	B	C	C	D
41	42	43	44	45	46	47	48	49	50
A	D	A	D	C	D	B	A	C	C