

新北市立福營國民中學 109 學年度第 1 學期七年級第三次段考社會領域試題

請劃記在電腦答案卡上作答，並正確劃記班級及座號，劃記錯誤者依成績評量辦法扣分，第一部份歷史題為 1~17 題，每題 2 分

1. 小餅看著他的上課筆記中有寫說 1860 年代以後，臺灣政治經濟重心逐漸由南部轉移至北部，但他忘記原因了，請你幫他回想起來。請問，其主要原因為何？
(A) 南部米糖生產下降，經濟蕭條，造成人口往北移動
(B) 南部多颱風與地層下陷，天災頻傳，迫使人口外移
(C) 北部移民來源複雜，經常發生變亂，必須駐兵鎮壓
(D) 北部發展茶與樟腦，山區大舉開發，經濟發展快速。
2. 啾啾鞋是住在臺灣中部的漢人，當時候他聽說有個水圳剛完工，而且是和原住民合力開墾的，他想去附近尋找生存機會。請問，他最有可能到右邊【圖一】的哪一個點尋找生存機會？
(A) 甲 (B) 乙
(C) 丙 (D) 丁。



【圖一】

3. 清帝國統治時期，臺灣出現多條水利建設，有助於農地的開發與利用。其中瑠公圳的修築，對臺北盆地的開發貢獻極大。請問，瑠公圳修建時，應隸屬於哪一個行政區？
(A) 諸羅縣 (B) 彰化縣
(C) 淡水廳 (D) 噶瑪蘭廳。
4. 臺灣的信仰非常多元，與信仰相關的俗諺也非常多。曾有俗諺說：「三月瘋媽祖，四月迎王爺，五月城隍生。」也有一說為：「北城隍、中媽祖、南王爺。」請問，上述所提到的神明，屬於哪種類型的宗教信仰？
(A) 移民在原鄉信仰的神明 (B) 漢人在臺灣的共同信仰
(C) 西方文化傳入後的宗教 (D) 紀念第一代來臺的祖先。
5. 湯瑪士準備進行歷史報告，蒐集到以下資料：「臺灣五大家族之一的臺中霧峰林家原籍漳州，1746 年渡海到臺灣中部定居，第一代卻因被官方認定參與林爽文事件而被捕殺。到了第五代的林文察，林家已掌控了中臺灣大量的田地，並因協助平定同治年間的臺灣民變，而獲得清廷賞賜閩、臺地區的樟腦專賣特權。第六代的林朝棟，甚至帶著 2000 多名的鄉勇，北上基隆，積極協助劉銘傳抵抗外敵，因功被賜為二品官，林家進而成為清領時期臺灣社會最具影響力的家族之一。此外，霧峰林家每年會從祖產中撥出部分經費，祭祀林家歷代祖先」請問，針對湯瑪士蒐集到的內容中研判，霧峰林家的祭祖方式，屬於下列何種宗族組織？
(A) 唐山祖 (B) 開山祖 (C) 天公祖 (D) 開臺祖。
6. 關關在《臺灣名人傳記》中看到如下敘述：「他打破女子無才便是德的舊觀念，設立臺灣第一間女子學校。雖然招生時遭遇困難，但他以完全免費，供食宿、衣著作為鼓勵，終於招到 34 名學生，大部分是平埔族女孩。」請問，關關判斷這位歷史人物應該是下列何者？
(A) 劉銘傳 (B) 邵友濂 (C) 馬偕 (D) 馬雅各。
7. 清朝時期，漢人陸續來臺拓墾。請問漢人拓墾方向為何？
(A) 由南向北，由東向西 (B) 漫無方向，隨機拓墾
(C) 由南向北，由西向東 (D) 由中央山脈向東、西兩方同時拓墾。
8. 清代臺灣吏治不良，駐防軍隊軍紀敗壞，加上民間秘密結盟風氣盛行，經常發生反抗官府的民變。請問，下列何者最能解釋民變的意義？
(A) 奴隸反抗雇主 (B) 人民反抗官府
(C) 地方反抗中央 (D) 佃農反抗地主。
9. 兩位同學在談論臺灣的械鬥。阿傑說：「兩類肇端，每在連塍*爭水、強割占耕、毫釐口角，致成大衅**。」蔡哥說：「因閩庄、粵庄彼此交錯，田業毗連，遂有構衅相爭之事。」請問，就兩人的說法來看，分類械鬥的起因是？
(A) 利益競爭 (B) 習慣不同 (C) 官員放縱 (D) 語言隔閡。

*連塍 (ㄉㄨㄥˊ)：稻田中間的小路

**大衅 (ㄉㄞˋ)：指大型爭端

10. 呱吉常常會說他的東西只挑「正港」的。正港一詞本來指的是當時透過對渡口岸所引進的商品，但在臺語中用來形容物品如假包換，絕不是盜版，表示官方查驗過。請問，臺灣最早的「正港」是設在哪裡？
(A) 鹿耳門 (B) 鹿港
(C) 打狗 (D) 八里坌。

【第一頁結束，背面尚有試題，請翻頁持續作答】

11. 學者指出：臺灣昔日游民，非釀亂不可為生。同治以後，工作機會變多。這些想賺錢的人，已不把目光放在農村了。因為到大都市去，可以賺取得更多的報酬。故百餘年來械鬥之風，至同治以降，一時頓絕。請問，所謂的「同治以後，工作機會變多」，根據你的歷史知識判斷可能與哪個事件後的發展最直接相關？
(A)臺灣開山撫番 (B)臺灣開港通商 (C)戴潮春事件 (D)牡丹社事件。

12. 小歐完成了一份開港通商前後的比較表格【圖二】，但老師說他有【圖二】個項目寫錯了，請問小歐是哪一個項目寫錯了？
(A)甲 (B)乙
(C)丙 (D)丁。

項目	開港前	開港後
甲、主要港口	府城、鹿港、 艋舺	淡水、雞籠、 安平、打狗
乙、輸出品	稻米、蔗糖	茶、蔗糖、樟 腦
丙、主要市場	中國大陸	歐美、日本、 東南亞
丁、政經重心	北部	南部

13. 大黑在圖館看到一本書籍記載某位歷史人物的事蹟如下：「西元1865年5月，他以傳教士與醫生的雙重身分來到臺灣，他在高雄旗後(今旗津)登陸。他頂讓一間民房，開辦看西街醫館，為全臺第一間西式醫院」
請問，這位傳教士是哪個教會派來的？
(A)基督教耶穌會 (B)天主教耶穌會
(C)基督教長老會 (D)天主教長老會。

※諾基要進行歷史主題閱讀，如下列資料所示，並回答14-15題：

1790年，鳳山縣的官兵在東港查獲一艘走私的小船，逮捕四人。經過審訊，犯人供稱：他們是被人所雇用，在一艘合法的大船上工作。原本是要在中國沿海買賣布匹，但是船隻的管理人，聽說臺灣的布價高，但番薯價格便宜，於是他改變主意，要來臺灣賣布，再把賺到的錢拿來買番薯，運回缺糧的福建，用高價售出。他們從廈門出發，走私了許多布匹與日用品，因為怕被發現，大船停在東港外海，用小船將走私的貨物偷運上岸。沒想到被官兵發現後，大船就逃了。

參考資料：《小的臺灣史》

14. 根據文中所述，被捕的四人為何來到臺灣走私？
(A)臺灣糧食不足，番薯價格高漲 (B)臺灣海岸遼闊，走私不易被抓
(C)臺灣工業發達，布匹價格便宜 (D)臺灣番薯價低，但布匹價較高。
15. 若文中該船商人是依循正常的管道來臺貿易，他最有可能參加下列哪個組織？
(A)布郊 (B)糖郊
(C)北郊 (D)泉郊。

16. 請閱讀右側資料【圖三】，請判斷「頂下郊拼」發生的主要原因為何？
(A)祖籍不同
(B)商業競爭
(C)爭奪水源
(D)爭奪田地。

【圖三】

資料一 十八世紀後期，移民至艋舺的泉州人以從事海峽兩岸貿易維生。十九世紀，艋舺的泉州移民漸多，並發展出下郊(同安人移民組成)與頂郊(晉江、惠安、南安三縣移民合組)兩行郊。兩大商業團體為了爭奪艋舺碼頭的貨運，時常發生衝突。

資料二 西元1853年，雙方發生激烈的械鬥，是為「頂下郊拼」。同安人遭到驅離，轉到大稻埕興建店街，利用淡水河從事貿易，而後在大稻埕建了霞海城隍廟，奉祀從械鬥中救出的城隍爺神像。

17. 【圖四】是清朝道光、光緒年間，臺灣中部水沙連六社原住民的人口數量，從數字可知水沙連一帶原住民人口數量減少。請問，造成這種現象的原因最可能為何？
(A)械鬥增加，致使原住民傷亡慘重
(B)隨著漢人土地開墾範圍擴大，原住民的生存空間日漸受到壓縮
(C)傳染病爆發，導致原住民人口銳減
(D)清廷實施渡臺禁令，許多原住民被迫遷移。

【圖四】

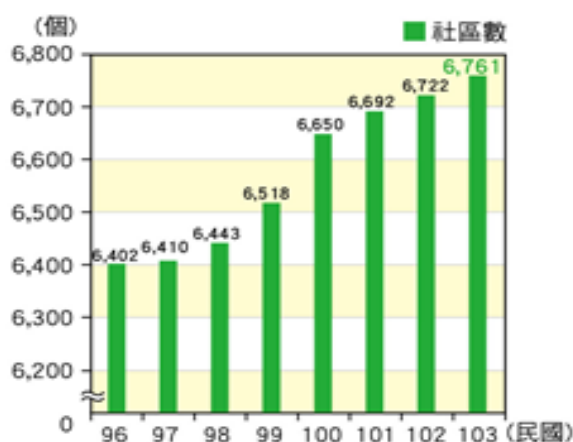
社名	道光7年	光緒20年
田頭社	188人	156人
水裏社	434人	131人
貓蘭社	95人	30人
審鹿社	52人	35人
埔裏社	27人	45人
眉裏社	124人	27人
合計	1020人	434人

第二頁歷史科試題結束，第三頁尚有試題，請持續作答

18. 學校在安排學生健康檢查前，皆會分發「健康檢查說明暨受檢同意書」，內容包含檢查項目、進行方式與注意事項，並特別明訂：檢查涉及身體隱私部位時，如胸部、腹部、泌尿及生殖器，如果感到不舒服，可立即當場拒絕。請問：上述內容主要是保障學生哪方面的權利？ (A)人格權 (B)受教權 (C)財產權 (D)身體自主權。
19. 近來社區治安問題頻傳，居民著手繪製社區安全檢測地圖，積極與學校單位及附近店家共同合作，標示並記錄社區內的治安死角，向相關單位申請加裝路燈與監視器，並組織守望相助巡守隊，以尋求社區治安的改善。從上述內容判斷，下列何者是解決社區問題的關鍵因素？ (A)政府補助措施 (B)店家積極協助 (C)居民主動參與 (D)警察加強巡邏。
20. 下圖是小禾班上正在開班會的情形，請問：下列什麼狀況會使得小東提出如圖中之發言，以處理開會過程產生的狀況？



- (A)檢討本班秩序比賽的成績不佳 (B)小軒提出動議招小毛鼓譟反對 (C)燈光熄滅使現場產生騷動狀況
(D)主席採先提議後表決處理議案。
21. 在學校中，我們會透過班會來討論與決定班級的公共事務，下列有關班會進行方式的說明何者正確？
(A)由導師宣布會議的開始及開會的目的 (B)會議之前提出動議並由一人以上附議 (C)表決採取先提名先表決及多數決原則 (D)討論事項完畢後交由導師報告及講評。
22. 布農族的卡度部落召開部落會議，積極推動部落傳統領域的劃設工作，針對與邵族傳統領域出現重疊爭議的土地，希望能提出新事證，以和平理性的方式進行協商、化解爭端。根據上述判斷，對於原住民族而言，部落會議主要具備了何項功能？ (A)繼承土地劃分 (B)決定部落事務 (C)學習祖先智慧 (D)尋找文化根源。
23. 一名排灣族原住民在跟大家分享部落的特色時，提到：「狩獵本來就是原住民族文化的一部分，他們以『生態平衡者』自居，只取所需，從不貪婪濫捕濫殺，如此一來才能真正守護土地……。」原住民族對於狩獵所秉持的態度，得以實現何種部落發展的理想？ (A)永續發展 (B)互助共享 (C)文化認同 (D)各司其職。
24. 下圖為民國104年衛生福利部「社區發展工作推動成果與展望」報告中，有關我國自民國96年到103年社區數量變化情形的統計資料。請問：下列何者最能與該統計資料的變化趨勢相互呼應？



- (A)社區的經濟產業發展日漸蓬勃 (B)由下而上的社區組織受到重視 (C)人口成長之自然增加率為正值
(D)追求永續社區的理想仍待努力。

25. 關於下圖場景，若從行使權利與承擔責任的角度來思考，下列哪個敘述最正確？



- (A)權利應相互尊重不能讓他人陷於危險中 (B)乙生應該盡快向甲生學習跟上實驗進度
 (C)權利行使是單向的，乙生不應該影響甲生 (D)上課做實驗是甲生的人格權，不能被剝奪。
26. 好管閒事之人在二十一世紀有新的含義，是指有很多年輕人願意走入社區參與公共事務，對身邊發生的事主動關懷，並傾聽大家的想法和需求。請問：以下何人並非上文所說好管閒事之人？(A)理謙：廣泛了解社會事件，選出適當候選人 (B)瑜芳：前往尼泊爾擔任志工，照顧當地幼童 (C)玉樹：發現學校廁所漏水，主動通知學校維修 (D)天愛：瀏覽聯合國的網站，認識各國風土民情。
27. 上公民課時，小基老師說明校園霸凌的定義，同學也紛紛呼應自己在求學過程中，有自己或其他同學遭到霸凌的經驗，下列何人的例子不屬於校園霸凌？

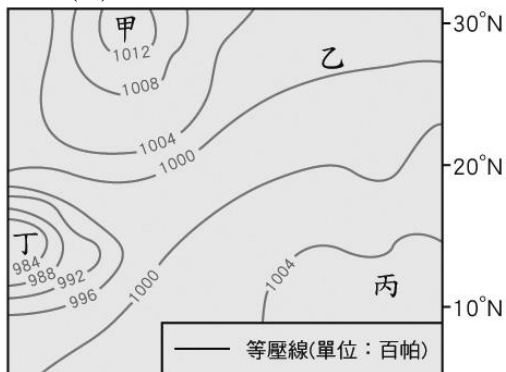
(A)	小花	在學校考試成績不好，常被同學笑他沒長腦
(B)	小艾	在班級群組內(Line)發言經常被同學忽視或冷落
(C)	小丁	穿著打扮較中性，同學都直接稱呼他男人婆
(D)	小白	校慶園遊會因為和同學意見不合而打起來並被推倒

28. 目前就讀台北科技大學的簡廷安同學，榮獲第 50 屆全國技能競賽工業控制金牌，他在接受媒體採訪時表示，自己從小就對修理電器特別有興趣，就讀福營國中時就喜歡可以動手操作的課，就讀松山工農時，學會了工業配線技能及其他的工業技能。請問：此為學校生活帶給他的哪一種幫助？(A)發掘潛能以展現自我 (B)培養人際互動的能力 (C)學習參與公共事務知能 (D)建立正確的學習態度。
29. 下表是 720 本學期在班會的討論提案，下列哪一週的提案已經逾越了學生自治的範圍？(A)第一週 (B)第二週 (C)第三週 (D)第四週。

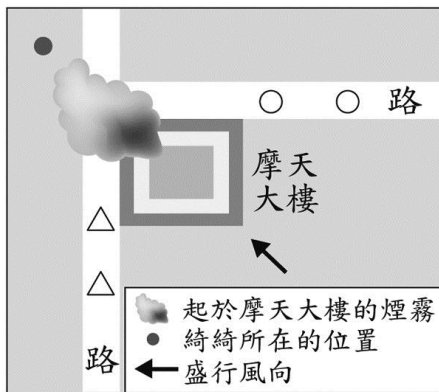
第一週	班上的班服樣式及顏色
第二週	園遊會攤位內容的設置及分工
第三週	七年級環境教育校外教學的地點
第四週	第三次段考改成各班老師自由出題



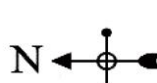
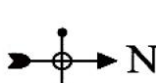
30. 新竹縣尖石鄉的泰雅族司馬庫斯部落因自然美景而吸引觀光商機，但利益分配卻引發部落內部衝突。為了解決這些問題，族人們進行多次討論，最後確定「土地部落共有共管」的方式，決定由部落族人共同規畫經營土地，所有參與工作者薪資相同，更將經營所得的利益平均分配，並訂出完善的福利制度，提供需要的族人使用。請問：泰雅族人面臨問題時邀集族人共同處理的過程最能代表何種意義？(A)身為公民應遵守法律規範 (B)鞏固耆老的領袖權力
 (C)落實部落自治落實部落自治 (D)尊重原住民的宗教信仰。□□□□□□□□□□□□□□□□
31. 福氣國中最近舉辦校慶 40 周年吉祥物玩偶設計的投票，最後由小彤同學設計的福氣虎造型勝出。請問：學校的做法主要是希望培養學生的何項能力？(A)發掘學生的潛在能力 (B)找尋適合的學習方法 (C)參與校園的公共事務 (D)培養良善的人際互動。
32. 小叮噹在開班會時吵鬧不停，大雄轉頭叫小叮噹安靜一點，卻因此在放學後被小叮噹痛毆一頓。小叮噹的爺爺知道情況後，嘆了口氣說，家裡只有祖孫二人，自己為了工作常不在家，想好好管教孫子，實在是有心無力。根據上述內容判斷，下列何項敘述正確？(A)針對開班會時的情況，大雄可提出權宜問題 (B)大雄可申請保護令，以免小叮噹再次拳腳相向 (C)大雄可向學校學務處提出性平事件要求調查 (D)小叮噹家的家庭型態最可能為小家庭型態。

33. 校園電影《那些年，我們一起追的女孩》其中一內容橋段敘述主角沈佳宜的班級因為班費不見了，教官要求班上同學互相投票誰是最有可能偷班費的人，最後投票結果票數最多的前三名同學要被教官搜書包。請問：上述電影情節被教官搜書包部分並沒有保障少年的哪一種權利？ (A)受教權 (B)人格權 (C)財產權 (D)身體自主權。
34. 過去我們常使用「鄰里」、「村落」、「部落」等名詞，形容特定地理範圍的集居狀態，但近年逐漸出現「社區」一詞的說法，更強調居民對社區的心理認同與情感歸屬。上述關於社區的說法，主要在凸顯下列何者的重要性？ (A)社區活動 (B)社區意識 (C)社區型態 (D)社區環境。
35. 《根據統計，台灣本島平均降水量達 2500mm，但去年光 12 月中旬短短半個月，北部大屯山降下 1369mm，蘇澳降下 1165mm 雨量，而同一時間的台南高雄屏東沿海，則滴雨未降...》請根據上述報導判斷此時降水為何者？ (A)地形雨 (B)鋒面雨 (C)對流雨 (D)颱風雨。
36. 下圖為某熱帶海域的地面天氣圖。若僅根據圖上的數值判斷，哪一地區形成颱風的可能性較高？ (A)甲 (B)乙 (C)丙 (D)丁。

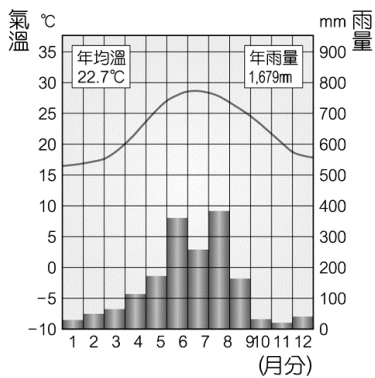


37. 綺綺一家人於跨年夜時欣賞 101 大樓施放的煙火秀，但受到該季節盛行風向影響，煙火被煙霧擋住，因此大部分時間看不到美麗的煙火，如附圖所示。根據上文判斷，此圖的方位標示為下列何者？



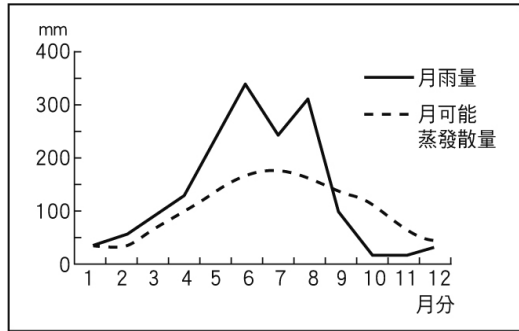
- (A)  (B)  (C)  (D) 

38. 下圖為某地的氣候圖。請問：該地最可能是下列哪個地方？ (A)蘇澳 (B)基隆 (C)淡水 (D)嘉義。



39. 日本第一高峰富士山，海拔高度 3,775 公尺，西元 2018 年 9 月迎來初雪。臺灣第一高峰玉山，海拔高度 3,952 公尺，卻直到西元 2019 年 1 月才迎來初雪。請問：為何海拔高度較高的玉山，降下初雪的日期會晚於較矮的富士山？ (A)臺灣氣候乾燥，不容易降水 (B)臺灣氣壓較高，降水量偏低 (C)因氣候變遷，日本降雪時間提早 (D)日本緯度較高，氣溫較臺灣低。

40.在沒有灌溉的情況下，附圖中地區的農業發展，在哪幾個月分最容易發生缺水的現象？ (A)十二月至三月 (B)二月至五月 (C)七月至九月 (D)九月至十二月。



二、題組

◎附圖為臺灣的主要水庫分布圖，請依圖回答下列問題：



41.圖中可見臺灣水庫主要分布在西半部地區，請問主要原因為何？ (A)人口分布 (B)緯度高低 (C)風力強弱 (D)氣壓差異。

42.附圖中供應臺北地區用水的翡翠水庫在哪一條河川流域內？ (A)高屏溪 (B)淡水河 (C)花蓮溪 (D)濁水溪。

◎民國 106 年 7 月底，尼莎、海棠兩個颱風接連襲臺，海棠颱風雖然是輕度颱風，但仍造成不少災情。右圖為海棠颱風的資料，分別是颱風路徑、颱風等級與七級暴風半徑範圍，根據右圖請回答下列問題。

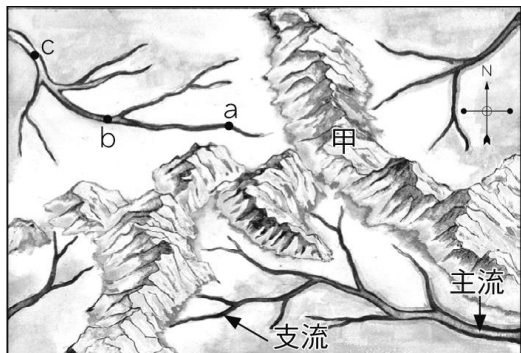


43.下列關於海棠颱風的敘述，請問何者正確？ (甲)颱風造成的風雨對東部影響較小 (乙)海棠颱風的暴風半徑為 100 公里 (丙)颱風與東北季風共伴效應，雨勢驚人而造成災情 (丁)海棠颱風為輕度颱風，風力較強颶和中颶弱

(A)甲乙丙 (B)乙丙丁 (C)甲乙丁 (D)甲丙丁。

44.海棠颱風出海後仍持續為臺灣帶來雨勢，若以海棠颱風侵臺路徑來看。請問：下列哪些地區在颱風警報解除後，其累積的降水量可能最高？ (A)高雄、屏東地區 (B)台東、花蓮地區 (C)新竹、苗栗地區 (D)宜蘭、臺北地區

◎附圖為某水系示意圖。請問：



45.圖中的「甲」為何？ (A)主流 (B)水庫 (C)流域 (D)分水嶺。

46.左上方河川若有人類開發，則下列敘述何者正確？ (A)a 地勢最低 (B)b 水量最多 (C)c 汙染最少 (D)全圖有四個水系。

47.圖右下方水系的主流流向為何？ (A)東方 (B)西方 (C)北方 (D)南方。

◎慈恩家裡以種植果樹維生，她想利用地理課學到的水文知識，了解家中果園與附近水系的關係。附圖是慈恩家附近水系的示意圖，請根據附圖回答問題：



48.慈恩家果園的旁邊是一條河流，提供果園所需的灌溉水源，請問圖中哪個地點位於果園的集水區？ (A)甲 (B)乙 (C)丙 (D)丁。

49.慈恩發現果園旁的河流流量愈來愈不穩定，雨季時常河水暴漲，淹沒果園；乾季時常河水水位太低，造成果園無水可用。請問：下列哪一個措施可以改善這個問題？ (A)興建攔沙壩 (B)做好汙染管制 (C)實施魚菜共生 (D)做好水土保持。

50.下雨時，果園的農藥與化學肥料會順著水流流進河川，使河水受到汙染。請問：果園中的肥料與農藥，會對哪些地點的水質產生影響？ (A)乙丁 (B)甲乙 (C)丙丁 (D)甲丙。

新北市立福營國民中學 109 學年度第 1 學期七年級第三次段考社會領域試題解答

1	2	3	4	5	6	7	8	9	10
D	B	C	A	D	C	C	B	A	A
11	12	13	14	15	16	17	18	19	20
B	D	C	D	A	B	B	A	C	D
21	22	23	24	25	26	27	28	29	30
C	B	A	B	A	D	D	A	D	C
31	32	33	34	35	36	37	38	39	40
C	A	B	B	A	D	D	D	D	D
41	42	43	44	45	46	47	48	49	50
A	B	C	A	D	D	A	A	D	A