

新北市立福營國民中學 109 年度第一學期九年級第三次段考歷史科

閱讀以下資料，回答問題 1-6

資料一：「科學革命的萬丈光芒掩蓋了基督教崛起之後的一切成就，相形之下文藝復興與宗教改革只是歷史的插曲…科學革命是現代世界與現代心智狀態的真正起源。」

資料二：「十七世紀大部分的人們並不認為世界發生了劃時代的革命，如果有人寫出論述完備的十七世紀自然思想史，卻一點也沒有提及傳統裡的科學革命，那也沒什麼好驚訝的。」

1. 根據你學習歷史的經驗加上資料一的描述，科學革命除了促進近代科學的興起之外，還如何影響人類文明？
(A) 改變思考方式，產生新宇宙觀 (B) 衝擊宗教信仰，否定精神生活 (C) 挑戰社會秩序，產生新家庭觀 (D) 扭轉創作風格，否定文藝復興
2. 根據資料二的描述，科學革命的意義並未讓十七世紀多數人確實感受到，造成此現象最可能原因為何？
(A) 科學家的社會地位長久以來受到壓抑 (B) 對當時政治社會沒有造成影響 (C) 新儀器、新發現和民眾生活關係不大 (D) 科學發展受到當時各國政府及教廷刻意打壓
3. 資料一和資料二對於科學革命有不同的見解，一者讚揚，一者無關緊要，我們可以如何看待這種情況？
(A) 事實真相只有一個，資料一或二必定有一為誤 (B) 依科學態度，資料一和二沒有足夠證據證明 (C) 因為說法不同，科學革命可能是後人偽造 (D) 研究人員可能從各自不同角度做出不同的歷史解釋

五人小組商議後，撰寫宣言，表示：「合眾殖民的是自由獨立的國家，按其權利也必須是自由獨立的國家，他們取消一切對英國王室效忠的義務，他們和大英王國之間的政治關係從此全部斷絕，而且必須斷絕」

4. 這份文件應發布於下列哪個城市？(A) 倫敦 (B) 費城 (C) 巴黎 (D) 紐約
5. 下列何者是此宣言傳達的概念？(A) 取得集會遊行之權 (B) 任意變更政體之權 (C) 擁有私人資產之權 (D) 追求生命、自由權
6. 這份文件內容反對大英帝國，其最終衝突點為何？(A) 族群衝突 (B) 宗教歧見 (C) 缺乏福利 (D) 徵稅問題

17、18 世紀是強調理性的時代，請根據問題，回答 7-10 題，找出下列那些人物以他們的智慧理性帶領人們在科學與政治上前進？（若你的答案是 AB 請在同一題上同時塗上 A 與 B）

7. 提出歸納法，綜合觀察與實驗結果的學者？
8. 證明哥白尼「天體運行」的正確性的人物？
9. 提出「天賦人權」的政治學家？
10. 強調言論自由與宗教寬容的啟蒙運動學者？
以上四題由此選出正確選項：A 牛頓 B 笛卡兒 C 伽利略 D 培根 AB 洛克 AC 伏爾泰 AD 盧梭 BC 亞當斯密
11. 根據英國的政治傳統，移民美洲的清教徒可以依據哪一項理由拒絕納稅給英國政府？(A) 沒有代表進入內閣，不得徵稅 (B) 沒有議員代表出席議會，不得徵稅 (C) 國王沒有經過議會同意不得徵稅 (D) 選舉方面，沒有取消財產限制，故可拒絕納稅
12. 工業革命後產生許多社會問題，其中貧富懸殊所造成的缺乏正義，是下列哪一學者所要探討解決的？
(A) 啟蒙學家 (B) 政治學者 (C) 社會主義學者 (D) 宗教研究學者
13. 1794 年 7 月 28 日，羅伯斯比爾被送上斷頭台，按照他之前支持頒布的法律：作為反革命，無權為自己辯護。法官僅用三十分鐘就判處他死刑，當天執行。劊子手行刑的那一刻，也象徵法國在大革命之後哪一階段命運的結束？
(A) 恐怖統治 (B) 拿破崙時代 (C) 七月革命 (D) 二月革命
14. 18 世紀歐洲革命風起雲湧，其中有共同的議題與促成革命的動力。請從下列選項找出正確組合？
(A) 徵稅問題+科學革命 (B) 徵稅問題+啟蒙運動 (C) 大陸會議+科學革命 (D) 徵稅問題+維也納會議
15. 雄大帶著攝影團隊針對波士頓港口、紐約自由女神像、費城與巴黎的巴士底監獄做了一連串深度報導，上映時哪一個標題最能畫龍點睛地傳達這部影片的主題？(A) 革命歲月，自由曙光 (B) 璀璨建築，輝映日月 (C) 戰亂迭起，民不聊生 (D) 皇室崛起，再現風華
16. 英國皇家歷史學會資深會員 Ian Mortimer 最新著作：「漫遊十七世紀古英國：光榮革命、理性主義、咖啡館文化誕生，奠定現代英國基礎的四十年」。作者所指奠定英國走向現代的基礎，是以下哪一歷史過程？(A) 頒布大憲章限制國王權利 (B) 內閣逐漸形成，掌握政治實權 (C) 兩場議會與國王的革命，確認識會獲勝 (D) 1832 改革法案，重新確認政治與社會的公平性
17. 昔日為消除地方主要貴族勢力所建的凡爾賽宮在法國大革命時被洗劫一空，下列哪一君主若還在世必定喟嘆自己成就的崩塌？(A) 路易十四 (B) 彼得大帝 (C) 腓特烈二世 (D) 凱薩琳二世

新北市立福營國民中學 109 學年度第 1 學期第 3 次段考 9 年級公民科試題

18. 失業者可依據下列何種法律向政府申請津貼與補助，以維持其在失業期間的基本生活？
 (A) 勞動基準法 (B) 國民年金法 (C) 就業保險法 (D) 勞工退休金條例。
19. 現代社會注重性別平等，因此在家庭經濟與事務的規劃上，也要求落實平等的精神。下列關於家人間權利與義務的敘述，何者較不符合上述的精神？
 (A) 家人間無分性別，應該共同分擔家庭事務工作。
 (B) 家庭日常生活開銷，夫妻應平均分擔一人一半。
 (C) 夫妻婚後共同取得的財產，雙方皆能平等使用。
 (D) 無論兒子或女兒，皆享有相同的遺產繼承權利。
20. 年近七十歲的語真打算用 1000 萬元退休金投資理財，因年事已高，希望選擇能小額獲利且風險較低的理財工具。【表一】是語真針對目前投資環境所做的評估，根據內容判斷，下列哪種理財工具最符合他的需求？
 (A) 定期存款 (B) 共同基金 (C) 股票 (D) 債券。
21. 俊凱每天放學回家，總會自動自發完成家事。他認為：我做家事只要一小時的時間，下班後的父母身心疲累，完成家事經常需要耗費 2 小時，因此我做家事較為適當。俊凱的想法符合下列哪種經濟學的概念？
 (A) 分散風險 (B) 需求法則 (C) 比較利益 (D) 家庭倫理。
22. 某位醫師在未取得病患同意的情況下，利用該名病患的細胞株進行研究，並將其研究成果申請專利，而後把專利權販賣給生物科技公司。上述醫師的作法，忽略了下列何種倫理觀念？
 (A) 工作倫理 (B) 環境倫理 (C) 企業倫理 (D) 學術倫理。
23. 受新冠肺炎疫情的衝擊，伊庭經營的旅遊公司面臨財務危機，但伊庭不以惡性倒閉規避責任，反而積極開拓國內旅遊新商機，力圖維持公司的正常營運。下列何者最能說明伊庭的精神？
 (A) 承擔社會責任 (B) 提供就業機會 (C) 重視營業收入 (D) 分散投資風險。
24. 孟子曾說過：「斧斤以時入山林，材木不可勝用也。」這段話與永續發展的意思相似，主要在說明下列哪種概念？(甲) 不能使用資源(乙) 珍惜資源使用(丙) 資源不虞匱乏(丁) 要使資源再生。
 (A) 甲、乙 (B) 甲、丁 (C) 乙、丙 (D) 乙、丁。
25. 思維和成洋兩人共同籌資經營飲料店，結果負責會計工作的成洋盜用店內公款；思維清算飲料店財務後，發現尚負債 200 萬元，只好變賣房產償還債務。由上文判斷，該飲料店屬於下列哪一種經營型態？
 (A) 獨資企業 (B) 合夥企業 (C) 有限公司 (D) 股份有限公司。
26. 下列四人何者屬於失業狀態？(甲)文好辭職轉換跑道，還在等待新工作面試結果(乙)艾珍剛從大學畢業，想在家準備研究所的考試(丙)成瑋因公司人力調整，被迫退休在家含飴弄孫(丁)培豪結束經營多年的麵攤，準備加盟早午餐店。
 (A) 甲、乙 (B) 甲、丁 (C) 乙、丙 (D) 丙、丁。

理財工具	安全性	獲利性
定期存款	★★★★	★★
共同基金	★★★★	★★
股票	★★	★★★★★
債券	★★★★★	★★★★

註：★愈多代表安全性、獲利性愈高。

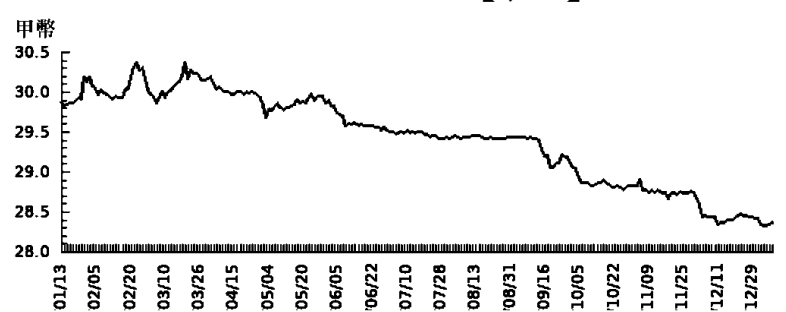
【表一】

27. 【表二】為某一便當店主打商品於試賣期間的銷售記錄，其中甲、乙、丙、丁、戊分別是由低到高排列的五種價格。該店販售的商品皆為當日製作，絕不販售隔夜商品。若表中甲、乙、丙、丁、戊皆非均衡價格，在不考量其他因素下，該商品的均衡價格最可能介於下列哪二者之間？
 (A) 甲、乙 (B) 乙、丙
 (C) 丙、丁 (D) 丁、戊。

當日價格 (元)	平均未賣出的商品數量 (個/天)
甲	0
乙	0
丙	3
丁	5
戊	8

【表二】

28. 【圖一】是一年來甲國貨幣兌換乙國貨幣的匯率變動情形，以乙國為主要貿易出口國的甲國，看到此變化後感到很憂心。根據表中內容判斷，若甲國的物價水準維持不變，下列何者最可能是甲國的憂慮？



【圖一】

29. 老師請裕玄從【表三】所列五組商品的價格與數量，選出三組符合供給法則的價量關係，並繪製成供給曲線圖。若裕玄的作答結果正確，下列何者最可能是他選擇的組合？
 (A) 甲、乙、丙 (B) 甲、乙、丁 (C) 乙、丙、戊 (D) 乙、丁、戊。
30. 世界自然基金會於 2007 年發起「地球一小時」世界關燈日活動，號召家庭與企業響應關燈一小時，其目的是希望用行動減少二氧化碳排放，降低人類活動對地球的傷害。上述活動，最可能是倡導下列哪一種目的？
 (A) 綠色消費的推廣 (B) 綠色生產的應用
 (C) 永續發展的實踐 (D) 社會公益的參與。

價量關係	價格(元)	數量(個)
甲	120	90
乙	90	100
丙	80	110
丁	60	70
戊	40	60

【表三】

新北市立福營國民中學 109 學年度第 1 學期第 3 次段考 9 年級公民科試題

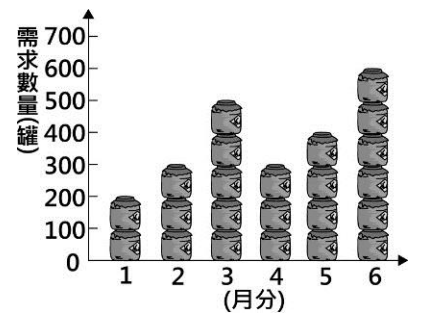
31. 宇晴、梓靈、相耘為食品工廠員工，老闆以同時段由其中二人工作的方式輪班生產饅頭與包子，且每人一次只負責生產一項產品，【表四】為他們的產能狀況。若宇晴與相耘搭檔生產時，相耘在生產饅頭上具有比較利益；而宇晴與梓靈搭檔生產時，梓靈在生產包子上具有比較利益，根據表中資訊判斷，下列對應關係何者正確？

店員 \ 產品	饅頭	包子
甲	50	40
乙	40	35
丙	25	25

【表四】

- (A) 甲：相耘，乙：宇晴，丙：梓靈
- (B) 甲：宇晴，乙：梓靈，丙：相耘
- (C) 甲：梓靈，乙：宇晴，丙：相耘
- (D) 甲：宇晴，乙：相耘，丙：梓靈。

32. 新祐家每個月第一天自製 400 罐泡菜販售，每份成本 120 元，售價 200 元，且為保持產品品質，當月沒賣完的產品就會銷毀，絕不在下個月販售。【圖二】為上半年消費者對新祐家自製泡菜的需求數量圖。根據圖中資料判斷，下列何者正確？



【圖二】

- (A) 總生產成本為 240,000 元
- (B) 6 月銷貨收入 1,200 元
- (C) 上半年利潤為 184,000 元
- (D) 總共賣出 2,000 罐泡菜

33. 市場上常見許多「仿冒商品」，也就是外觀和名牌商品幾乎一樣，但是價格較為低廉的商品。這類商品的存在，除了貌似名牌商品的外觀，主要還是因為消費者受需求法則影響的心理，所以總是能吸引人們購買。根據上述內容判斷，其影響消費行為的主要因素，與下列何者最為相似？

- (A) 偶像劇收視上升，周邊商品隨之熱賣
- (B) 國際紙漿價格上揚，民眾搶購衛生紙
- (C) 百貨公司舉辦週年慶，顧客絡繹不絕
- (D) 領到年終獎金，計畫更換最新款手機。

34. 【表五】為靜雅投資四檔基金一年來的分析表。根據表中內容判斷，哪一檔基金的投資報酬率最高？

- (A) 甲 (B) 乙 (C) 丙 (D) 丁。

共同基金	甲	乙	丙	丁
投資金額	105,000 元	100,000 元	60,000 元	150,000 元
贖回金額	95,000 元	107,000 元	65,000 元	156,000 元

【表五】

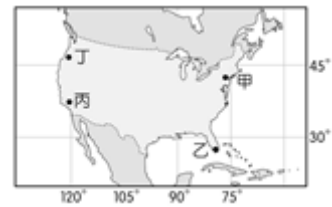
「贖回」是指投資人向基金管理公司要求退出其在共同基金內的投資，並將款項退還給投資人。

【公民科試題結束，尚有地理科試題，請繼續作答】

新北市立福營國中 109 學年度第一學期第三次段考九年級社會科地理試題

35. 西元 2010 年 4 月，密西西比河河口發生鑽油平臺斷裂事件，大量原油外洩，這場漏油事故不但嚴重威脅到當地海岸生態，如未及時封住，這些漂浮的油汙極有可能順著哪條洋流漂流到歐洲？

(A) 巴西暖流 (B) 墨西哥灣流
(C) 加利福尼亞涼流 (D) 阿拉斯加暖流



(圖一)

36. 承 35 題，請問這些漂浮的油汙順著該洋流首先會經過(圖一)中那一地點？

(A) 甲 (B) 乙 (C) 丙 (D) 丁。

37. 新年快樂！今年因疫情未退，最有看頭之跨年煙火活動均不復見，但或許可以回顧 2010 年於美國時代廣場揭幕熱鬧盛大氣氛影片，該地點位於美國最大商港，同時也是世界三大金融中心之一，請問此地點位在(圖一)中的何處？

(A) 甲 (B) 乙 (C) 丙 (D) 丁。

(圖二)為南美洲國家政區圖請回答下列第 38 ~40 題：

38. 南美洲國家之一的 A 國派員參加 OPEC 會議，請問：派員參加該會議的 A 國位於(圖二)中何地？

(A) 甲 (B) 乙 (C) 丙 (D) 丁。

39. 熱帶雨林被稱為「地球之肺」，提供大量氧氣以供生物生存。關於中南美洲熱帶雨林的位置，主要位於(圖二)中哪個國家境內？

(A) 甲 (B) 乙 (C) 丙 (D) 丁。



(圖二)

閱讀下列短文：

小慶決定去南美洲各國走走看看，以下是她的重點行程：

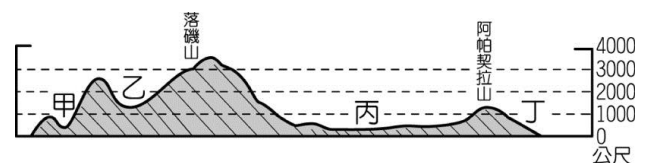
首先前往里約熱內盧參觀著名的耶穌像，並欣賞熱鬧的嘉年華會。之後飛往彭巴草原體驗牧場風光；最後前往山區參觀印加古文明並買件當地特產的天然羊駝毛衣穿穿！！

40. 請問根據上述短文，(圖二)中那一個國家可能沒有被排入小慶的行程順序中？

(A) 甲 (B) 乙 (C) 丙 (D) 丁。

41. 馬克吐溫是美國的幽默大師、小說家、作家，他的經典著作「湯姆歷險記」，故事的地點發生在北美洲廣闊的平原地區，順著旁邊南向的河流，可以一直到達墨西哥灣。請問：上述所提到的平原應位於(圖三)中何處？

(A) 甲 (B) 乙 (C) 丙 (D) 丁。



(圖三)

42. 北美洲是世界經濟活動發達的地區，境內各種產業活動相當多樣化。請問：北美洲主要的工業區分布於(圖四)中的何處？

(A) 甲、辛 (B) 丙、丁
(C) 戊、己 (D) 乙、庚

43. 美國中西部的內華達州，位於盛行西風背風側，是美國最乾燥的一州，賭城「拉斯維加斯」就位於此。請問該城接近(圖四)中何處？

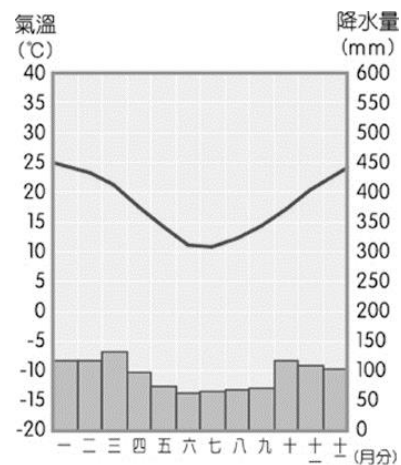
(A) 戊 (B) 己 (C) 庚 (D) 丁。



(圖四)

44. 承上題，內華達州的沙漠成因，與下列哪個地區的沙漠相同？
 (A)墨西哥境內沙漠 (B)西亞阿拉伯沙漠 (C)智利北部沙漠
 (D)阿根廷南部巴塔哥尼亞沙漠。

45. 讀(圖五)，可得知下列那一敘述是正確的？
 (A)此地為溫帶地中海型氣候，可能盛產葡萄酒
 (B)此地氣候特徵與溫哥華相似，但季節剛好相反
 (C)讀圖可知，此地的年溫差約為攝氏35度
 (D)讀圖可知，此地的年降水量不到150 mm。



(圖五)

46. 中南美洲地區的人口分布不均，人口大量集中在某些大都市，因此有些國家都市化程度非常高。請問：該地區都市化程度高的最主要影響因素為何？
 (A)礦產資源豐富 (B)鄉村經濟蕭條 (C)熱帶栽培發達 (D)工商業皆發達。
47. 昔日中華成棒隊在世界大賽中經常對上古巴隊，該隊的打擊及守備都相當優秀，因此成為中華隊的勁敵。請問古巴位於下列哪一個地理區？
 (A)墨西哥高原 (B)中美地峽 (C)西印度群島 (D)亞馬孫盆地。
48. 近數十年來，巴西積極開發境內的亞馬孫河流域，卻屢遭各國批評。下列何者最可能是各國反對亞馬孫河流域過度開發的主要原因之一？
 (A)森林內蘊藏物種繁多，牽繫著地球的生態平衡
 (B)擁有廣大針葉林，是全球木材資源的主要供應地
 (C)下游地區有阿茲提克文明的遺址，是人類學研究的重要題材
 (D)流域面積廣大，支流眾多，是南美國際貿易重要的航運路線。
49. 下表為美國西南部溫帶地中海型氣候區的特色成因，哪一項最為正確？

	(A)	(B)	(C)	(D)
冬季	西風	上升氣流	信風	沉降氣流
夏季	沉降氣流	西風	沉降氣流	西風

50. 舉世聞名的巴拿馬運河克服了陸地的阻礙，使分處於美洲兩側的大西洋及太平洋得以相通。請問該條運河主要是利用下列何種方法調節兩大洋的水位？
 (A)興建堤防 (B)填海造陸 (C)開挖渠道 (D)興建水閘。

新北市立福營國中 109 學年度第一學期第三次段考九年級社會科答案卷

1	2	3	4	5	6	7	8	9	10
A	C	D	B	D	D	D	C	AB	AC
11	12	13	14	15	16	17	18	19	20
B	C	A	B	A	C	A	C	B	D
21	22	23	24	25	26	27	28	29	30
C	A	A	D	B	B	B	D	D	C
31	32	33	34	35	36	37	38	39	40
A	D	C	C	B	B	A	B	C	B
41	42	43	44	45	46	47	48	49	50
C	A	B	D	B	B	C	A	A	D